

1. Determina per quali valori del parametro reale  $k$  l'equazione  $x^2 + ky^2 - 2x + 4y - 1 = 0$  rappresenta una circonferenza, una parabola con asse parallelo agli assi coordinati, un'iperbole, un'ellisse.

A. Perché l'equazione rappresenti una circonferenza, i due coefficienti dei termini di secondo grado devono essere uguali:

$$k = 1$$

B. Perché l'equazione rappresenti una parabola con asse parallelo all'asse  $y$ , il coefficiente del termine di secondo grado in  $y$  deve essere nullo; perché l'equazione rappresenti una parabola con asse parallelo all'asse  $x$ , il coefficiente del termine di secondo grado in  $x$  deve essere nullo e questo non può verificarsi, perciò:

$$k = 0$$

C. Perché l'equazione rappresenti un'iperbole, i due coefficienti dei termini di secondo grado devono essere discordi:

$$k < 0$$

D. Perché l'equazione rappresenti un'ellisse, i coefficienti dei termini di secondo grado e il coefficiente  $s$  devono essere concordi, perciò entrambi positivi (visto che il coefficiente del termine di secondo grado in  $x$  vale 1). Cominciamo con il determinare l'equazione canonica dell'ellisse, con il completamento del quadrato:

$$(x^2 - 2x + 1) + k \left( y^2 + \frac{4}{k}y + \frac{4}{k^2} \right) = 1 + 1 + \frac{4}{k}$$

Ora abbiamo il coefficiente  $s$  che è il secondo membro dell'equazione:

$$\begin{cases} k > 0 \\ 2 + \frac{4}{k} \geq 0 \end{cases} \quad \begin{cases} k > 0 \\ \frac{k+2}{k} \geq 0 \end{cases} \quad \begin{cases} k > 0 \\ k \leq -2 \vee k > 0 \end{cases}$$

$$k > 0$$

2. Determina le soluzioni del seguente sistema, al variare del parametro  $k$ , con il metodo grafico:

$$\begin{cases} \sqrt{9-x^2} - kx + 4k = 0 \\ 0 < x \leq 3 \end{cases}$$

$$\begin{cases} y = \sqrt{9-x^2} \\ y - kx + 4k = 0 \\ 0 < x \leq 3 \end{cases} \quad \begin{cases} x^2 + y^2 = 9 \wedge y \geq 0 \\ y - kx + 4k = 0 \\ 0 < x \leq 3 \end{cases}$$

Si tratta di una semicirconferenza, con centro nell'origine e raggio 3 e di un fascio proprio di rette di centro  $(4; 0)$ .

Impongo il passaggio del fascio per il punto  $A(0; 3)$ :

$$3 - 0 + 4k = 0 \quad k = -\frac{3}{4}$$

Il passaggio per  $B(3; 0)$  mi dà la generatrice  $y = 0$  che si ottiene per  $k = 0$ .

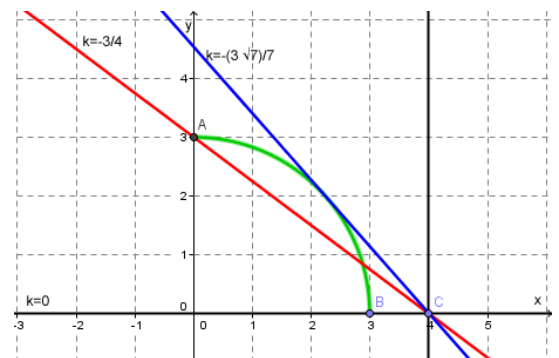
Determino la tangente, ponendo la distanza del fascio dal centro della circonferenza uguale al raggio:

$$\frac{|4k|}{\sqrt{1+k^2}} = 3 \quad 9k^2 - 16k^2 + 9 = 0 \quad k_{1,2} = \pm \frac{3\sqrt{7}}{7}$$

Il valore da scegliere è quello negativo. Si ottiene quindi:

$$1 \text{ soluzione per } -\frac{3}{4} \leq k \leq 0$$

$$2 \text{ soluzioni per } -\frac{3\sqrt{7}}{7} \leq k < -\frac{3}{4}$$



3. Risolvi graficamente il seguente sistema di disequazioni: 
$$\begin{cases} 9x^2 + 4y^2 - 54x + 8y + 49 < 0 \\ x^2 + y^2 - 6x + 2y \geq -6 \end{cases}$$

La prima equazione rappresenta la parte interna di un'ellisse traslata, escluso il bordo, che, infatti, nell'immagine a lato è tratteggiato:

$$9(x^2 - 6x + 9) + 4(y^2 + 2y + 1) = -49 + 81 + 4$$

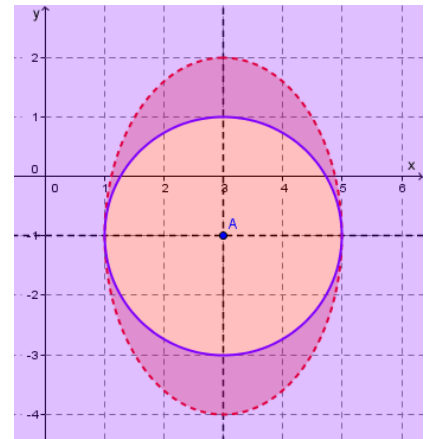
$$9(x - 3)^2 + 4(y + 1)^2 = 36$$

$$\frac{(x - 3)^2}{4} + \frac{(y + 1)^2}{9} = 1$$

Si tratta di un'ellisse di centro  $A(3; -1)$  con semiasse maggiore (quello verticale) pari a 3 e semiasse minore pari a 2.

La seconda equazione rappresenta la parte esterna di una circonferenza di centro  $A$  e raggio 2, compreso il bordo, che, infatti, nell'immagine a lato è continuo.

La parte in comune è rappresentata da quella più marcata nel disegno a lato.



4. Trasla il poligono di vertici  $A(1; 3)$ ,  $B(2; 1)$ ,  $C(5; 7)$  e  $D(0; 4)$  secondo il vettore  $\vec{v}(3; -4)$  e scrivi le equazioni della traslazione.

Le equazioni della traslazione sono: 
$$\begin{cases} x' = x + 3 \\ y' = y - 4 \end{cases}$$

Sostituendo le coordinate dei quattro punti nelle equazioni della traslazione, otteniamo le coordinate dei punti traslati:

$$A(1; 3) \xrightarrow{\vec{v}(3; -4)} A'(4; -1)$$

$$B(2; 1) \xrightarrow{\vec{v}(3; -4)} B'(5; -3)$$

$$C(5; 7) \xrightarrow{\vec{v}(3; -4)} C'(8; 3)$$

$$D(0; 4) \xrightarrow{\vec{v}(3; -4)} D'(3; 0)$$

5. Al triangolo ABC, di vertici  $A(-2; 3)$ ,  $B(3; 4)$  e  $C(5; 5)$ , viene applicata una traslazione e la sua immagine A'B'C' ha come baricentro  $G'(-1; 2)$ . Trova le coordinate di A', B' e C'.

Determino innanzi tutto le coordinate del baricentro G del triangolo ABC:

$$G\left(\frac{-2 + 3 + 5}{3}; \frac{3 + 4 + 5}{3}\right) = (2; 4)$$

Conoscendo il punto G e il suo traslato G', posso trovare le equazioni della traslazione:

$$\begin{cases} x' = x - 3 \\ y' = y - 2 \end{cases}$$

Applico ora la traslazione al triangolo di vertici A, B e C:

$$A(-2; 3) \xrightarrow{\vec{v}(-3; -2)} A'(-5; 1)$$

$$B(3; 4) \xrightarrow{\vec{v}(-3; -2)} B'(0; 2)$$

$$C(5; 5) \xrightarrow{\vec{v}(-3; -2)} C'(2; 3)$$

6. Qual è l'immagine della retta  $r$ , di coefficiente angolare  $-4$  e passante per  $(-2; 1)$ , nella traslazione di vettore  $\vec{v} (1; -1)$ ?

Determino innanzi tutto l'equazione della retta  $r$ :  $y - 1 = -4(x + 2)$

Applico poi la traslazione:

$$\begin{cases} x' = x + 1 \\ y' = y - 1 \end{cases} \quad \begin{cases} x = x' - 1 \\ y = y' + 1 \end{cases}$$

$$y' + 1 - 1 = -4(x' - 1 + 2)$$

Perciò l'immagine di  $r$  è:

$$y = -4x - 4$$

7. Sono dati i vertici di un quadrilatero:  $A (-4; 2)$ ,  $B (-6; 2)$ ,  $C (-7; 0)$  e  $D (-4; 0)$ . Determina il poligono simmetrico rispetto al punto  $(-2; 1)$  e rappresenta i due poligoni.

Le equazioni della simmetria sono:

$$\begin{cases} x' = -4 - x \\ y' = 2 - y \end{cases}$$

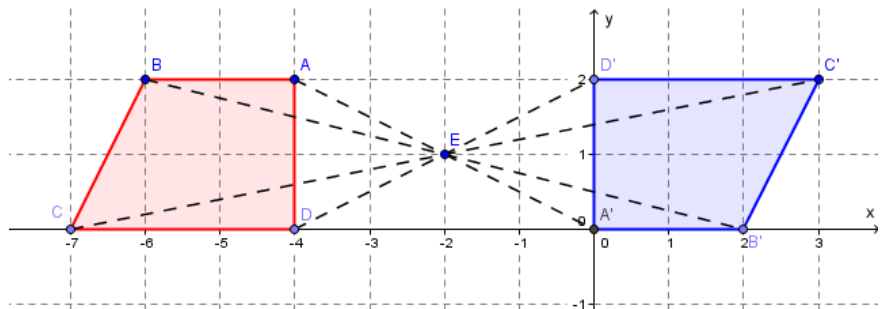
Trasformiamo i punti:

$$A (-4; 2) \xrightarrow{\sigma} A' (0; 0)$$

$$B (-6; 2) \xrightarrow{\sigma} B' (2; 0)$$

$$C (-7; 0) \xrightarrow{\sigma} C' (3; 2)$$

$$D (-4; 0) \xrightarrow{\sigma} D' (0; 2)$$



8. Scrivi l'equazione della curva simmetrica di  $xy = 3$  rispetto al punto  $M (-2; -1)$ .

Le equazioni della simmetria e della sua reciproca sono:

$$\begin{cases} x' = -4 - x \\ y' = -2 - y \end{cases} \quad \begin{cases} x = -4 - x' \\ y = -2 - y' \end{cases}$$

Trasformiamo la curva:

$$(-4 - x)(-2 - y) = 3 \quad (x + 4)(y + 2) = 3$$

$$y + 2 = \frac{3}{x + 4} \quad y = -\frac{2x + 5}{x + 4}$$

Risolvi:

$$\begin{aligned}
 9. \quad & \sqrt{3} \cos \left(-\frac{\pi}{6}\right) + \sqrt{3} \operatorname{sen} \left(-\frac{\pi}{3}\right) - \cos \left(-\frac{\pi}{4}\right) - \cos \left(-\frac{\pi}{3}\right) \operatorname{cosec} \left(-\frac{\pi}{4}\right) + 2 \operatorname{tg} \left(-\frac{\pi}{4}\right) \\
 & = \sqrt{3} \cdot \frac{\sqrt{3}}{2} + \sqrt{3} \cdot \left(-\frac{\sqrt{3}}{2}\right) - \frac{\sqrt{2}}{2} - \frac{1}{2} \cdot (-\sqrt{2}) + 2 \cdot (-1) = \frac{3}{2} - \frac{3}{2} - \frac{\sqrt{2}}{2} + \frac{\sqrt{2}}{2} - 2 = -2
 \end{aligned}$$

$$\begin{aligned}
 10. \quad & \operatorname{cosec} \left(\frac{\pi}{2} - x\right) \operatorname{tg} \left(\frac{\pi}{2} - x\right) + \operatorname{sen} \left(\frac{\pi}{2} - x\right) - \sec \left(\frac{\pi}{2} - x\right) \\
 & = \frac{1}{\cos x} \operatorname{ctg} x + \cos x - \frac{1}{\operatorname{sen} x} = \frac{1}{\operatorname{sen} x} + \cos x - \frac{1}{\operatorname{sen} x} = \cos x
 \end{aligned}$$

$$\begin{aligned}
 11. \quad & \operatorname{tg} (\pi - x) \operatorname{ctg} x - \operatorname{ctg} (\pi - x) \operatorname{tg} x \\
 & = -\operatorname{tg} x \operatorname{ctg} x + \operatorname{ctg} x \operatorname{tg} x = -1 + 1 = 0
 \end{aligned}$$

$$\begin{aligned}
 12. \quad & [\operatorname{tg} (\pi + x) + \operatorname{tg} x] \operatorname{cosec} (\pi + x) - \sec (\pi + x) \\
 & = [\operatorname{tg} x + \operatorname{tg} x] \cdot \frac{1}{-\operatorname{sen} x} - \frac{1}{-\cos x} = 2 \frac{\operatorname{sen} x}{\cos x} \cdot \frac{1}{-\operatorname{sen} x} + \frac{1}{\cos x} = -\frac{2}{\cos x} + \frac{1}{\cos x} = -\frac{1}{\cos x}
 \end{aligned}$$