

Problema 1

Data la funzione $f(x) = \frac{ax^3 + 6x^2 + b}{cx^2}$, con $a, b \neq 0$:

- A. determina i coefficienti a, b, c in modo che il punto $M(-2; 0)$ sia un massimo relativo e la retta $2x - 3y + 6 = 0$ sia asintoto obliquo;
 B. esegui lo studio e disegna il grafico;
 C. calcola l'area della regione finita di piano delimitata dal grafico di f , dall'asse delle ascisse e dalla retta $x - 4 = 0$.

- A. La funzione passa per il punto M, ha nel punto M un massimo, perciò la sua derivata prima ($f'(x) = \frac{3ax^4 + 12x^3 - 2ax^4 - 12x^3 - 2bx}{cx^4}$) calcolata in M sarà nulla ed inoltre sappiamo che il coefficiente angolare dell'asintoto obliquo è $2/3$:

$$\begin{cases} \frac{-8a + 24 + b}{4c} = 0 \\ f'(-2) = \frac{-8a - 2b}{-8c} = 0 \\ \lim_{x \rightarrow \infty} \frac{ax^3 + 6x^2 + b}{cx^3} = \frac{2}{3} \end{cases} \quad \begin{cases} b = 8a - 24 \\ b = -4a \\ \frac{a}{c} = \frac{2}{3} \end{cases} \quad \begin{cases} a = 2 \\ b = -8 \\ c = 3 \end{cases} \quad y = \frac{2x^3 + 6x^2 - 8}{3x^2}$$

- B. Studiamo la funzione:

Dominio: $D =]-\infty; 0[\cup]0; +\infty[$

Intersezioni con gli assi: $\begin{cases} y = \frac{2x^3 + 6x^2 - 8}{3x^2} \\ y = 0 \end{cases} \quad \begin{cases} x^3 + 3x^2 - 4 = 0 \\ y = 0 \end{cases}$

$$\begin{array}{c|ccc|c} 1 & 1 & 3 & 0 & -4 \\ & & 1 & 4 & 4 \\ \hline & 1 & 4 & 4 & 0 \end{array}$$

$M(-2; 0) \quad A(1; 0)$

Positività: $\frac{2x^3 + 6x^2 - 8}{3x^2} > 0 \quad \frac{2(x-1)(x+2)^2}{3x^2} > 0 \quad x > 1$

$\lim_{x \rightarrow 0^\pm} \frac{2(x-1)(x+2)^2}{3x^2} = -\infty \quad x = 0 \text{ asintoto verticale}$

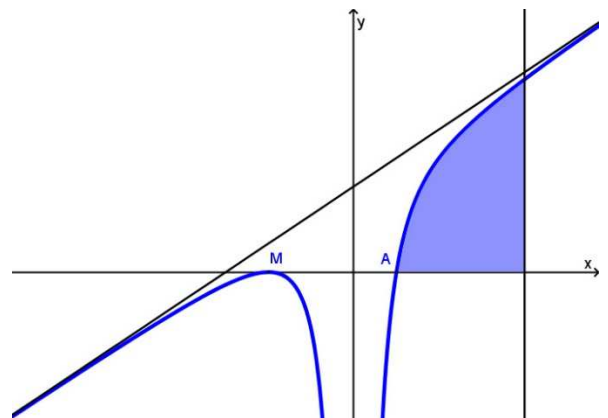
Asintoto obliquo: $2x - 3y + 6 = 0$

$y' = \frac{6x^4 + 12x^3 - 4x^4 - 12x^3 + 16x}{3x^4} = \frac{2x^3 + 8}{3x^3} > 0$

Overo la funzione è crescente per $x < -2 \vee x > 0$ e ha un punto di massimo in $M(-2; 0)$, come ribadito anche nel testo.

$y'' = \frac{16}{3} \left(-\frac{3}{x^4}\right) = -\frac{16}{x^4} > 0$

La funzione ha concavità rivolta sempre verso il basso.



- C. L'area è quella colorata nel grafico, perciò:

$$\int_1^4 \frac{2x^3 + 6x^2 - 8}{3x^2} dx = \frac{2}{3} \int_1^4 \left(x + 3 - \frac{4}{x^2}\right) dx = \frac{2}{3} \left[\frac{1}{2}x^2 + 3x + \frac{4}{x}\right]_1^4 = \frac{2}{3} \left(8 + 12 + 1 - \frac{1}{2} - 3 - 4\right) = 9$$

Problema 2

Un vaso da fiori ha il profilo mostrato nel grafico della figura 1, dove le misure sono in centimetri. Il profilo è costituito da:

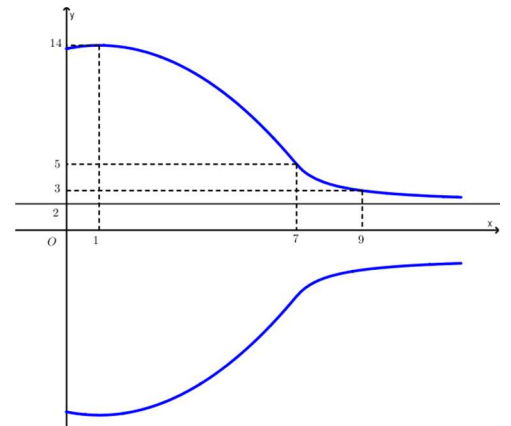
- un arco di parabola per $0 \leq x \leq 7$;
 - una funzione omografica per $7 < x \leq 12$.
- A. Determina l'equazione del profilo del vaso.
 B. Verifica che si tratta di una funzione continua e derivabile in tutto il suo dominio.
 C. Calcola l'area di una sezione del vaso, in dm^2 .
 D. Determina la massima capienza del vaso, in dm^3 . Il vaso può contenere un litro di acqua?

- A. Determino innanzi tutto l'equazione della parabola, di equazione generica $y = ax^2 + bx + c$, con vertice in $(1; 14)$ e passante per i punti $(7; 5)$ (come indicato nella figura):

$$\begin{cases} -\frac{b}{2a} = 1 \\ 14 = a + b + c \\ 5 = 49a + 7b + c \end{cases} \quad \begin{cases} b = -2a \\ c = 14 + a \\ 49a - 14a + 14 + a = 5 \end{cases} \quad \begin{cases} a = -\frac{1}{4} \\ b = \frac{1}{2} \\ c = \frac{55}{4} \end{cases}$$

La parabola ha equazione: $y = -\frac{1}{4}x^2 + \frac{1}{2}x + \frac{55}{4}$

Della funzione omografica, invece, so che ha equazione generica $y = \frac{ax+b}{cx+d}$ e impongo il passaggio per $(7; 5)$, $(9; 3)$ e dal grafico evinco che ha asintoto orizzontale $y = 2$, perciò: $\frac{a}{c} = 2$.



$$\begin{cases} \frac{a}{c} = 2 \\ 5 = \frac{14 + \frac{b}{c}}{7 + \frac{d}{c}} \\ 3 = \frac{18 + \frac{b}{c}}{9 + \frac{d}{c}} \end{cases} \quad \begin{cases} \frac{a}{c} = 2 \\ 35 + 5\frac{d}{c} = 14 + \frac{b}{c} \\ 27 + 3\frac{d}{c} = 18 + \frac{b}{c} \end{cases} \quad \begin{cases} \frac{a}{c} = 2 \\ 8 + 2\frac{d}{c} = -4 \\ \frac{b}{c} = 9 + 3\frac{d}{c} \end{cases} \quad \begin{cases} \frac{a}{c} = 2 \\ \frac{d}{c} = -6 \\ \frac{b}{c} = -9 \end{cases} \quad y = \frac{2x - 9}{x - 6}$$

- B. Le due funzioni sono continue negli intervalli di definizione ed entrambe passano per il punto $(7; 5)$, perciò **la funzione è continua**.

Verifichiamo se è derivabile:

$$y = \begin{cases} -\frac{1}{4}x^2 + \frac{1}{2}x + \frac{55}{4} & 0 \leq x \leq 7 \\ \frac{2x - 9}{x - 6} & 7 < x \leq 12 \end{cases} \quad y' = \begin{cases} -\frac{1}{2}x + \frac{1}{2} \\ -3 \\ \frac{-3}{(x - 6)^2} \end{cases}$$

$$\lim_{x \rightarrow 7^-} \left(-\frac{1}{2}x + \frac{1}{2}\right) = -3$$

$$\lim_{x \rightarrow 7^+} \frac{-3}{(x - 6)^2} = -3$$

La funzione è derivabile.

C. Per determinare l'area della sezione del vaso, calcoliamo l'area sottesa dal grafico, moltiplicandola per 2:

$$\begin{aligned}
 S &= 2 \left(\int_0^7 \left(-\frac{1}{4}x^2 + \frac{1}{2}x + \frac{55}{4} \right) dx + \int_7^{12} \frac{2x-9}{x-6} dx \right) = 2 \left[-\frac{1}{12}x^3 + \frac{1}{4}x^2 + \frac{55}{4}x \right]_0^7 + 2 \int_7^{12} \frac{2x-12+3}{x-6} dx = \\
 &= \frac{7}{2} \left(-\frac{49}{3} + 7 + 55 \right) + 2 [2x + 3 \ln|x-6|]_7^{12} = \frac{959}{6} + 2(10 + 3 \ln 6) = \frac{1079}{6} + 6 \ln 6
 \end{aligned}$$

La misura ottenuta è espressa in cm^2 , perciò dobbiamo eseguire l'equivalenza per ottenere il risultato in dm^2 :

$$S = \left(\frac{1079}{6} + 6 \ln 6 \right) \text{cm}^2 = \mathbf{1,91 \text{ dm}^2}$$

D. Determino ora il volume:

$$\begin{aligned}
 V &= \pi \left(\int_0^7 \left(-\frac{1}{4}x^2 + \frac{1}{2}x + \frac{55}{4} \right)^2 dx + \int_7^{12} \left(\frac{2x-9}{x-6} \right)^2 dx \right) = \\
 &= \pi \int_0^7 \left(\frac{1}{16}x^4 + \frac{1}{4}x^2 + \frac{55^2}{16} - \frac{1}{4}x^3 - \frac{55}{8}x^2 + \frac{55}{4}x \right) dx + \pi \int_7^{12} \left(4 + \frac{9}{(x-6)^2} + \frac{12}{x-6} \right) dx = \\
 &= \pi \left[\frac{1}{80}x^5 - \frac{1}{16}x^4 - \frac{53}{24}x^3 + \frac{55}{8}x^2 + \frac{55^2}{16}x \right]_0^7 + \pi \left[4x - \frac{9}{x-6} + 12 \ln|x-6| \right]_7^{12} = \\
 &= \frac{231091}{240} \pi + 20 \pi - \frac{3}{2} \pi + 9 \pi + 12 \pi \ln 6 = \frac{237691}{240} \pi + 12 \pi \ln 6
 \end{aligned}$$

La misura è espressa in cm^3 , perciò trasformiamo in dm^3 :

$$V = \left(\frac{237691}{240} \pi + 12 \pi \ln 6 \right) \text{cm}^3 = \mathbf{3,18 \text{ dm}^3}$$

Il vaso può contenere non solo un litro d'acqua, visto che può arrivare a 3L.

Questionario

1. Le rette r e s sono tangenti alla parabola di equazione $y = -\frac{1}{2}x^2 + 2x$ rispettivamente nel punto di ascissa 0 e nel punto di ascissa 3. Trova l'area del triangolo mistilineo che ha per lati rettilinei le due rette e per lato curvo la parabola.

Il punto della parabola di ascissa nulla è l'origine O , mentre il punto di ascissa 3 è: $A\left(3; \frac{3}{2}\right)$.

Determino le due tangenti alla parabola, calcolando la derivata della parabola e, sostituendo le ascisse dei due punti O e A , trovo il coefficiente angolare di r e s rispettivamente. Successivamente, uso la formula della retta passante per un punto e di coefficiente angolare noto:

$$\begin{array}{lll}
 y' = -x + 2 & & \\
 r: y - y_o = f'(x_o)(x - x_o) & y - 0 = 2(x - 0) & y = 2x \\
 s: y - y_A = f'(x_A)(x - x_A) & y - \frac{3}{2} = -1(x - 3) & y = -x + \frac{9}{2}
 \end{array}$$

La situazione è rappresentata a lato. Determino l'ascissa del punto B , intersezione delle due rette tangenti:

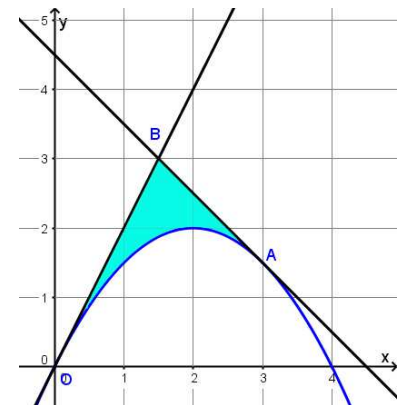
$$\begin{cases} y = 2x \\ y = -x + \frac{9}{2} \end{cases} \quad \begin{cases} 2x = -x + \frac{9}{2} \\ y = 2x \end{cases} \quad \begin{cases} x = \frac{3}{2} \\ y = 3 \end{cases}$$

A questo punto, posso calcolare l'area:

$$\int_0^{\frac{3}{2}} \left(2x + \frac{1}{2}x^2 - 2x\right) dx + \int_{\frac{3}{2}}^3 \left(-x + \frac{9}{2} + \frac{1}{2}x^2 - 2x\right) dx =$$

$$= \int_0^{\frac{3}{2}} \left(\frac{1}{2}x^2\right) dx + \int_{\frac{3}{2}}^3 \left(\frac{1}{2}x^2 - 3x + \frac{9}{2}\right) dx = \left[\frac{1}{6}x^3\right]_0^{\frac{3}{2}} + \left[\frac{1}{6}x^3 - \frac{3}{2}x^2 + \frac{9}{2}x\right]_{\frac{3}{2}}^3 =$$

$$= \frac{1}{6} \cdot \frac{27}{8} + \frac{1}{6} \cdot 27 - \frac{3}{2} \cdot 9 + \frac{9}{2} \cdot 3 - \frac{1}{6} \cdot \frac{27}{8} + \frac{3}{2} \cdot \frac{9}{4} - \frac{9}{2} \cdot \frac{3}{2} = \frac{9}{2} + \frac{27}{8} - \frac{27}{4} = \frac{9}{8} (4 + 3 - 6) = \frac{9}{8}$$



2. Determina il valore positivo di a tale che la parabola $y = x^2 + 1$ divida in due parti equivalenti l'area del rettangolo con vertici $(0; 0)$, $(a; 0)$, $(0; a^2 + 1)$ e $(a; a^2 + 1)$.

I punti indicati, vertici del rettangolo, sono:

$$O(0; 0) \quad C(a; 0) \quad A(a; a^2 + 1) \quad B(0; a^2 + 1)$$

Il rettangolo viene diviso in due parti (indicate in verde e in azzurro nella figura) che sono tra loro equivalenti, perciò, visto che l'area del rettangolo è $a(a^2 + 1)$:

$$\int_0^a (x^2 + 1) dx = \frac{1}{2} a(a^2 + 1)$$

$$\left[\frac{1}{3}x^3 + x\right]_0^a = \frac{1}{2}a^3 + \frac{1}{2}a$$

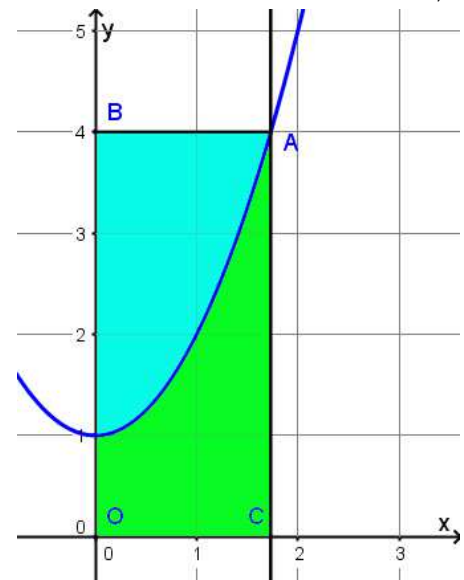
$$\frac{1}{3}a^3 + a = \frac{1}{2}a^3 + \frac{1}{2}a \quad a^3 - 3a = 0 \quad a(a^2 - 3) = 0$$

Tre sono le soluzioni dell'equazione:

$$a_1 = 0 \quad a_2 = \sqrt{3} \quad a_3 = -\sqrt{3}$$

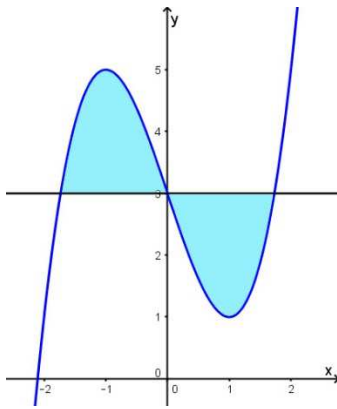
La soluzione richiesta è: $a = \sqrt{3}$.

USA Harvard – MIT Mathematics Tournament, HMMT



3. Determina il volume del solido generato dalla rotazione attorno alla retta di equazione $y = 3$ della regione di piano delimitata dalla curva di equazione $y = x^3 - 3x + 3$ e dalla retta stessa.

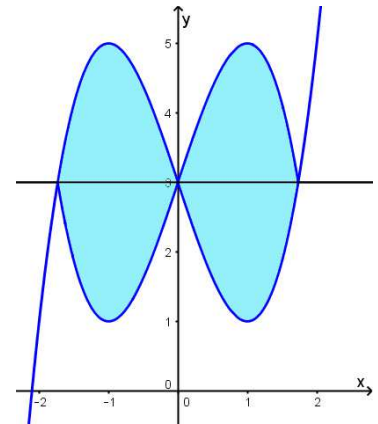
Esame di Stato, Liceo Scientifico, Corso di ordinamento, Sessione straordinaria, 2015, quesito 1



La curva incontra la retta nel suo centro di simmetria. Il solido generato dalla rotazione attorno alla retta è costituito da due parti perfettamente uguali, data la simmetria della curva. Per questo motivo, è sufficiente determinare il volume della rotazione di una delle due parti e poi moltiplicarlo per due:

$$V = 2\pi \int_0^{\sqrt{3}} (3 - x^3 + 3x - 3)^2 dx$$

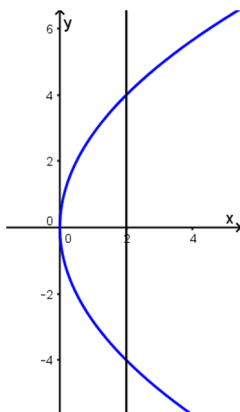
dove $(\pm\sqrt{3}; 3)$ sono le coordinate dei punti di intersezione tra la curva data e la retta $y = 3$.



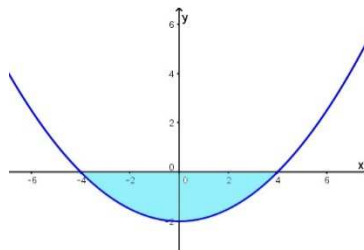
$$\begin{aligned} V &= 2\pi \int_0^{\sqrt{3}} (-x^3 + 3x)^2 dx = 2\pi \int_0^{\sqrt{3}} (x^6 - 6x^4 + 9x^2) dx = 2\pi \left[\frac{1}{7}x^7 - \frac{6}{5}x^5 + 3x^3 \right]_0^{\sqrt{3}} = \\ &= 2\pi \cdot 9\sqrt{3} \left(\frac{3}{7} - \frac{6}{5} + 1 \right) = 18\sqrt{3} \pi \cdot \frac{15 - 42 + 35}{35} = \frac{144}{35} \sqrt{3} \pi \end{aligned}$$

4. Determina il volume del solido generato dalla rotazione attorno alla retta di equazione $x = 2$ della parte di piano delimitata dalla parabola di equazione $y^2 = 8x$ e dalla retta stessa.

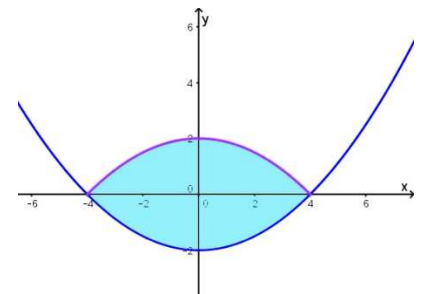
Esame di Stato, Liceo Scientifico, Corso di ordinamento, Sessione suppletiva, 2015, quesito 5



Ecco la rappresentazione del problema.



Per rendere la situazione più semplice, possiamo rappresentarla rispetto all'asse x , traslando la parabola, in modo che l'asse x coincida con la retta $x = 2$ del testo.



A questo punto diventa facile calcolare il volume richiesto.

$$\begin{aligned} V &= 2\pi \int_0^4 \left(-\frac{1}{8}x^2 + 2 \right)^2 dx = 2\pi \int_0^4 \left(\frac{1}{64}x^4 - \frac{1}{2}x^2 + 4 \right) dx = 2\pi \left[\frac{1}{320}x^5 - \frac{1}{6}x^3 + 4x \right]_0^4 = \\ &= 32\pi \left(\frac{4 \cdot 4 \cdot 4}{320} - \frac{4}{6} + 1 \right) = 32\pi \left(\frac{1}{5} - \frac{2}{3} + 1 \right) = \frac{256}{15} \pi \end{aligned}$$

5. Dopo aver rappresentato graficamente la funzione $y = \frac{2x^2+1}{x^2}$, determina l'area della regione illimitata compresa fra il grafico e l'asintoto orizzontale della funzione, i cui punti hanno ascissa maggiore di 1.

La funzione è algebrica razionale fratta. Il dominio è $D = \mathbb{R} - \{0\}$, è sempre positiva, non ha intersezioni con gli assi e ha come asintoto orizzontale la retta $y = 2$ e come asintoto verticale l'asse y :

$$\lim_{x \rightarrow 0^\pm} \frac{2x^2 + 1}{x^2} = +\infty \qquad \lim_{x \rightarrow \pm\infty} \frac{2x^2 + 1}{x^2} = 2$$

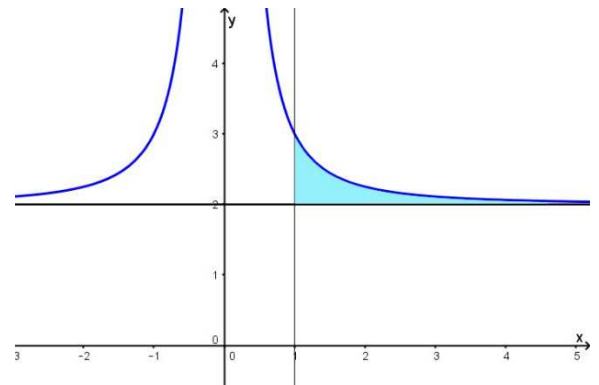
$$y' = \frac{4x^3 - 4x^3 - 2x}{x^4} = -\frac{2}{x^3} \qquad y'' = \frac{6}{x^4}$$

La funzione è crescente nel secondo quadrante e decrescente nel primo quadrante. Non ha punti stazionari. La sua concavità è sempre rivolta verso l'alto.

Rappresentata la funzione, posso procedere al calcolo dell'area:

$$A = \int_1^{+\infty} \left(\frac{2x^2 + 1}{x^2} - 2 \right) dx = \lim_{z \rightarrow +\infty} \int_1^z \left(2 + \frac{1}{x^2} - 2 \right) dx =$$

$$= \lim_{z \rightarrow +\infty} \left[-\frac{1}{x} \right]_1^z = \lim_{z \rightarrow +\infty} \left(-\frac{1}{z} + 1 \right) = 1$$



6. Nel grafico della figura 2 è rappresentata la funzione $y = \frac{1}{(ax+b)^2}$. Determina a e b , sapendo che la regione illimitata colorata ha area $\frac{1}{2}$.

Il testo mi dà come indicazione:

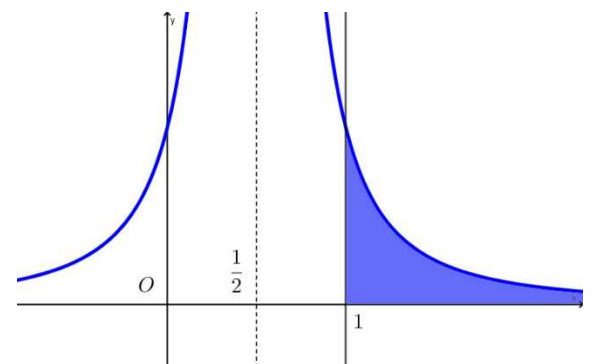
$$\int_1^{+\infty} \frac{1}{(ax+b)^2} dx = \frac{1}{2}$$

Il grafico mi dice che:

$$\lim_{x \rightarrow \frac{1}{2}} \frac{1}{(ax+b)^2} = +\infty$$

E da queste informazioni deduco:

$$\begin{cases} \lim_{x \rightarrow \frac{1}{2}} (ax+b)^2 = 0 \\ \lim_{z \rightarrow +\infty} \int_1^z \frac{1}{(ax+b)^2} dx = \frac{1}{2} \end{cases} \quad \begin{cases} \left(\frac{1}{2}a+b\right)^2 = 0 \\ \lim_{z \rightarrow +\infty} \left[-\frac{1}{a(ax+b)} \right]_1^z = \frac{1}{2} \end{cases}$$



$$\begin{cases} a = -2b \\ \lim_{z \rightarrow +\infty} \left[-\frac{1}{a(az+b)} + \frac{1}{a^2+ab} \right] = \frac{1}{2} \end{cases}$$

$$\begin{cases} a = -2b \\ \frac{1}{a^2+ab} = \frac{1}{2} \end{cases}$$

$$\begin{cases} a = -2b \\ 4b^2 - 2b^2 = 2 \end{cases}$$

$$\begin{cases} a = \mp 2 \\ b = \pm 1 \end{cases}$$