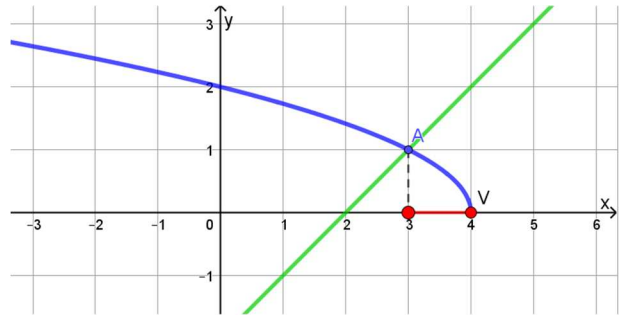


1. Risolvi graficamente la disequazione: $\sqrt{4-x} < x - 2$.

Considero l'arco di parabola e la retta di equazione, rispettivamente:

$$y = \sqrt{4-x} \qquad y = x - 2$$

$$\begin{cases} y \geq 0 \\ 4-x \geq 0 \\ y^2 = (\sqrt{4-x})^2 \end{cases} \qquad \begin{cases} y \geq 0 \\ x \leq 4 \\ x = -y^2 + 4 \end{cases}$$



L'arco di parabola è dato dalla parabola di vertice $V(4; 0)$, con asse di simmetria coincidente con l'asse x , con concavità rivolta nel verso negativo dell'asse x , ma ne considero solo la parte superiore.

Per quanto riguarda la retta, si tratta di una retta parallela alla bisettrice di primo e terzo quadrante e passante per il punto $(0, -2)$.

Dopo aver rappresentato anche la retta, determino il punto di intersezione che ha ascissa 3. La soluzione è indicata in rosso nel disegno:

$$3 < x \leq 4$$

2. Rappresenta due delle seguenti curve (a tua scelta):

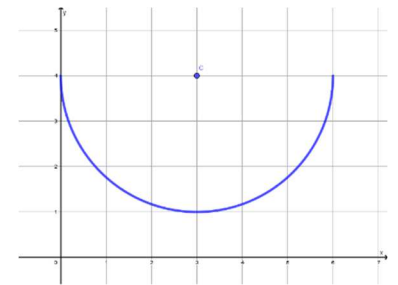
$$y = 4 - \sqrt{6x - x^2} \qquad y = -\sqrt{|x|} \qquad y = x^2 - 2|x| + 1 \qquad y = |x^2 - 4|$$

$$y = 4 - \sqrt{6x - x^2}$$

Semicirconferenza di centro $C(3; 4)$ e raggio 3, di cui considero solo la parte inferiore, ovvero:

$$\begin{cases} y \leq 4 \\ (y-4)^2 = 6x - x^2 \end{cases} \qquad \begin{cases} y \leq 4 \\ x^2 + y^2 - 6x - 8y + 16 = 0 \end{cases}$$

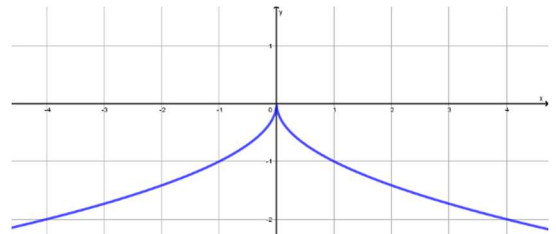
$$r = \sqrt{9 + 16 - 16} = 3$$



$$y = -\sqrt{|x|}$$

Si tratta di due archi di parabola, entrambi con asse coincidente con l'asse x e vertice nell'origine:

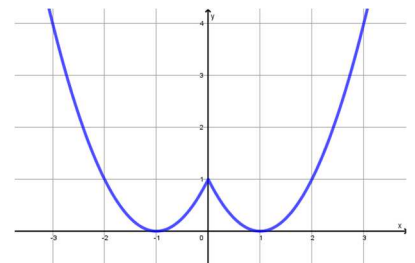
$$\begin{cases} y \leq 0 \\ y^2 = |x| \end{cases} \qquad \begin{cases} y \leq 0 \\ x = \pm y^2 \end{cases}$$



$$y = x^2 - 2|x| + 1$$

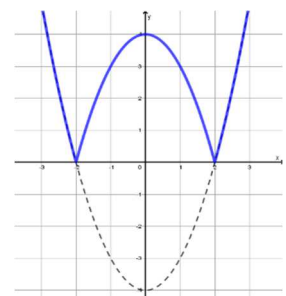
Si tratta dell'unione di due archi di parabola, uno – quello nel primo quadrante – di vertice $(1; 0)$, l'altro – quello nel secondo quadrante – di vertice $(-1; 0)$, entrambi tangente all'asse delle ascisse:

$$\begin{cases} x \geq 0 \\ y = x^2 - 2x + 1 \end{cases} \quad \vee \quad \begin{cases} x < 0 \\ y = x^2 + 2x + 1 \end{cases}$$



$$y = |x^2 - 4|$$

Rappresento la parabola di vertice $(0; -4)$ e con asse di simmetria coincidente con l'asse y e poi faccio la simmetrica della parte nel semipiano $y < 0$ rispetto all'asse x .



3. Trova l'equazione del grafico della figura 1.

La prima parte del grafico è una parabola, con asse parallelo all'asse y , di vertice $V(-2; -1)$ e passante per il punto $(-3; 2)$:

$$\begin{cases} -\frac{b}{2a} = -1 \\ -2 = a - b + c \\ -3 = 4a + 2b + c \end{cases} \quad \begin{cases} b = 2a \\ -2 = a - b + c \\ -1 = 3a + 3b \end{cases}$$

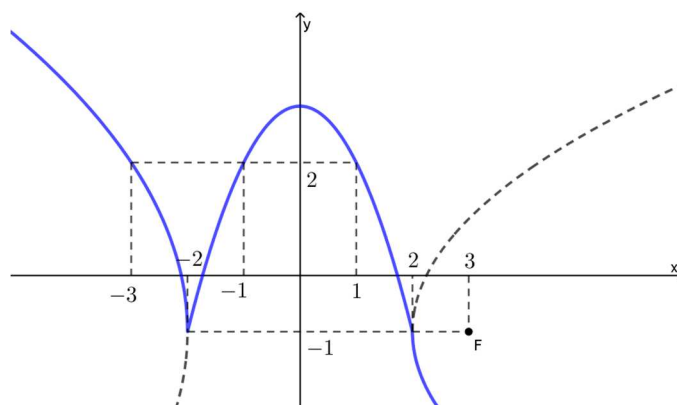
$$\begin{cases} b = 2a \\ c = a - 2 \\ 9a = -1 \end{cases} \quad \begin{cases} a = -\frac{1}{9} \\ b = -\frac{2}{9} \\ c = -\frac{19}{9} \end{cases}$$

$$x = -\frac{1}{9}y^2 - \frac{2}{9}y - \frac{19}{9}$$

$$-9x = y^2 + 2y + 19$$

$$(y + 1)^2 = 9(-x - 2)$$

$$y = -1 + 3\sqrt{-x - 2} \quad \text{se } x \leq -2$$



La seconda parte del grafico è una parabola con asse di simmetria coincidente con l'asse y (perciò $b = 0$) e passante per i punti $(-2, -1)$ e $(-1; 2)$:

$$\begin{cases} -1 = 4a + c \\ 2 = a + c \end{cases} \quad \begin{cases} 3a = -3 \\ c = 2 - a \end{cases} \quad \begin{cases} a = -1 \\ c = 3 \end{cases}$$

$$y = -x^2 + 3 \quad \text{se } -2 < x \leq 2$$

La terza parte del grafico è una parabola con asse parallelo all'asse x , con vertice in $(2; -1)$ e con fuoco di coordinate $(3; -1)$. Perciò:

$$\begin{cases} -\frac{b}{2a} = -1 \\ -\frac{\Delta}{4a} = 2 \\ \frac{1 - \Delta}{4a} = 3 \end{cases} \quad \begin{cases} b = 2a \\ \Delta = -8a \\ 1 + 8a = 12a \end{cases} \quad \begin{cases} a = \frac{1}{4} \\ b = \frac{1}{2} \\ \frac{1}{4} - c = -2 \end{cases} \quad \begin{cases} a = \frac{1}{4} \\ b = \frac{1}{2} \\ c = \frac{9}{4} \end{cases}$$

$$x = \frac{1}{4}y^2 + \frac{1}{2}y + \frac{9}{4}$$

$$4x = y^2 + 2y + 9$$

$$y^2 + 2y + 1 = 4x - 8$$

$$(y + 1)^2 = 4x - 8$$

$$y = -1 - 2\sqrt{x - 2} \quad \text{se } x > 2$$

Riassumendo:

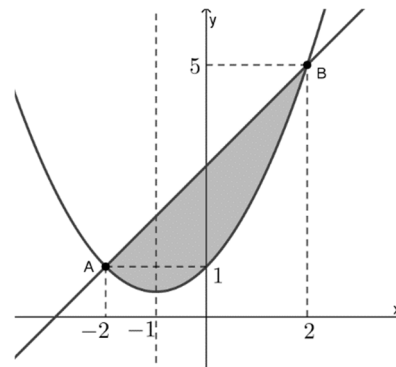
$$y = \begin{cases} -1 + 3\sqrt{-x - 2} & \text{se } x \leq -2 \\ -x^2 + 3 & \text{se } -2 < x \leq 2 \\ -1 - 2\sqrt{x - 2} & \text{se } x > 2 \end{cases}$$

4. In figura 2 è rappresentato un segmento parabolico di base AB.
- Determina l'equazione della parabola.
 - Determina l'area del segmento parabolico.
 - Fra tutti i triangoli ABC inscritti nel segmento parabolico, determina quello di area 2.

- A. Trovo l'equazione della parabola, sapendo che ha asse di simmetria $x = -1$ e passa per i punti $A(-2; 1)$ e $B(2; 5)$:

$$\begin{cases} -\frac{b}{2a} = -1 \\ 1 = 4a - 2b + c \\ 5 = 4a + 2b + c \end{cases} \quad \begin{cases} b = 2a \\ c = 1 \\ 8a = 5 - c \end{cases} \quad \begin{cases} a = \frac{1}{2} \\ b = 1 \\ c = 1 \end{cases}$$

$$y = \frac{1}{2}x^2 + x + 1$$



- B. Determino ora la retta, sapendo che passa per i punti $A(-2; 1)$ e $B(2; 5)$:

$$\frac{x+2}{2+2} = \frac{y-1}{5-1} \quad x+2 = y-1 \quad y = x+3$$

Per calcolare l'area del segmento parabolico, devo determinare la retta parallela alla retta AB e tangente alla parabola. Metto quindi a sistema l'equazione della parabola con l'equazione del fascio di rette parallele e pongo $\Delta = 0$ nella risolvante:

$$\begin{cases} y = \frac{1}{2}x^2 + x + 1 \\ y = x + q \end{cases} \quad \frac{1}{2}x^2 + x + 1 = x + q \quad x^2 + 2 - 2q = 0 \quad \Delta = -4(2 - 2q) = 0 \quad q = 1$$

Calcolo la distanza del punto A dalla retta $r: y = x + 1$, determino la misura del segmento \overline{AB} e poi posso calcolare l'area del rettangolo:

$$h = d(A; r) = \frac{|-2 - 1 + 1|}{\sqrt{2}} = \sqrt{2} \quad \overline{AB} = \sqrt{4^2 + 4^2} = 4\sqrt{2} \quad Area = h \cdot \overline{AB} = 8$$

L'area del segmento parabolico è $\frac{2}{3}$ dell'area del rettangolo, perciò: $Area = \frac{2}{3} \cdot 8 = \frac{16}{3}$.

- C. Considero il punto C di generiche coordinate $C(x; \frac{1}{2}x^2 + x + 1)$ e determino la sua distanza dalla retta passante per i punti A e B:

$$d(C; AB) = \frac{|\frac{1}{2}x^2 + x + 1 - x - 3|}{\sqrt{2}} = \frac{|x^2 - 4|}{2\sqrt{2}} \quad Area = \frac{1}{2} \cdot 4\sqrt{2} \cdot \frac{|x^2 - 4|}{2\sqrt{2}} = 2$$

Ovvero dobbiamo risolvere le equazioni: $x^2 - 4 = \pm 2$.

La prima equazione: $x^2 - 4 = 2$ $x^2 = 6$ dà due soluzioni che sono esterne all'arco di parabola considerato.

La seconda equazione: $x^2 - 4 = -2$ $x^2 = 2$ dà due soluzioni accettabili:

$$C_1(-\sqrt{2}; 2 - \sqrt{2}) \quad C_2(\sqrt{2}; 2 + \sqrt{2})$$

5. Sia dato il fascio di parabole di equazione $y(2+k) - x^2(k+1) + 2kx + 4 = 0$. Dopo averlo studiato, determina il valore del parametro k per il quale la parabola:
- incontra l'asse y in un punto che ha distanza 3 dall'origine;
 - ha il vertice sulla retta $3x - y - 2 = 0$;
 - ha direttrice di equazione $y = -\frac{3}{4}$.

Determino innanzi tutto le generatrici:

$$k(y - x^2 + 2x) + 2y - x^2 + 4 = 0$$

$$y = x^2 - 2x \qquad y = \frac{1}{2}x^2 - 2$$

Cerco gli eventuali punti base mettendo a sistema le due equazioni:

$$\begin{cases} y = x^2 - 2x \\ y = \frac{1}{2}x^2 - 2 \end{cases} \quad x^2 - 2x = \frac{1}{2}x^2 - 2 \quad x^2 - 4x + 4 = 0 \quad x = 2 \quad P(2; 0)$$

Determino le parabole degeneri:

$$\begin{array}{lll} - & k = -2 & x^2 - 4x + 4 = 0 \quad (x-2)^2 = 0 \\ - & k = -1 & y - 2x + 4 = 0 \quad y = 2x - 4 \end{array}$$

Si tratta quindi di un **fascio di parabole tangenti alla retta $y = 2x - 4$ nel punto $P(2; 0)$** , che è il punto base del fascio.

- A. Per determinare le parabole che intersecano l'asse y in un punto che ha distanza 3 dall'origine, impongo il passaggio del fascio per i punti $(0; 3)$ e $(0; -3)$:

$$(0; 3): 6 + 3k + 4 = 0 \qquad k = -\frac{10}{3} \qquad (0; -3): -6 - 3k + 4 = 0 \qquad k = -\frac{2}{3}$$

- B. Determino le generiche coordinate del vertice, determinando innanzi tutto il Δ del fascio, dopo aver scritto il fascio in forma esplicita:

$$y = x^2 \frac{k+1}{k+2} - \frac{2k}{k+2}x - \frac{4}{k+2}$$

$$\Delta = \frac{4k^2}{(k+2)^2} + 16 \frac{k+1}{(k+2)^2} = 4 \frac{k^2 + 4k + 4}{(k+2)^2} = 4$$

Perciò le generiche coordinate del vertice sono: $V\left(\frac{k}{k+1}; -\frac{k+2}{k+1}\right)$. sostituisco le coordinate del vertice nell'equazione della retta data:

$$\frac{3k}{k+1} + \frac{k+2}{k+1} - 2 = 0 \qquad 3k + k + 2 - 2k - 2 = 0 \qquad k = 0$$

- C. La generica direttrice ha equazione: $y = -\frac{1+\Delta}{4a}$ e, ricordando che $\Delta = 4$:

$$-\frac{5}{4} \cdot \frac{k+2}{k+1} = -\frac{3}{4} \qquad 5k + 10 = 3k + 3 \qquad 2k = -7 \qquad k = -\frac{7}{2}$$

6. La parabola e la retta rispettivamente di equazione $2y = x^2 - 6x - 6$ e $3x - 4y = 0$ si intersecano in due punti A e B. Determina l'equazione della parabola, con asse parallelo all'asse y , che passa per A, B e C $(1; 2)$.

Passando per i punti di intersezione tra la parabola e la retta, la parabola richiesta appartiene sicuramente al fascio di parabole che ottengo come combinazione lineare delle equazioni dei due oggetti dati:

$$2y - x^2 + 6x + 6 + k(3x - 4y) = 0$$

Impongo il passaggio del fascio per il punto C, sostituendo le sue coordinate nell'equazione. Una volta determinato il parametro, sostituendolo nel fascio otterrò l'equazione della parabola richiesta:

$$4 - 1 + 6 + 6 + k(3 - 8) = 0 \qquad k = \frac{15}{5} = 3 \qquad y = -\frac{1}{10}x^2 + \frac{3}{2}x + \frac{3}{5}$$