

### Problema 1:

- Determina l'equazione della retta  $t$  passante per i punti A e B appartenenti alla parabola di equazione  $y = x^2 - 5x + 6$  di ascissa rispettivamente 1 e 6.
- Trova l'area del segmento parabolico individuato dalla retta  $t$  e dalla parabola.
- Determina il punto C ottenuto dall'intersezione delle rette  $r$  e  $s$  tangenti in A e B alla parabola.
- Calcola l'area del triangolo ABC.

- a. Determino innanzi tutto le coordinate dei punti A e B, sostituendo la loro ascissa nell'equazione della parabola:

$$y_A = 1 - 5 + 6 = 2 \quad y_B = 36 - 30 + 6 = 12 \quad A(1; 2) \quad B(6; 12)$$

Determino l'equazione della retta  $t$ :

$$\frac{x - x_A}{x_B - x_A} = \frac{y - y_A}{y_B - y_A} \quad \frac{x - 1}{6 - 1} = \frac{y - 2}{12 - 2} \quad t: y = 2x$$

- b. Per calcolare l'area del segmento parabolico, determino  $t_1$  ovvero la retta parallela a  $t$  e tangente alla parabola (mettendo a sistema l'equazione del fascio improprio con quella della parabola e ponendo  $\Delta = 0$  nella risolvente), calcolo la distanza del punto A dalla retta tangente e calcolo la lunghezza del segmento AB. Sapendo che l'area del segmento parabolico è  $\frac{2}{3}$  dell'area del rettangolo così individuato (figura 1), procedo con il calcolo:

$$\begin{cases} y = x^2 - 5x + 6 \\ y = 2x + q \end{cases} \quad x^2 - 5x + 6 = 2x + q \quad x^2 - 7x + 6 - q = 0$$

$$\Delta = 49 - 24 + 4q = 0 \quad q = -\frac{25}{4} \quad t_1: 8x - 4y - 25 = 0$$

$$d(A; t_1) = \frac{|8 - 8 - 25|}{\sqrt{64 + 16}} = \frac{25}{4\sqrt{5}}$$

$$AB = \sqrt{(x_B - x_A)^2 + (y_B - y_A)^2} = \sqrt{5^2 + 10^2} = 5\sqrt{5}$$

$$Area = \frac{2}{3} \cdot \frac{25}{4\sqrt{5}} \cdot 5\sqrt{5} = \frac{125}{6}$$

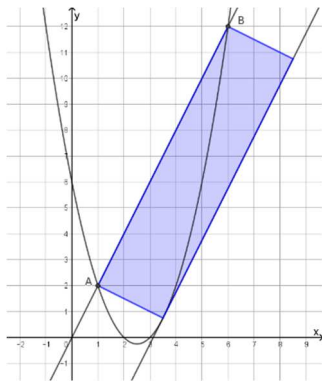


Figura 1

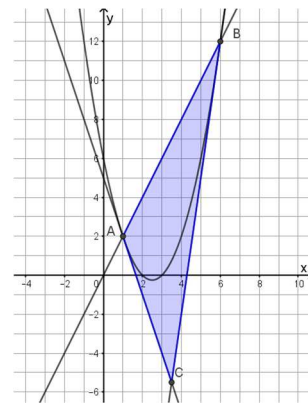


Figura 2

- c. Determino le equazioni delle due tangenti alla parabola, applicando la formula di sdoppiamento:  $\frac{y+y_0}{2} = axx_0 + b\frac{x+x_0}{2} + c$

$$t_A: \frac{y+2}{2} = x - 5\frac{x+1}{2} + 6 \quad y+2 = 2x - 5x - 5 + 12 \quad y = -3x + 5$$

$$t_B: \frac{y+12}{2} = 6x - 5\frac{x+6}{2} + 6 \quad y+12 = 12x - 5x - 30 + 12 \quad y = 7x - 30$$

Metto a sistema le equazioni delle due tangenti per ottenere le coordinate del punto C:

$$\begin{cases} y = -3x + 5 \\ y = 7x - 30 \end{cases} \quad \begin{cases} 7x - 30 = -3x + 5 \\ y = -3x + 5 \end{cases} \quad C\left(\frac{7}{2}; -\frac{11}{2}\right)$$

- d. Conoscendo già la lunghezza del segmento AB e l'equazione della retta passante per i due estremi del segmento, posso calcolare la distanza di C dalla retta (determinando quindi l'altezza del triangolo) e calcolare così l'area del triangolo:

$$h = d(C; AB) = \frac{\left|7 + \frac{11}{2}\right|}{\sqrt{5}} = \frac{25}{2\sqrt{5}} \quad A_{ABC} = \frac{1}{2} \cdot \frac{25}{2\sqrt{5}} \cdot 5\sqrt{5} = \frac{125}{4}$$

## Problema 2:

Sia data la generica parabola  $y = kx^2 + 2x - k + 1$ .

- Determina l'equazione della parabola  $\gamma_1$ , che ha il vertice di ordinata 3.
- Determina l'equazione della parabola  $\gamma_2$ , tangente alla retta di equazione  $y = 2x - 2$ .
- Dopo aver determinato A e B, punti di intersezione di  $\gamma_1$  e  $\gamma_2$ , determina l'equazione di una retta parallela all'asse y (passante per secondo e terzo quadrante) che, nella parte di piano racchiusa dalle due parabole, intercetta una corda PQ, di lunghezza 3.
- Tracciate le tangenti alle due parabole nei punti P e Q, che si intersecano nel punto T, trova l'area del triangolo PQT.

- a. Il vertice di una parabola ha generica ordinata:  $-\frac{\Delta}{4a}$ , perciò:

$$\frac{-b^2 + 4ac}{4a} = 3 \quad \frac{-4 + 4k(-k + 1)}{4k} = 3 \quad -1 - k^2 + k = 3k \quad k^2 + 2k + 1 = 0 \quad k = -1$$

$$\gamma_1: y = -x^2 + 2x + 2$$

- b. Metto a sistema l'equazione della parabola e quella della tangente e pongo  $\Delta = 0$  nell'equazione risolvente del sistema:

$$\begin{cases} y = kx^2 + 2x - k + 1 \\ y = 2x - 2 \end{cases} \quad kx^2 - k + 3 = 0 \quad \Delta = -4k(-k + 3) = 0 \quad \begin{cases} k_1 = [0] \\ k_2 = 3 \end{cases}$$

$$\gamma_2: y = 3x^2 + 2x - 2$$

- c. Determino le coordinate dei punti di intersezione tra le due parabole A e B, mettendo a sistema le due equazioni appena determinate:

$$\begin{cases} y = -x^2 + 2x + 2 \\ y = 3x^2 + 2x - 2 \end{cases} \quad 4x^2 - 4 = 0 \quad x_{1,2} = \pm 1 \quad A(-1; -1) \quad B(1; 3)$$

Considero la retta  $x = k$ , con  $k < 0$ , metto a sistema la sua equazione prima con la parabola  $\gamma_1$  (e determino così le coordinate di P) e poi con la parabola  $\gamma_2$  (determinando così le coordinate di Q). Siccome le coordinate sono espresse in funzione del parametro, pongo la distanza tra i due punti uguale a 3:

$$\begin{cases} x = k \\ y = -x^2 + 2x + 2 \end{cases} \quad P(k; -k^2 + 2k + 2) \quad \begin{cases} x = k \\ y = 3x^2 + 2x - 2 \end{cases} \quad Q(k; 3k^2 + 2k - 2)$$

L'ordinata di P è maggiore di quella di Q, perciò:

$$-k^2 + 2k + 2 - 3k^2 - 2k + 2 = 3 \quad -4k^2 = -1 \quad k_{1,2} = \pm \frac{1}{2}$$

Visto che  $k < 0$ , otteniamo:  $x = -\frac{1}{2}$ ,  $P\left(-\frac{1}{2}; \frac{3}{4}\right)$  e  $Q\left(-\frac{1}{2}; -\frac{9}{4}\right)$ .

- d. Determino le equazioni delle due tangenti alla parabola, applicando la formula di

sdoppiamento:  $\frac{y+y_0}{2} = axx_0 + b\frac{x+x_0}{2} + c$ :

$$t_P: \frac{y + \frac{3}{4}}{2} = \frac{1}{2}x + 2\frac{x - \frac{1}{2}}{2} + 2 \quad y = 3x + \frac{9}{4}$$

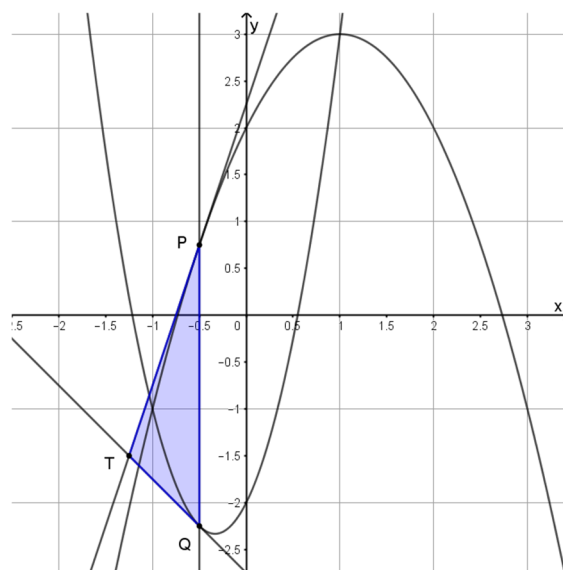
$$t_Q: \frac{y - \frac{9}{4}}{2} = -\frac{3}{2}x + 2\frac{x - \frac{1}{2}}{2} - 2 \quad y = -x - \frac{11}{4}$$

Metto a sistema le equazioni delle due tangenti per ottenere le coordinate del punto T:

$$\begin{cases} y = 3x + \frac{9}{4} \\ y = -x - \frac{11}{4} \end{cases} \quad \begin{cases} 3x + \frac{9}{4} = -x - \frac{11}{4} \\ y = -x - \frac{11}{4} \end{cases} \quad T\left(-\frac{5}{4}; -\frac{3}{2}\right)$$

Per determinare l'area del triangolo PQT, conoscendo la lunghezza del segmento PQ, manca solo la distanza di T dalla retta PQ:

$$h = \left| -\frac{5}{4} + \frac{1}{2} \right| = \frac{3}{4} \quad A_{QPT} = \frac{1}{2} \cdot \frac{3}{4} \cdot 3 = \frac{9}{8}$$



1. Trova l'equazione della tangente comune alle due parabole di equazione:  $y = -x^2 - 2x$  e  $y = -x^2 + 2x + 3$ .

Considero la retta generica di equazione  $y = mx + q$ . Metto a sistema l'equazione della generica retta prima con l'equazione di una parabola e poi con l'equazione dell'altra e poi pongo  $\Delta = 0$  nella risolvente.

$$\begin{cases} y = mx + q \\ y = -x^2 - 2x \end{cases} \quad x^2 + x(m+2) + q = 0 \quad \Delta = (m+2)^2 - 4q = 0$$

$$\begin{cases} y = mx + q \\ y = -x^2 + 2x + 3 \end{cases} \quad x^2 + x(m-2) + q - 3 = 0 \quad \Delta = (m-2)^2 - 4q + 12 = 0$$

Metto a sistema le due equazioni così ottenute per ricavare il valore dei due parametri:

$$\begin{cases} (m+2)^2 = 4q \\ (m-2)^2 + 12 = 4q \end{cases} \quad \begin{cases} (m+2)^2 = (m-2)^2 + 12 \\ (m+2)^2 = 4q \end{cases} \quad \begin{cases} 4m = -4m + 12 \\ (m+2)^2 = 4q \end{cases} \quad \begin{cases} m = \frac{3}{2} \\ q = \frac{49}{16} \end{cases}$$

L'equazione della tangente comune è:  $y = \frac{3}{2}x + \frac{49}{16}$

2. Scrivi l'equazione della parabola che passa per il punto  $A(1; -2)$  e ha l'asse di equazione  $x = 2$  e il vertice appartenente alla retta di equazione  $x + 2y + 4 = 0$ .

Siccome l'asse ha equazione  $x = 2$ , il vertice, appartenendo alla retta  $x + 2y + 4 = 0$ , ha coordinate  $V(2; -3)$  (avendo sostituito il valore dell'ascissa del vertice nell'equazione della retta), perciò pongo l'ascissa generica del vertice uguale a 2 e impongo il passaggio per i punti V e A, sostituendo le loro coordinate nell'equazione generica della parabola  $y = ax^2 + bx + c$ :

$$\begin{cases} -\frac{b}{2a} = 2 \\ -3 = 4a + 2b + c \\ -2 = a + b + c \end{cases} \quad \begin{cases} b = -4a \\ -4a + c = -3 \\ -3a + c = -2 \end{cases} \quad \begin{cases} b = -4a \\ c = 4a - 3 \\ a = 1 \end{cases} \quad \begin{cases} a = 1 \\ b = -4 \\ c = 1 \end{cases} \quad y = x^2 - 4x + 1$$

3. Trova per quali valori di  $k$  il punto  $P(k - 5; 1 - 2k)$  appartiene all'asse del segmento di estremi  $A(-2; 4)$  e  $B(1; -2)$ .

Appartenendo all'asse del segmento, P è equidistante da A e da B, cioè:  $\overline{PA} = \overline{PB} \Rightarrow \overline{PA}^2 = \overline{PB}^2$

$$(k - 5 + 2)^2 + (1 - 2k - 4)^2 = (k - 5 - 1)^2 + (1 - 2k + 2)^2$$

$$(k - 3)^2 + (-3 - 2k)^2 = (k - 6)^2 + (3 - 2k)^2$$

$$k^2 - 6k + 9 + 9 + 12k + 4k^2 = k^2 - 12k + 36 + 9 - 12k + 4k^2$$

$$30k = 27 \quad k = \frac{9}{10}$$

4. Dato il triangolo di vertici  $A(-1; -4)$ ,  $B(3; 2)$ ,  $C(-1; 4)$ , scrivi le equazioni delle mediane e verifica che passano tutte per lo stesso punto.

Determino il punto medio  $M_1$  del lato BC e l'equazione di  $AM_1$ :

$$M_1 \left( \frac{x_B + x_C}{2}; \frac{y_B + y_C}{2} \right) = (1; 3) \quad r(A; M_1): \frac{x - x_A}{x_{M_1} - x_A} = \frac{y - y_A}{y_{M_1} - y_A} \quad \frac{x + 1}{1 + 1} = \frac{y + 4}{3 + 4} \quad y = \frac{7}{2}x - \frac{1}{2}$$

Determino il punto medio  $M_2$  del lato AC e l'equazione di  $BM_2$ :

$$M_2(-1; 0) \quad r(B; M_2): \frac{x + 1}{3 + 1} = \frac{y}{2} \quad y = \frac{1}{2}x + \frac{1}{2}$$

Determino il punto medio  $M_3$  del lato AB e l'equazione di  $CM_3$ :

$$M_3(1; -1) \quad r(C; M_3): \frac{x + 1}{1 + 1} = \frac{y - 4}{-1 - 4} \quad y = -\frac{5}{2}x + \frac{3}{2}$$

Determino l'intersezione tra le mediane relative al lato BC e al lato AC e verifico che il punto così calcolato appartiene alla mediana del lato AB, sostituendo le sue coordinate nell'equazione della mediana:

$$\begin{cases} y = \frac{7}{2}x - \frac{1}{2} \\ y = \frac{1}{2}x + \frac{1}{2} \end{cases} \quad G \left( \frac{1}{3}; \frac{2}{3} \right) \quad G \in r(C; M_3), \text{ infatti: } \frac{2}{3} = -\frac{5}{2} \cdot \frac{1}{3} + \frac{3}{2}$$

5. Determina per quale valore di  $c$  le parabole di equazioni  $y = x^2 - 2x + c + \frac{3}{2}$  e  $y = -x^2 + 4cx$  sono tangenti e determina le coordinate del punto di tangenza nel caso  $c > 0$ .

Metto a sistema le equazioni delle due parabole e pongo  $\Delta = 0$  nell'equazione risolvente:

$$\begin{cases} y = x^2 - 2x + c + \frac{3}{2} \\ y = -x^2 + 4cx \end{cases} \quad 2x^2 - 2x(1 + 2c) + c + \frac{3}{2} = 0 \quad \frac{\Delta}{4} = (1 + 2c)^2 - 2c - 3 = 0$$

$$4c^2 + 2c - 2 = 0 \quad 2c^2 + c - 1 = 0 \quad \begin{cases} c_1 = [-1] \\ c_2 = \frac{1}{2} \end{cases}$$

Sostituendo il valore trovato nella risolvente, trovo l'ascissa del punto di tangenza. Sostituendo poi l'ascissa in una delle due equazioni, trovo le coordinate del punto di tangenza:

$$2x^2 - 4x + 2 = 0 \quad (x - 1)^2 = 0 \quad T(1; 1)$$

6. Determina  $a$  e  $b$  in modo che la parabola di equazione  $y = ax^2 + bx - 1$  sia tangente all'asse  $x$  e abbia, nel punto di ascissa 4, la tangente di coefficiente angolare  $-1$ .

Perché la parabola sia tangente all'asse  $x$ , la sua equazione deve avere  $\Delta = 0$ :  $b^2 + 4a = 0$ .

Il punto di ascissa 4 ha coordinate  $(4; 16a + 4b - 1)$ , ottenendo l'ordinata dalla sostituzione dell'ascissa nell'equazione della parabola.

Applico la formula di sdoppiamento ( $\frac{y+y_0}{2} = axx_0 + b\frac{x+x_0}{2} + c$ ) alla parabola e pongo il coefficiente angolare della retta uguale a  $-1$ :

$$\frac{y + 16a + 4b - 1}{2} = 4ax + b\frac{x + 4}{2} - 1 \quad m = 8a + b = -1$$

Ecco le due equazioni da mettere a sistema:

$$\begin{cases} b^2 + 4a = 0 \\ 8a + b = -1 \end{cases} \quad \begin{cases} 4a = -b^2 \\ 2b^2 - b - 1 = 0 \end{cases} \quad \begin{cases} a_1 = -\frac{1}{4} \\ b_1 = 1 \end{cases} \quad \vee \quad \begin{cases} a_2 = -\frac{1}{16} \\ b_2 = -\frac{1}{2} \end{cases}$$

7. Scrivi l'equazione della retta che interseca la parabola  $y = \frac{1}{4}x^2 - 1$  nei due punti A e B di ascissa 0 e 4. Calcola la lunghezza della corda AB e l'area del triangolo ABO, essendo O l'origine degli assi.

Sostituisco le due ascisse nell'equazione della parabola per ottenere le coordinate di A e B:  $A(0; -1)$  e  $B(4; 3)$ .

Determino la lunghezza della corda AB:  $\overline{AB} = \sqrt{4^2 + 4^2} = 4\sqrt{2}$ .

Calcolo l'area del triangolo ABO:

$$A = \frac{1}{2} \cdot \overline{AO} \cdot d(B; \text{asse } y) = \frac{1}{2} \cdot |y_A| \cdot |x_B| = \frac{1}{2} \cdot 1 \cdot 4 = 2$$

8. Data la parabola di equazione  $y = x^2 - 6x + 8$ , trova quale punto della parabola ha distanza minima dalla retta  $y = -2x - 1$ .

Per trovare il punto della parabola che ha distanza minima dalla retta, determino la tangente alla parabola parallela alla retta data e trovo il punto di intersezione tra la tangente e la parabola: quel punto sarà quello di distanza minima. Per determinare la tangente, metto a sistema l'equazione della parabola con l'equazione del fascio improprio cui appartiene la retta data e pongo  $\Delta = 0$  nell'equazione risolvente:

$$\begin{cases} y = x^2 - 6x + 8 \\ y = -2x + q \end{cases} \quad x^2 - 4x + 8 - q = 0 \quad \frac{\Delta}{4} = 4 - 8 + q = 0 \quad q = 4$$

Sostituendo  $q = 4$  ottengo l'ascissa del punto di intersezione:

$$x^2 - 4x + 4 = 0 \quad x = 2 \quad T(2; 0)$$