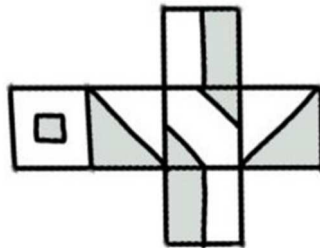
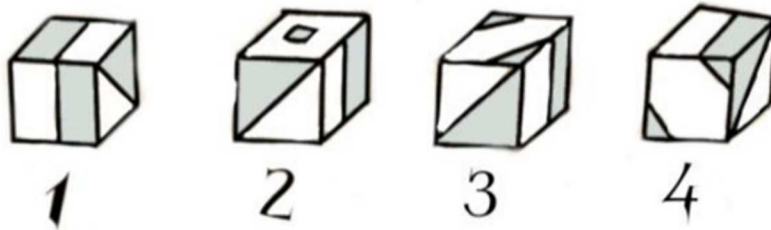


ALEA IACTA EST

Osserva lo sviluppo di questo cubo:

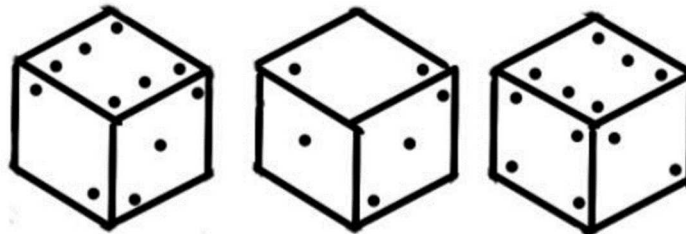


Quale delle figure riportate corrisponde alla ricostruzione dello sviluppo del cubo dato?



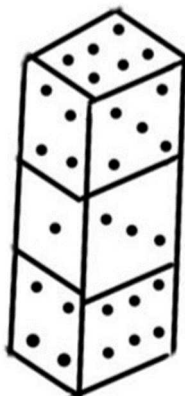
Ecco tre diverse immagini di uno stesso cubo.

Quale numero ci sarà nella faccia opposta al numero 1?



Dovresti ormai aver capito il trucco, perciò puoi rispondere a una domanda più difficile...

Qual è la somma dei numeri che compaiono sulle facce incollate?



Prova a rifletterci...