

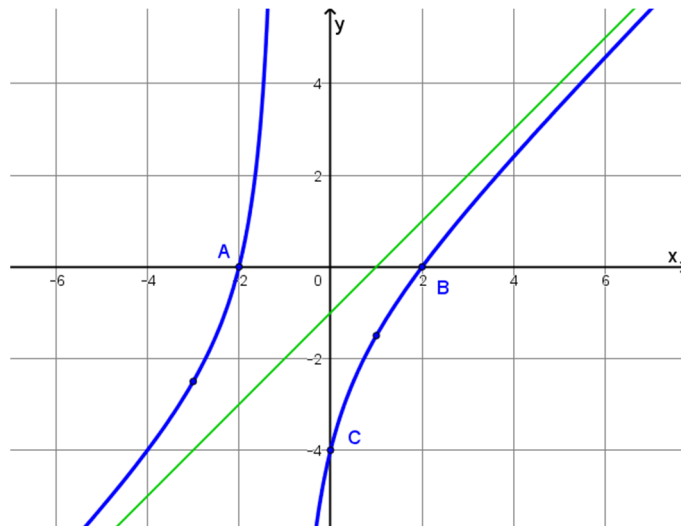
1. Rappresenta graficamente una funzione  $y = f(x)$  per la quale siano verificate le seguenti condizioni:

$$D = ]-\infty; -1[ \cup ]-1; +\infty[ \quad C = \mathbb{R} \quad f(-3) = -\frac{5}{2} \quad f(1) = -\frac{3}{2}$$

Intersezioni con gli assi:  $A(-2; 0)$ ,  $B(2; 0)$ ,  $C(0; -4)$   $f(x) > 0: ]-2; -1[ \cup ]2; +\infty[$

Crescente:  $]-\infty; +\infty[$  Asintoto obliquo di equazione  $y = x - 1$

$$\lim_{x \rightarrow -\infty} f(x) = -\infty \quad \lim_{x \rightarrow +\infty} f(x) = +\infty \quad \lim_{x \rightarrow -1^\pm} f(x) = \mp \infty$$



2. Dall'esame del grafico della funzione rappresentato in figura, deduci:

Dominio:  $]-\infty; -1] \cup ]-1; 0[ \cup ]0; +\infty[$

Codominio:  $]-\infty; \frac{235}{27}]$

Intersezioni con gli assi:

$$\left(\frac{\sqrt{3}}{2}; 0\right); \left(\frac{10}{3}; 0\right); (0; -4)$$

$f(x) > 0: ]-\infty; -1] \cup \left[\frac{\sqrt{3}}{2}; \frac{10}{3}\right[$

Crescente:  $]-\infty; -1] \cup ]-1; 0[ \cup ]0; \frac{7}{3}[$

Iniettiva? **NO**

Suriettiva? **NO**

Limitata? **Superiormente**

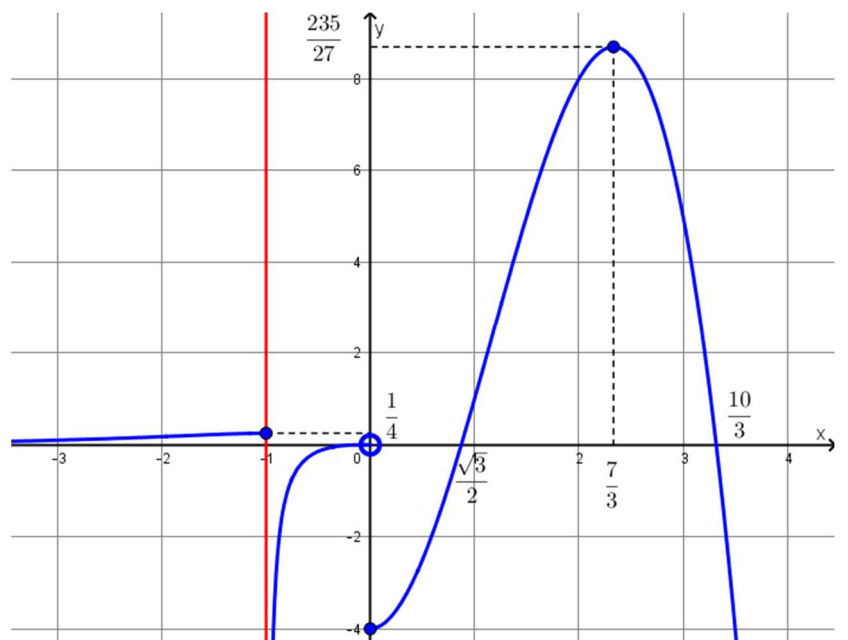
$$\lim_{x \rightarrow -\infty} f(x) = 0$$

$$\lim_{x \rightarrow -1^-} f(x) = \frac{1}{4}$$

$$\lim_{x \rightarrow -1^+} f(x) = -\infty$$

$$\lim_{x \rightarrow 0^-} f(x) = 0$$

$\lim_{x \rightarrow 0} f(x) = \text{non esiste}$



$$\lim_{x \rightarrow 0^+} f(x) = -4$$

$$\lim_{x \rightarrow +\infty} f(x) = -\infty$$

Equazioni di eventuali asintoti:  $x = -1$  asintoto verticale a destra;  $y = 0$  asintoto orizzontale a  $-\infty$

3. Traccia il grafico probabile della seguente funzione, dopo averne studiato tutte le caratteristiche:

$$f(x) = \ln \frac{2x - 5}{2x + 4}$$

1. Dominio:  $\frac{2x-5}{2x+4} > 0 \quad x < -2 \vee x > \frac{5}{2} \quad D = ]-\infty; -2[ \cup ]\frac{5}{2}; +\infty[$

2. Eventuali simmetrie: non ci sono simmetrie, dato che il dominio per primo non è simmetrico

3. Intersezioni con gli assi: è impossibile l'intersezione con l'asse y, escluso dal dominio. Valutiamo l'intersezione con l'asse x:

$$\begin{cases} y = \ln \frac{2x-5}{2x+4} \\ y = 0 \end{cases} \quad \frac{2x-5}{2x+4} = 1 \quad \frac{-9}{2x+4} = 0 \quad \nexists x \in \mathbb{R}$$

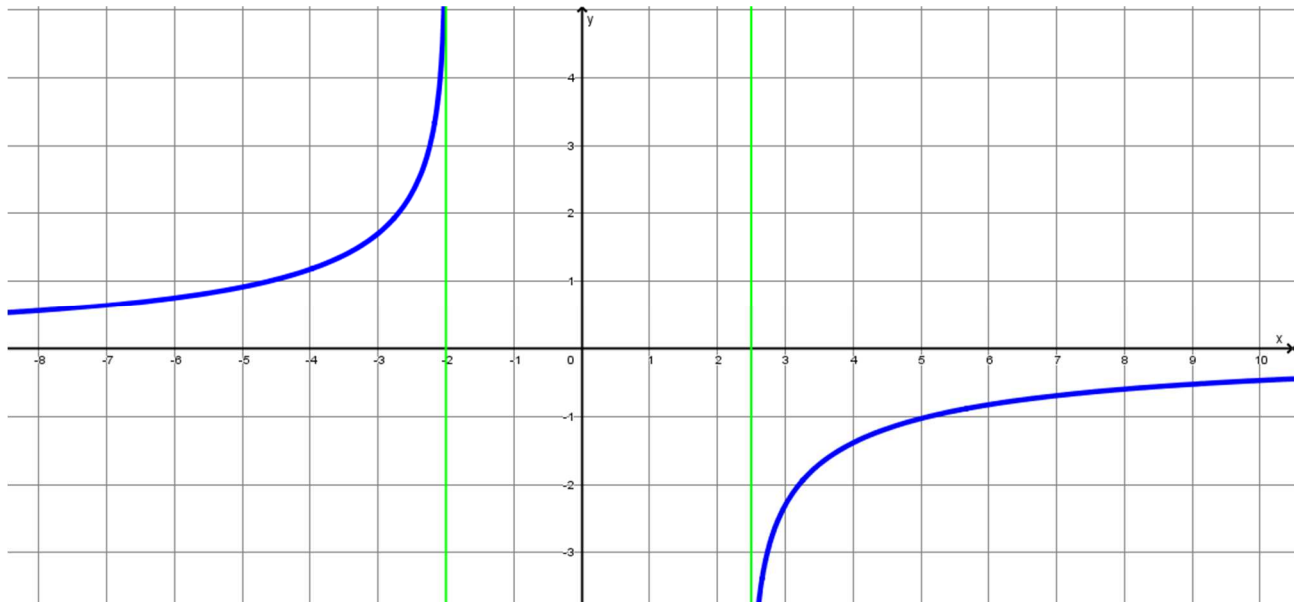
4. Positività:

$$\ln \frac{2x-5}{2x+4} > 0 \quad \frac{2x-5}{2x+4} > 1 \quad \frac{-9}{2x+4} > 0 \quad x < -2$$

5. Eventuali asintoti:

$$\lim_{x \rightarrow \pm\infty} \ln \frac{2x-5}{2x+4} = 0 \quad y = 0 \text{ asintoto orizzontale}$$

$$\lim_{x \rightarrow -2^-} \ln \frac{2x-5}{2x+4} = +\infty \quad x = -2 \text{ asintoto verticale} \quad \lim_{x \rightarrow (\frac{5}{2})^+} \ln \frac{2x-5}{2x+4} = -\infty \quad x = \frac{5}{2} \text{ asintoto verticale}$$



4. Calcola i seguenti limiti:

$$\lim_{x \rightarrow 0} \frac{\log_2(x+1)}{2x} = \lim_{x \rightarrow 0} \log_2(x+1)^{\frac{1}{2x}} = \lim_{x \rightarrow 0} \log_2 \left[ \left( 1 + \frac{1}{\frac{1}{x}} \right)^{\frac{1}{\frac{1}{x}}} \right]^{\frac{1}{2}} = \log_2 e^{\frac{1}{2}} = \frac{1}{2} \log_2 e$$

$$\lim_{x \rightarrow +\infty} \left( \frac{1}{2x} \right)^{\frac{1}{\ln 3x}} = \lim_{x \rightarrow +\infty} e^{\ln \left( \frac{1}{2x} \right)^{\frac{1}{\ln 3x}}} = \lim_{x \rightarrow +\infty} e^{\frac{1}{\ln 3x} \cdot \ln(2x)^{-1}} = \lim_{x \rightarrow +\infty} e^{\frac{-\ln 2x}{\ln 3x}} = \lim_{x \rightarrow +\infty} e^{\frac{-\ln 2 - \ln x}{\ln 3 + \ln x}} = \lim_{x \rightarrow +\infty} e^{\frac{-\ln x}{\ln x}} = \frac{1}{e}$$

$$\lim_{x \rightarrow 0} (1-x)^{-\frac{1}{x}} = \lim_{x \rightarrow 0} \left( 1 + \frac{1}{-\frac{1}{x}} \right)^{-\frac{1}{x}} = e$$

$$\lim_{x \rightarrow -\infty} \frac{\sqrt{x^2+1}}{x} = \lim_{x \rightarrow -\infty} \frac{\sqrt{x^2}}{x} = \lim_{x \rightarrow -\infty} \frac{-x}{x} = -1$$

$$\lim_{x \rightarrow +\infty} \sqrt{x} (\sqrt{x+1} - \sqrt{x}) = \lim_{x \rightarrow +\infty} \left( \sqrt{x} (\sqrt{x+1} - \sqrt{x}) \cdot \frac{\sqrt{x+1} + \sqrt{x}}{\sqrt{x+1} + \sqrt{x}} \right) = \lim_{x \rightarrow +\infty} \frac{\sqrt{x}}{\sqrt{x+1} + \sqrt{x}} = \lim_{x \rightarrow +\infty} \frac{\sqrt{x}}{\sqrt{x} + \sqrt{x}} = \frac{1}{2}$$

$$\lim_{x \rightarrow -1} \frac{\sqrt[3]{x} + 1}{x + 1} = \lim_{x \rightarrow -1} \left( \frac{\sqrt[3]{x} + 1}{x + 1} \cdot \frac{\sqrt[3]{x^2} - \sqrt[3]{x} + 1}{\sqrt[3]{x^2} - \sqrt[3]{x} + 1} \right) = \lim_{x \rightarrow -1} \frac{x + 1}{(x + 1)(\sqrt[3]{x^2} - \sqrt[3]{x} + 1)} = \frac{1}{3}$$

$$\lim_{x \rightarrow 4} \frac{\sqrt{2x+1} - 3}{\sqrt{x-2} - \sqrt{2}} = \lim_{x \rightarrow 4} \left( \frac{\sqrt{2x+1} - 3}{\sqrt{x-2} - \sqrt{2}} \cdot \frac{\sqrt{2x+1} + 3}{\sqrt{2x+1} + 3} \cdot \frac{\sqrt{x-2} + \sqrt{2}}{\sqrt{x-2} + \sqrt{2}} \right) = \lim_{x \rightarrow 4} \left( \frac{2(x-4)}{x-4} \cdot \frac{\sqrt{x-2} + \sqrt{2}}{\sqrt{2x+1} + 3} \right) = \frac{2\sqrt{2}}{3}$$

$$\lim_{x \rightarrow 0^+} \sqrt{\frac{1 - \cos x}{\sin x}} = \lim_{x \rightarrow 0^+} \sqrt{\frac{1 - \cos x}{\sin x} \cdot \frac{1 + \cos x}{1 + \cos x}} = \lim_{x \rightarrow 0^+} \sqrt{\frac{\sin x}{1 + \cos x}} = 0$$

$$\lim_{x \rightarrow \infty} \frac{x^2 - 1}{2x^2 + x + 4} = \lim_{x \rightarrow \infty} \frac{x^2}{2x^2} = \frac{1}{2}$$

$$\lim_{x \rightarrow 1} \frac{x^2 - 2x + 1}{x^2 - 1} = \lim_{x \rightarrow 1} \frac{(x-1)^2}{(x-1)(x+1)} = \lim_{x \rightarrow 1} \frac{x-1}{x+1} = 0$$