

Svolgi le seguenti espressioni con le frazioni algebriche:

$$\begin{aligned}
 1. \quad & \left( \frac{1}{a+b} - \frac{b}{b^2-a^2} \right) : \left( \frac{1}{a-b} - \frac{b}{a^2-ab} + \frac{b^2}{a^3-ab^2} \right) \\
 & = \left( \frac{1}{a+b} - \frac{b}{(a+b)(b-a)} \right) : \left( \frac{1}{a-b} - \frac{b}{a(a-b)} + \frac{b^2}{a(a^2-b^2)} \right) = \quad C.E.: a \neq \pm b \wedge a \neq 0 \\
 & = \frac{b-a-b}{(a+b)(b-a)} : \left( \frac{1}{a-b} - \frac{b}{a(a-b)} + \frac{b^2}{a(a-b)(a+b)} \right) = \\
 & = -\frac{a}{(a+b)(b-a)} : \frac{a(a+b) - b(a+b) + b^2}{a(a-b)(a+b)} = \frac{a}{(a+b)(a-b)} : \frac{a^2 + ab - ab - b^2 + b^2}{a(a-b)(a+b)} = \\
 & = \frac{a}{(a+b)(a-b)} : \frac{a(a-b)(a+b)}{a^2} = \mathbf{1}
 \end{aligned}$$

$$\begin{aligned}
 2. \quad & \left( \frac{x-y}{x+y} - 1 \right) \left( 1 + \frac{x+y}{x-y} \right)^{-1} \cdot \frac{2x^2+2xy}{y^2-xy} \\
 & = \frac{x-y-x-y}{x+y} \cdot \left( \frac{x-y+x+y}{x-y} \right)^{-1} \cdot \frac{2x(x+y)}{-y(x-y)} = \quad C.E.: x \neq \pm y \wedge x \neq 0 \wedge y \neq 0 \\
 & = -\frac{2y}{x+y} \cdot \frac{x-y}{2x} \cdot \frac{2x(x+y)}{-y(x-y)} = \mathbf{2}
 \end{aligned}$$

$$\begin{aligned}
 3. \quad & \frac{a}{a-2} - \frac{a}{a+2} : \frac{4}{a^2-a-2} : \frac{a^2-1}{a^2+a-2} \\
 & = \frac{a}{a-2} - \frac{a}{a+2} : \frac{4}{(a-2)(a+1)} : \frac{(a-1)(a+1)}{(a+2)(a-1)} = \quad C.E.: a \neq \pm 2 \wedge a \neq \pm 1 \\
 & = \frac{a}{a-2} - \frac{a}{a+2} \cdot \frac{(a-2)(a+1)}{4} \cdot \frac{a+2}{a+1} = \\
 & = \frac{a}{a-2} - \frac{a(a-2)}{4} = \frac{4a - a(a-2)^2}{4(a-2)} = \frac{4a - a(a^2 - 4a + 4)}{4(a-2)} = \frac{4a - a^3 + 4a^2 - 4a}{4(a-2)} = \frac{\mathbf{a^2(4-a)}}{\mathbf{4(a-2)}}
 \end{aligned}$$

Risolvi:

$$\begin{aligned}
 4. \quad & \frac{2x^2-2}{x^3+1} + \frac{2-x^2}{x^2-x+1} + \frac{x}{x+1} = 0 \\
 & \frac{2x^2-2}{(x+1)(x^2-x+1)} + \frac{2-x^2}{x^2-x+1} + \frac{x}{x+1} = 0 \\
 & \frac{2x^2-2 + (x+1)(2-x^2) + x(x^2-x+1)}{(x+1)(x^2-x+1)} = 0 \quad C.A.: x \neq -1 \\
 & 2x^2-2 + 2x - x^3 + 2 - x^2 + x^3 - x^2 + x = 0 \quad 3x = 0 \quad \mathbf{x = 0} \quad \mathbf{acc.}
 \end{aligned}$$

$$5. \quad \frac{3x}{4x^2-1} + \frac{2x+7}{4x} = 4 - \frac{3x}{1-4x^2}$$

$$\frac{3x}{4x^2-1} + \frac{2x+7}{4x} = 4 + \frac{3x}{4x^2-1}$$

$$\frac{2x+7}{4x} = 4$$

$$C.A.: x \neq \pm \frac{1}{2} \wedge x \neq 0$$

$$\frac{2x+7-16x}{4x} = 0$$

$$-14x = -7$$

$$x = \frac{1}{2}$$

$$\text{non acc. per C.A.} \Rightarrow \nexists x \in \mathbb{R}$$

$$6. \quad \frac{6(a-3x)}{a^2-16} - \frac{2x+1}{a+4} = \frac{5-3x}{a-4}$$

$$\frac{6a-18x}{(a-4)(a+4)} - \frac{2x+1}{a+4} = \frac{5-3x}{a-4}$$

$$\frac{6a-18x-(2x+1)(a-4)-(5-3x)(a+4)}{(a-4)(a+4)} = 0$$

$$C.E.: a \neq \pm 4$$

$$6a-18x-2ax+8x-a+4-5a-20+3ax+12x=0$$

$$2x+ax=16$$

$$x(a+2)=16$$

**Se  $(a=4 \vee a=-4)$  l'equazione perde significato**

**Se  $a=-2$   $\nexists x \in \mathbb{R}$**

**Se  $(a \neq \pm 4 \wedge a \neq -2)$   $x = \frac{16}{a+2}$**

7. Utilizzando i dati della figura a lato, determina il valore di  $x$ , sapendo che il suo perimetro vale 44.

Per determinare il perimetro, faccio prima alcune considerazioni:

$$\overline{AH} \cong \overline{BC} + \overline{DE} + \overline{FG}$$

$$\overline{AB} + \overline{CD} \cong \overline{EF} + \overline{HG}$$

Perciò il perimetro è dato da:

$$\begin{aligned} 2p &= \overline{AH} + \overline{BC} + \overline{DE} + \overline{FG} + \overline{AB} + \overline{CD} + \overline{EF} + \overline{HG} = \\ &= 2\overline{AH} + 2(\overline{EF} + \overline{HG}) = 2(3x+7) + 2(x+5+x) \end{aligned}$$

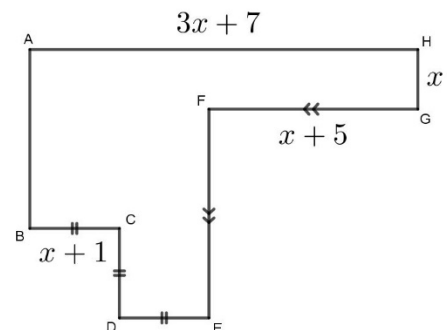
Otteniamo, quindi, l'equazione:

$$2(3x+7) + 2(2x+5) = 44$$

$$3x+7+2x+5=22$$

$$5x=10$$

$$x=2$$



$$8. \quad \begin{cases} \frac{1}{2} \left(x - \frac{4}{3}\right) + \left(3 - \frac{x}{2}\right)^2 < \frac{x^2}{4} + \frac{x-1}{3} - \frac{2x+5}{2} + 2 \\ \frac{1-x}{1-\frac{1}{3}} + \frac{1-\frac{2x}{3}}{1+\frac{1}{3}} > 7x + (1-x)^2 - (x+1)(x-1) \end{cases}$$

Risolviamo le due disequazioni separatamente. Cominciamo con la prima, moltiplicando tutto per 12, per semplificare le frazioni:

$$6 \left(x - \frac{4}{3}\right) + 12 \left(9 - 3x + \frac{x^2}{4}\right) < 3x^2 + 4(x-1) - 6(2x+5) + 24$$

$$6x - 8 + 108 - 36x + 3x^2 < 3x^2 + 4x - 4 - 12x - 30 + 24$$

$$-22x < -110$$

$$x > 5$$

$$\frac{3}{2}(1-x) + \frac{3}{4}\left(1 - \frac{2x}{3}\right) > 7x + 1 - 2x + x^2 - (x^2 - 1)$$

$$6 - 6x + 3 - 2x > 28x + 4 - 8x + 4x^2 - 4x^2 + 4$$

$$-28x > -1$$

$$x < \frac{1}{28}$$

Mettendo a sistema le due soluzioni, troviamo che il sistema è impossibile,  $\nexists x \in \mathbb{R}$ .

9. Trova l'intervallo di soluzioni tale per cui il quoziente tra il doppio di un numero e la differenza tra 1 e la terza parte del numero stesso sia positivo.

$$\frac{2x}{1 - \frac{x}{3}} > 0$$

$$\begin{aligned} N > 0: & x > 0 \\ D > 0: & x < 3 \end{aligned}$$

$$0 < x < 3$$

10.  $2x - a \geq a(1 - x)$

$$2x - a \geq a - ax$$

$$2x + ax \geq 2a$$

$$x(a + 2) \geq 2a$$

$$\text{Se } a > -2: \quad x \geq \frac{2a}{a+2}$$

$$\text{Se } a < -2: \quad x \leq \frac{2a}{a+2}$$

$$\text{Se } a = -2: \quad \forall x \in \mathbb{R}$$

11.  $|3x - 2| < 7 + 6x$

$$|3x - 2| = \begin{cases} 3x - 2 & \text{se } x \geq \frac{2}{3} \\ -3x + 2 & \text{se } x < \frac{2}{3} \end{cases}$$

Possiamo distinguere due casi:

$$\begin{cases} x \geq \frac{2}{3} \\ 3x - 2 < 7 + 6x \end{cases} \quad \vee \quad \begin{cases} x < \frac{2}{3} \\ -3x + 2 < 7 + 6x \end{cases}$$

$$\begin{cases} x \geq \frac{2}{3} \\ x > -3 \end{cases} \quad \vee \quad \begin{cases} x < \frac{2}{3} \\ x > -\frac{5}{9} \end{cases}$$

$$x \geq \frac{2}{3} \quad \vee \quad -\frac{5}{9} < x < \frac{2}{3}$$

Unendo le due soluzioni, otteniamo:

$$x > -\frac{5}{9}$$

12. Nel triangolo qualsiasi ABC, consideriamo la mediana BM e la semiretta di origine A che incontra il prolungamento di BM in D e tale che  $D\hat{A}C \cong A\hat{C}B$ . Dimostra che  $AD \cong BC$ .

**Hp:**

ABC triangolo qualsiasi

$M \in AC$

$AM \cong MC$

B, M, D allineati

$D\hat{A}C \cong A\hat{C}B$

**Tesi:**  $AD \cong BC$

Dimostrazione:

Considero i triangoli AMD e CMB. Essi hanno:

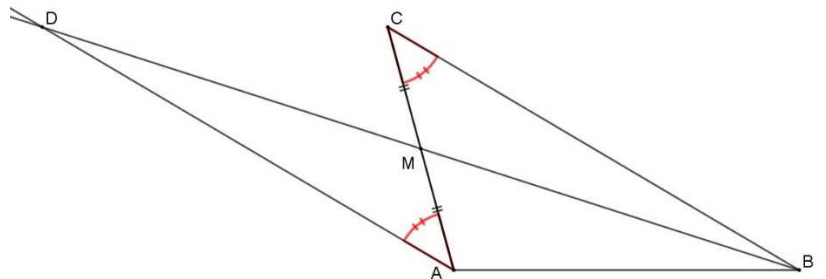
$AM \cong MC$  per ipotesi

$D\hat{A}C \cong A\hat{C}B$  per ipotesi

$D\hat{M}A \cong C\hat{M}B$  perché angoli opposti al vertice (B, M, D sono allineati per ipotesi e  $M \in AC$  per ipotesi, quindi A, M, C allineati)

I due triangoli AMD e CMB sono congruenti per il secondo criterio di congruenza, di conseguenza  $AD \cong BC$ , perché elementi corrispondenti in triangoli congruenti.

□



13. Determina le misure delle ampiezze degli angoli indicati nella figura 1, spiegando il tuo ragionamento ed enunciando i teoremi usati.

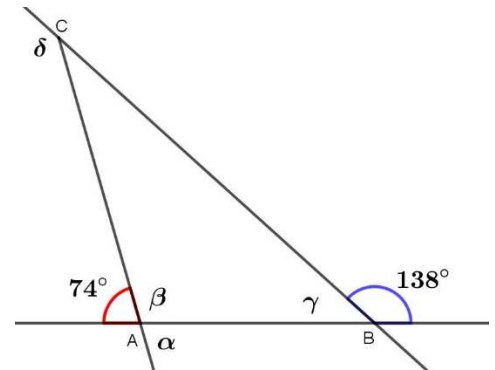
L'angolo  $\alpha \cong 74^\circ$ , in quanto angolo opposto al vertice di quello dato: due angoli opposti al vertice sono sempre congruenti.

Possiamo quindi determinare gli angoli adiacenti  $\beta$  e  $\gamma$ , che sono supplementari dei due angoli dati e quindi hanno ampiezza rispettivamente:

$$\beta \cong 180^\circ - \alpha \cong 106^\circ \quad \gamma \cong 180^\circ - 138^\circ \cong 42^\circ$$

A questo punto, per determinare l'angolo  $\delta$  possiamo applicare il secondo teorema dell'angolo esterno, secondo il quale: un angolo esterno di un triangolo è congruente alla somma dei due angoli interni ad esso non adiacenti:

$$\delta \cong \beta + \gamma \cong 106^\circ + 42^\circ = 148^\circ$$



14. Trova l'ampiezza dell'angolo  $\hat{A}CB$  indicato in figura 2, spiegando il tuo ragionamento.

Individuo sulla retta  $a$  il punto  $E$  e sulla retta  $b$  il punto  $F$ . Traccio la retta  $c$  passante per  $C$  e parallela alle due rette date. Individuo su di essa il punto  $D$ .

Considero le due rette parallele  $a$  e  $c$ : gli angoli  $E\hat{A}C$  e  $A\hat{C}D$  sono angoli coniugati e quindi supplementari, perciò:

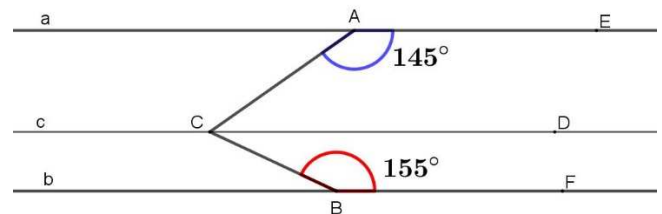
$$A\hat{C}D \cong 180^\circ - E\hat{A}C \cong 35^\circ$$

Analogamente, considero le due rette parallele  $c$  e  $b$ : gli angoli  $D\hat{C}B$  e  $C\hat{B}F$  sono angoli coniugati e quindi supplementari, perciò:

$$D\hat{C}B \cong 180^\circ - C\hat{B}F \cong 25^\circ$$

Abbiamo tutti gli elementi per determinare l'angolo richiesto:

$$A\hat{C}B \cong D\hat{C}B + A\hat{C}D \cong 25^\circ + 35^\circ = 60^\circ$$



15. Determina le misure delle ampiezze dell'angolo indicato nella figura a lato, spiegando il tuo ragionamento ed enunciando i teoremi usati.

Il triangolo rappresentato è isoscele, perciò gli angoli alla base sono congruenti, ovvero:

$$C\hat{A}B \cong A\hat{B}C \cong 67^\circ$$

La somma degli angoli interni di un triangolo è  $180^\circ$ , ovvero:

$$C\hat{A}B + A\hat{B}C + B\hat{C}A \cong 180^\circ \Rightarrow B\hat{C}A \cong 180^\circ - C\hat{A}B - A\hat{B}C \cong 46^\circ$$

