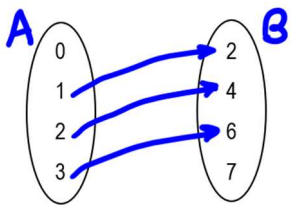
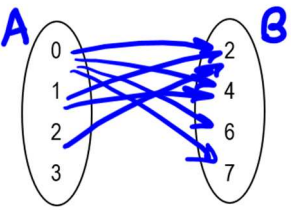


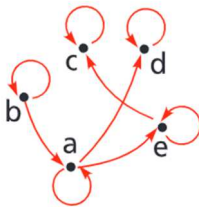
1. Dati gli insiemi $A = \{a \in \mathbb{N} | a \leq 3\}$ e $B = \{2, 4, 6, 7\}$, per ognuna delle seguenti relazioni \mathcal{R} in $A \times B$ completa la seguente tabella:

$$a\mathcal{R}b \Leftrightarrow a = \frac{1}{2}b$$

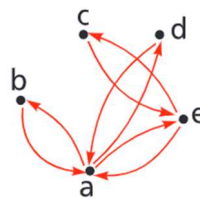
$$a\mathcal{R}b \Leftrightarrow ab \leq 5$$

Rappresentazione per elencazione	Rappresentazione sagittale	Dominio e Codominio	Relazione inversa (per elencazione)
$\mathcal{R} = \{(1; 2); (2; 4); (3; 6)\}$		$D = \{1; 2; 3\}$ $C = \{2; 4; 6\}$	$\mathcal{R}^{-1} = \{(2; 1); (4; 2); (6; 3)\}$
$\mathcal{R} = \{(0; 2); (0; 4); (0; 6); (0; 7); (1; 2); (1; 4); (2; 2)\}$		$D = \{0; 1; 2\}$ $C = B$	$\mathcal{R}^{-1} = \{(2; 0); (4; 0); (6; 0); (7; 0); (2; 1); (4; 1); (2; 2)\}$

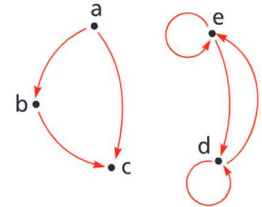
2. Analizza le proprietà delle relazioni, definite in $A = \{a, b, c, d, e\}$, che hanno le seguenti rappresentazioni:



Riflessiva, Antisimmetrica

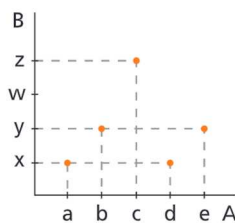


Antiriflessiva, Simmetrica

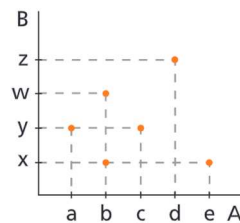


Transitiva

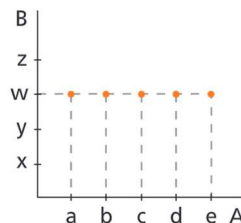
3. Stabilisci per ogni diagramma cartesiano se la relazione rappresentata è una funzione e, in tal caso, se è iniettiva o suriettiva:



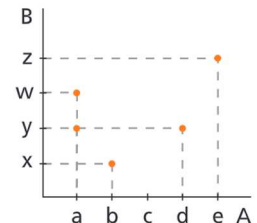
Funzione, non iniettiva né suriettiva



Non funzione



Funzione, non iniettiva né suriettiva

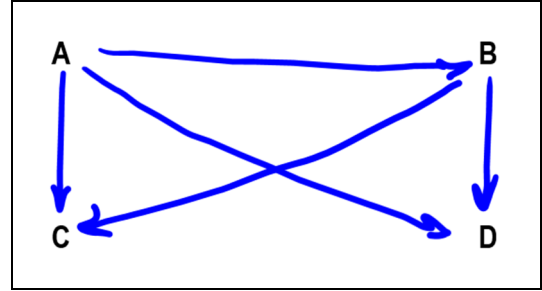


Non funzione

4. Quattro amici, Andrea (A), Bruno (B), Carlo (C) e Dario (D), si sfidano a un gioco in cui o si vince o si perde. Sia data la relazione:

$$aRb \leftrightarrow a \text{ ha perso contro } b$$

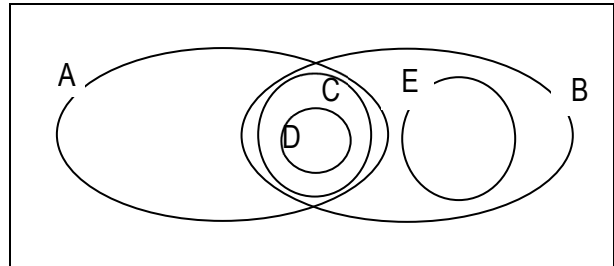
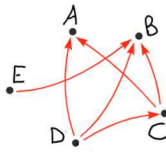
Rappresenta la relazione con un grafo, sapendo che Andrea ha perso contro tutti, mentre Bruno ha perso contro Carlo e Dario. Quante partite sono state giocate? **5**



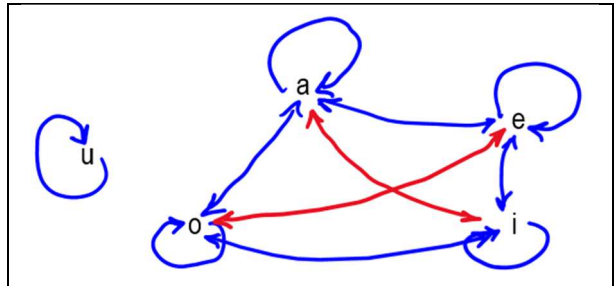
Stabilisci se la relazione è di ordine e, in caso affermativo, specifica se è di ordine stretto o largo, totale o parziale.

La relazione è antiriflessiva, antisimmetrica e transitiva, quindi è una relazione di ordine stretto parziale.

5. Nel grafo è descritta la relazione \subset fra alcuni insiemi. Disegna un diagramma di Eulero-Venn con insiemi tali da soddisfare la relazione.



6. Sia A l'insieme delle vocali e sia \mathcal{R} una relazione definita in A. Sapendo che \mathcal{R} è riflessiva e simmetrica e che aRe , aRo , eRi , iRo , dopo aver rappresentato in un grafo la relazione, determina quali condizioni occorre aggiungere per poter affermare, sotto queste ipotesi, che \mathcal{R} è una relazione di equivalenza.



Bisogna aggiungere eRo e quindi oRe , aRi e iRa

7. Dato l'insieme $A = \{1, 2, 3, 4\}$ e la relazione $\mathcal{R} = \{(1,1), (1,2), (1,3), (1,4), (2,2), (3,2), (3,4), (3,3), (2,4), (4,4)\}$, stabilisci di quali proprietà gode.

Gode della proprietà riflessiva, antisimmetrica e transitiva.

Che tipo di relazione è? **Una relazione di ordine largo totale.**

8. Dall'esame del grafico della funzione rappresentato in figura, deduci:

Dominio: \mathbb{R}

Codominio: $\{y \in \mathbb{R} \mid y > -1\}$

$f(7) = 2$

$f(4) = 1$

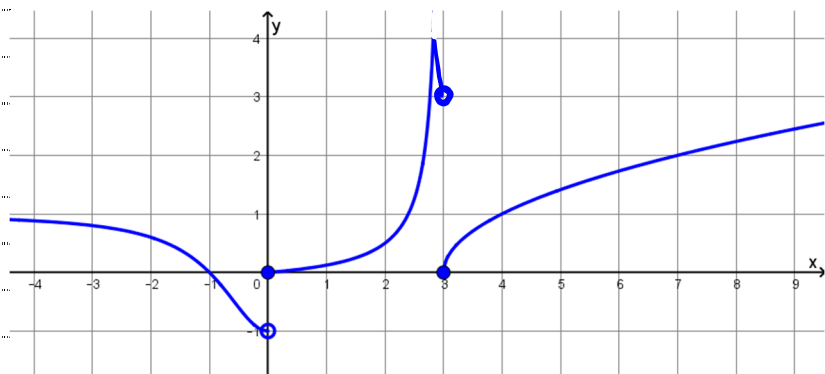
Immagine di 3: **0**

Controimmagine di 0: **-1, 0, 3**

Controimmagine di -1: **non esiste**

Iniettiva? **NO**

Suriettiva? **NO**



9. Per ciascuna delle seguenti funzioni f definite in A , determina il codominio C e stabilisci se $f: A \rightarrow C$ è una funzione invertibile. In caso affermativo, scrivi l'espressione analitica della corrispondente funzione inversa.

$$f: x \rightarrow 2x + 1 \quad A = \{-2, -1, 0, 2, 3\} \quad C = \{-3, -1, 1, 5, 7\}$$

$$\text{È invertibile? Si} \quad f^{-1}(y) = \frac{y-1}{2}$$

$$f: x \rightarrow \frac{x^2}{|x|+1} \quad A = \{-2, -1, 0, 1, 2\} \quad C = \left\{\frac{4}{3}; \frac{1}{2}; 0\right\}$$

$$\text{È invertibile? NO} \quad f^{-1}(y) = // //$$

10. Date le funzioni $f: x \rightarrow 2x - 1$, $g: x \rightarrow x^2 - 1$ e $h: x \rightarrow \frac{x}{x-1}$ con $x \in \mathbb{R}$, determina:

$$f(g(h(2))) = f(g(2)) = f(3) = 5$$

$$g(h(f(0))) = g(h(-1)) = g\left(\frac{1}{2}\right) = -\frac{3}{4}$$

$$f \circ g(x) = f(x^2 - 1) = 2(x^2 - 1) - 1 = 2x^2 - 3$$

$$g \circ f(x) = g(2x - 1) = (2x - 1)^2 - 1 = 4x^2 - 4x + 1 - 1 = 4x^2 - 4x$$

$$\text{Risolvi l'equazione: } 2(f \circ g(x)) - (g \circ f(x)) + 2x = 0$$

$$2(2x^2 - 3) - (4x^2 - 4x) + 2x = 0$$

$$4x^2 - 6 - 4x^2 + 4x + 2x = 0$$

$$6x = 6$$

$$x = 1$$

11. Determina il dominio delle funzioni aventi le seguenti equazioni:

$$f(x) = \frac{1}{x} - 2 \quad D = \mathbb{R} - \{0\}$$

$$f(x) = \frac{5}{|x|+1} \quad D = \mathbb{R} \quad (\text{il denominatore è sempre diverso da 0, in quanto somma di due quantità positive})$$

$$f(x) = \frac{3x-1}{9x^2-1} \quad 9x^2 - 1 \neq 0 \quad (3x-1)(3x+1) \neq 0 \quad D = \mathbb{R} - \left\{\pm \frac{1}{3}\right\}$$

$$f(x) = \frac{2x}{x^3-1} \quad x^3 - 1 \neq 0 \quad (x-1)(x^2+x+1) \neq 0 \quad D = \mathbb{R} - \{1\}$$

$$f(x) = \frac{1}{x^3-4x^2+4x-16} \quad x^2(x-4) + 4(x-4) \neq 0 \quad (x-4)(x^2+4) \neq 0 \quad D = \mathbb{R} - \{4\}$$

12. La funzione lineare $f(x) = mx + k$ è tale che $f(1) = -2$ e $f(-2) = 11$. Qual è la variazione del valore di $f(x)$ quando x aumenta di 2? (descrivi e motiva il procedimento)

$$m = \frac{f(1) - f(-2)}{1 - (-2)} = \frac{-2 - 11}{3} = -\frac{13}{3}$$

$$-\frac{13}{3} = \frac{f(x+2) - f(x)}{x+2-x} \quad f(x+2) - f(x) = -\frac{26}{3}$$

Potremmo anche tradurre il problema con le proporzioni: quando c'è un aumento di 3, la funzione diminuisce di 13, quindi quando c'è un aumento di 2:

$$3 : (-13) = 2 : x \quad x = \frac{-13 \cdot 2}{3} = -\frac{26}{3}$$

13. La grandezza y è direttamente proporzionale al cubo della grandezza x e, per $x = 1$ si ha $y = 4$. Quindi, se $x = \frac{1}{2}$, y è uguale a:

Se la grandezza y è direttamente proporzionale al cubo della grandezza x , otteniamo: $\frac{y}{x^3} = \text{cost.}$

Possiamo determinare questa costante sostituendo i valori dati: $\frac{4}{1^3} = 4$, perciò otteniamo la relazione: $y = 4x^3$. Sostituendo $x = \frac{1}{2}$, otteniamo:

$$y = 4 \cdot \left(\frac{1}{2}\right)^3 = 4 \cdot \frac{1}{8} = \frac{1}{2}$$

14. Data la funzione $f(x) = \frac{4}{x}$, determina $f \circ f$ (una composizione di f con se stessa) e $f \circ f \circ f$ (due composizioni). Considera poi la funzione $g(x)$ che ottieni componendo f con se stessa sedici volte. Quanto vale $g(16)$?

$f \circ f(x) = f\left(\frac{4}{x}\right) = \frac{4}{\frac{4}{x}} = x$ ovvero con una composizione, ottengo l'identità

$f \circ f \circ f(x) = f \circ f\left(\frac{4}{x}\right) = f(x) = \frac{4}{x}$ ovvero con due composizioni, è come se applicasse semplicemente la funzione.

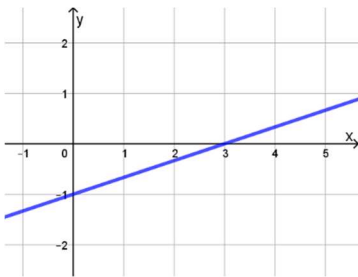
Quindi, applicando la funzione 16 volte, ovvero un numero pari di volte, ottengo:

$$g(x) = f(x) = \frac{4}{x} \qquad g(16) = \frac{4}{16} = \frac{1}{4}$$

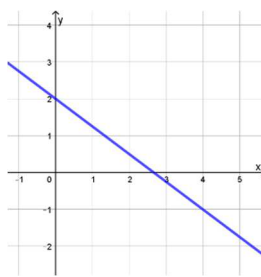
15. Considera le seguenti tabelle, stabilisci il tipo di proporzionalità che sussiste tra x e y e scrivi l'equazione della funzione di tale proporzionalità.

							Proporzionalità	Equazione
x	-3	$-\frac{3}{2}$	-1	0	3	6	Proporzionalità quadratica diretta	$y = \frac{2}{3}x^2$
y	6	$\frac{3}{2}$	$\frac{2}{3}$	0	6	24		
x	-8	-4	$-\frac{3}{2}$	-1	2	3	Proporzionalità inversa	$y = -\frac{24}{x}$
y	3	6	16	24	-12	-8		

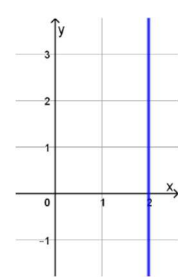
16. Scrivi l'equazione associata a ogni grafico:



$$y = \frac{1}{3}x - 1$$



$$y = -\frac{3}{4}x + 2$$



$$x = 2$$

17. Dato $A = \frac{B^2}{3C}$

Se B raddoppia e C rimane costante A **quadruplica**

Se C raddoppia e B rimane costante A **dimezza**

Se C dimezza e B rimane costante A **raddoppia**

Se B raddoppia e C raddoppia A **raddoppia**