

1. Rappresenta graficamente il seguente sistema: $\begin{cases} x^2 + y^2 - 4x - 8y + 11 \leq 0 \\ 9x^2 + 4y^2 - 36x - 32y + 64 \geq 0 \\ x - 3y + 10 < 0 \end{cases}$ e calcola l'area.

La prima è l'equazione di una circonferenza di centro (2,4) e raggio 3 e ne considero solo la parte interna.

La seconda è l'equazione di un'ellisse:

$$9(x^2 - 4x + 4) + 4(y^2 - 8y + 16) = -64 + 36 + 64$$

$$9(x - 2)^2 + 4(y - 4)^2 = 36$$

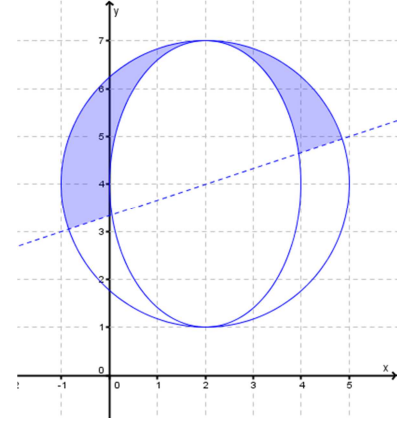
$$\frac{(x - 2)^2}{4} + \frac{(y - 4)^2}{9} = 1$$

di centro di simmetria coincidente con il centro della circonferenza e semiassi 2 e 3. Dell'ellisse considero solo la parte esterna.

L'ultima disequazione è quella di una retta passante per il centro della circonferenza e ne considero solo il semipiano superiore.

Per calcolare l'area, faccio la semidifferenza tra l'area della circonferenza e quella dell'ellisse:

$$Area = \frac{9\pi - 6\pi}{2} = \frac{3}{2}\pi$$



2. Risolvi:

$$\begin{cases} \sqrt{2 + 3x} - kx - k = 0 \\ -\frac{2}{3} \leq x \leq 1 \end{cases}$$

$$\begin{cases} y = \sqrt{2 + 3x} \\ y - kx - k = 0 \\ -\frac{2}{3} \leq x \leq 1 \end{cases}$$

$$\begin{cases} x = \frac{1}{3}y^2 - \frac{2}{3} \\ y - k(x + 1) = 0 \\ -\frac{2}{3} \leq x \leq 1 \wedge y \geq 0 \end{cases}$$

Si tratta di una parabola – precisamente solo la parte superiore della parabola – con asse di simmetria parallelo all'asse x e di vertice $V(-\frac{2}{3}, 0)$ e di un fascio proprio di rette di centro $C(-1, 0)$.

Il tratto di parabola è quello che parte dal vertice e arriva al punto A.

A ha ascissa 1 e, per determinarne l'ordinata, sostituisco l'ascissa nell'equazione della parabola, perciò: $A(1; \sqrt{5})$. Il punto di ascissa $-\frac{2}{3}$ è invece il vertice.

Impongo il passaggio del fascio per i due punti dati:

$$A(1; \sqrt{5}): \sqrt{5} - k - k = 0 \Rightarrow k = \frac{\sqrt{5}}{2}$$

Imponendo il passaggio del fascio per V, ottengo una delle generatrici, ovvero $k = 0$.

Determino il valore del parametro per la retta tangente:

$$y - k\left(\frac{1}{3}y^2 - \frac{2}{3}\right) - k = 0 \quad ky^2 - 3y + k = 0$$

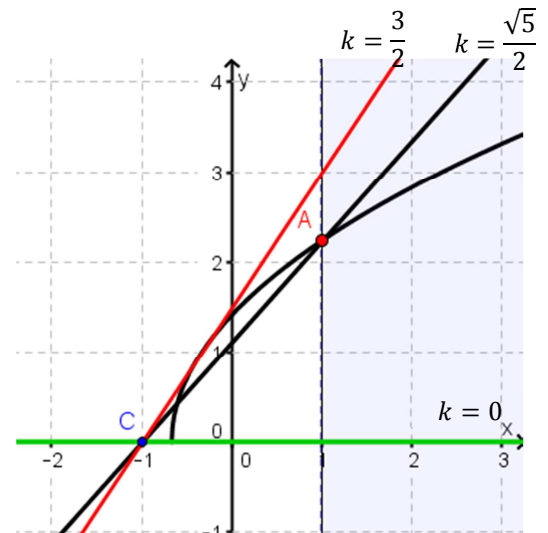
$$\Delta = 9 - 4k^2 = 0 \quad k = \pm \frac{3}{2}$$

E il valore della tangente al ramo di parabola considerato è quello positivo.

Concludendo quindi:

$$1 \text{ soluzione per } 0 \leq k < \frac{\sqrt{5}}{2}$$

$$2 \text{ soluzioni per } \frac{\sqrt{5}}{2} \leq k \leq \frac{3}{2}$$



3. Determina per quali valori del parametro reale k l'equazione: $kx^2 + (2k + 1)y^2 + 2x + 2y - 2 = 0$ rappresenta: a) una circonferenza; b) una parabola con asse parallelo agli assi coordinati; c) un'iperbole; d) un'ellisse.

A. Perché l'equazione rappresenti una circonferenza, i due coefficienti dei termini di secondo grado devono essere uguali:

$$k = 2k + 1 \quad \Rightarrow \quad k = -1$$

Per tale valore di k , ottengo la circonferenza: $x^2 + y^2 - 2x - 2y + 2 = 0$, che è una circonferenza degenera nel suo centro.

B. Perché l'equazione rappresenti una parabola con asse parallelo all'asse y , il coefficiente del termine di secondo grado in y deve essere nullo; perché l'equazione rappresenti una parabola con asse parallelo all'asse x , il coefficiente del termine di secondo grado in x deve essere nullo, perciò:

$$k = 0 \quad \vee \quad k = -\frac{1}{2}$$

C. Perché l'equazione rappresenti un'iperbole, i due coefficienti dei termini di secondo grado devono essere discordi:

$$k(2k + 1) < 0 \quad \Rightarrow \quad -\frac{1}{2} < k < 0$$

D. Perché l'equazione rappresenti un'ellisse, i coefficienti dei termini di secondo grado e il coefficiente s devono essere concordi. Cominciamo con il determinare l'equazione canonica dell'ellisse, con il completamento del quadrato:

$$k \left(x^2 + \frac{2}{k}x + \frac{1}{k^2} \right) + (2k + 1) \left(y^2 + \frac{2}{2k + 1}y + \frac{1}{(2k + 1)^2} \right) = 2 + \frac{1}{k} + \frac{1}{2k + 1}$$

Ora abbiamo il coefficiente s che è il secondo membro dell'equazione:

$$\begin{cases} k > 0 \\ 2k + 1 > 0 \\ 2 + \frac{1}{k} + \frac{1}{2k + 1} \geq 0 \end{cases} \quad \vee \quad \begin{cases} k < 0 \\ 2k + 1 < 0 \\ 2 + \frac{1}{k} + \frac{1}{2k + 1} \leq 0 \end{cases}$$

$$\begin{cases} k > 0 \\ k > -\frac{1}{2} \\ 4k^2 + 2k + 2k + 1 + k \geq 0 \end{cases} \quad \vee \quad \begin{cases} k < 0 \\ k < -\frac{1}{2} \\ 4k^2 + 2k + 2k + 1 + k \leq 0 \end{cases}$$

$$\begin{cases} k > 0 \\ k > -\frac{1}{2} \\ 4k^2 + 5k + 1 \geq 0 \end{cases} \quad \vee \quad \begin{cases} k < 0 \\ k < -\frac{1}{2} \\ 4k^2 + 5k + 1 \leq 0 \end{cases}$$

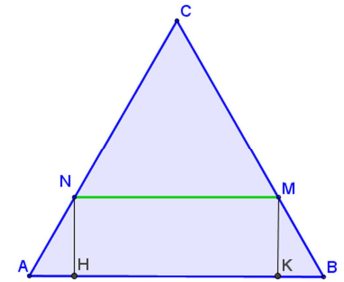
$$k_{1,2} = \frac{-5 \pm \sqrt{25 - 16}}{8}$$

$$\begin{cases} k > 0 \\ k > -\frac{1}{2} \\ k \leq -1 \quad \vee \quad k \geq -\frac{1}{4} \end{cases} \quad \vee \quad \begin{cases} k < 0 \\ k < -\frac{1}{2} \\ -1 \leq k \leq -\frac{1}{4} \end{cases}$$

$$k > 0 \quad \vee \quad -1 \leq k < -\frac{1}{2}$$

4. Nel triangolo equilatero ABC di lato unitario conduci una parallela al lato AB che incontri gli altri due lati nei due punti M e N in modo che nel trapezio ABMN la somma dei quadrati dei lati obliqui e della base minore misuri k ($k \in \mathbb{R}^+$).

Rappresento il triangolo equilatero ABC. Considero il punto M sul lato BC e traccio la parallela al lato AB che intercetta il lato AC in N. Considero come incognita il lato MN.



Valutiamo i due casi limite:

$$\begin{aligned} M \equiv B: x = 1: \overline{MB} = \overline{NA} = 0 &\Rightarrow k = 0 \text{ acc.} \\ M \equiv N \equiv C: x = 0: \overline{MB} = \overline{NA} = 1 &\Rightarrow k = 2 \text{ acc.} \end{aligned}$$

Perciò: $0 \leq x \leq 1$.

Determiniamo l'equazione generica, considerando che il triangolo CNM è simile al triangolo ABC, visto che MN è stata costruita come parallela al lato AB, perciò CMN è equilatero:

$$\overline{AN} = \overline{MB} = \overline{BC} - \overline{CM} = \overline{BC} - \overline{MN} = 1 - x$$

Perciò la relazione data diventa:

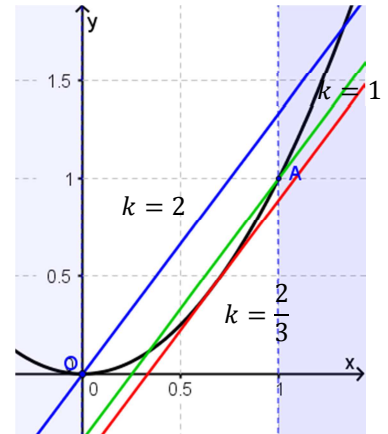
$$\overline{AN}^2 + \overline{MB}^2 + \overline{MN}^2 = k \quad 2(1-x)^2 + x^2 = k$$

Perciò il sistema è:

$$\begin{cases} 3x^2 - 4x + 2 - k = 0 \\ 0 \leq x \leq 1 \end{cases}$$

E, applicando il metodo della parabola fissa:

$$\begin{cases} y = x^2 \\ 3y - 4x + 2 - k = 0 \\ 0 \leq x \leq 1 \end{cases}$$



Impongo il passaggio del fascio per i due punti limite A e O:

$$\begin{aligned} O(0; 0): 2 - k = 0 &\Rightarrow k = 2 \\ A(1; 1): 3 - 4 + 2 - k = 0 &\Rightarrow k = 1 \end{aligned}$$

Determino il valore del parametro per la retta tangente:

$$3x^2 - 4x + 2 - k = 0 \Rightarrow \frac{\Delta}{4} = 4 - 3(2 - k) = 0 \quad 3k = -4 + 6 \quad k = \frac{2}{3}$$

Concludendo quindi:

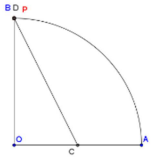
$$1 \text{ soluzione per } 1 < k \leq 2 \quad 2 \text{ soluzioni per } \frac{2}{3} \leq k \leq 1$$

5. L'arco \widehat{AB} è la quarta parte di una circonferenza di centro O e raggio di misura unitaria. Determina un punto P dell'arco in modo che, detti C il punto medio di OA e D la proiezione ortogonale di P su OB, si abbia

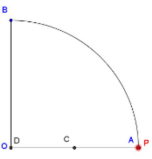
$$2\overline{PC}^2 + 3\overline{PD}^2 = k$$

Sia $\overline{PD} = x$.

Procediamo prima con i casi limite:



$P \equiv B$ cioè $x = 0$: $\overline{PC}^2 = 1 + \frac{1}{4} = \frac{5}{4}$; $\overline{PD}^2 = 0 \Rightarrow k = \frac{5}{2}$ acc.



$P \equiv A$ cioè $x = 1$: $\overline{PC}^2 = \frac{1}{4}$; $\overline{PD}^2 = 1 \Rightarrow k = \frac{7}{2}$ acc.

Perciò: $0 \leq x \leq 1$

Costruiamo la relazione, applicando il teorema di Pitagora:

$$\overline{OD}^2 = 1 - \overline{PD}^2 = 1 - x^2 \qquad \overline{PC}^2 = \overline{OD}^2 + (\overline{PD} - \overline{OC})^2 = 1 - x^2 + \left(x - \frac{1}{2}\right)^2 = \frac{5}{4} - x$$

E quindi la relazione è:

$$\frac{5}{2} - 2x + 3x^2 = k \qquad (1)$$

Il sistema è, applicando il metodo della parabola fissa:

$$\begin{cases} y = x^2 \\ 5 - 4x + 6y = 2k \\ 0 \leq x \leq 1 \end{cases}$$

Impongo il passaggio del fascio per i due punti limite A e O:

$$A(1; 1): 5 - 4 + 6 = 2k \Rightarrow k = \frac{7}{2}$$

$$O(0; 0): 5 = 2k \Rightarrow k = \frac{5}{2}$$

Determino il valore del parametro per la retta tangente, usando la relazione (1) che corrisponde alla risolvente:

$$6x^2 - 4x + 5 - 2k = 0$$

$$\frac{\Delta}{4} = 4 - 6(5 - 2k) = 0 \Rightarrow 4 - 30 + 12k = 0 \Rightarrow k = \frac{13}{6}$$

Concludendo quindi:

1 soluzione per $\frac{5}{2} < k \leq \frac{7}{2}$ **2 soluzioni per** $\frac{13}{6} \leq k \leq \frac{5}{2}$

