

1. Un'automobile si trova a passare in un tratto dell'autostrada Milano-Brescia sorvegliato dal sistema Tutor, dove il limite di velocità è di 130 km/h. A metà del tratto, l'autista si accorge di aver tenuto una velocità costante di 160 km/h e capisce di rischiare una contravvenzione. Quale dovrà essere la sua velocità nel resto del percorso, per essere sicuro di rispettare il limite di velocità?

$$v_L = 130 \text{ km/h} \quad v_1 = 160 \text{ km/h} \quad v_2?$$

La velocità è data, per definizione, da: $v = \frac{\Delta s}{\Delta t}$.

Per non incorrere in una contravvenzione, l'automobilista dovrà mantenere una velocità media pari alla velocità limite, perciò il rapporto tra l'intero tratto di autostrada e il tempo impiegato a percorrerlo dovrà dare come risultato la velocità limite.

Il tempo totale per percorrere tale tratto sarà dato da: $\Delta t_L = \frac{s}{v_L}$. Tale tempo è dato da: $\Delta t_L = \Delta t_1 + \Delta t_2$, dove il primo intervallo di tempo Δt_1 è il tempo necessario per percorrere la prima metà del tratto $s/2$ con una velocità v_1 , mentre il secondo, Δt_2 , è il tempo per percorrere la seconda metà del tratto di strada $s/2$, ovvero:

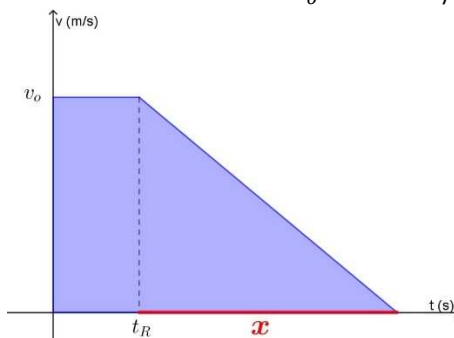
$$\Delta t_L = \Delta t_1 + \Delta t_2 \quad \Rightarrow \quad \Delta t_2 = \Delta t_L - \Delta t_1 = \frac{s}{v_L} - \frac{s/2}{v_1} = \frac{s}{v_L} - \frac{s}{2v_1} = \frac{s}{2} \left(\frac{2}{v_L} - \frac{1}{v_1} \right)$$

È quindi possibile, a questo punto, determinare la velocità v_2 :

$$v_2 = \frac{s_2}{\Delta t_2} = \frac{s/2}{s/2 \left(\frac{2}{v_L} - \frac{1}{v_1} \right)} = \frac{1}{\frac{2}{v_L} - \frac{1}{v_1}} = \frac{v_1 v_L}{2v_1 - v_L} = \mathbf{109 \text{ km/h}}$$

2. Un automobilista sta viaggiando alla velocità di 108 km/h, quando nota un ostacolo a 75 m di distanza. Supponendo che l'autista abbia un tempo di reazione di 1 s e sapendo che riesce a evitare l'ostacolo per un soffio, quanto dura la fase di decelerazione?

$$v_o = 108 \text{ km/h} = 30 \text{ m/s} \quad d = 75 \text{ m} \quad t_R = 1 \text{ s} \quad t?$$



Il grafico velocità tempo della situazione descritta è rappresentato a lato. L'area colorata, quella sottesa dal grafico, rappresenta lo spazio percorso, e il tempo della fase di decelerazione è indicato dal segmento rosso. Usando l'area del trapezio è possibile determinare, velocemente, il tempo della fase di decelerazione:

$$d = \frac{v_o}{2} \cdot (t_R + t_R + x) \quad \Rightarrow \quad x = \frac{2d}{v_o} - 2t_R = \mathbf{3 \text{ s}}$$

3. Due auto stanno percorrendo un tratto di strada con una velocità di 90 km/h e si trovano a una distanza di 25 m. L'autista dell'auto che precede frena improvvisamente e il secondo automobilista, quando vede gli stop accesi, impiega 1,2 s per reagire.
- A. Se hanno la stessa decelerazione, il secondo automobilista riesce a fermarsi in modo da evitare l'impatto?
- B. A parità di decelerazione e tempo di reazione, che distanza di sicurezza dall'auto precedente avrebbe dovuto mantenere il secondo automobilista?

$$v_o = 90 \text{ km/h} = 25 \text{ m/s} \quad d = 25 \text{ m} \quad t_R = 1,2 \text{ s} \quad a_A = a_B$$

- A. La distanza d diminuisce nel momento in cui la macchina che precede (indichiamola con B) comincia a frenare. Nel momento in cui B comincia a frenare, per A comincia a scorrere il tempo di reazione, durante il quale il suo moto è ancora rettilineo uniforme. Siccome le due auto hanno la stessa decelerazione e partono dalla stessa velocità, hanno lo stesso spazio di frenata, perciò ciò che conta è il tempo percorso da A durante il tempo di reazione. Tale distanza deve essere minore di quella iniziale tra le due auto:

$$\frac{v^2 - v_o^2}{2a_A} + v_o t_R \leq d + \frac{v^2 - v_o^2}{2a_B} \quad \Rightarrow \quad v_o t_R \leq d$$

Ma $v_o t_R = 30 \text{ m}$, perciò, mantenendo la stessa decelerazione dell'auto che precede, l'automobilista **NON** riuscirebbe a evitare l'impatto.

- B. Per riuscire a evitare l'impatto, la distanza di sicurezza deve essere maggiore, tutt'al più uguale, alla distanza percorsa durante il tempo di reazione, ovvero: $d \geq \mathbf{30 \text{ m}}$.

4. Un'automobile viaggia alla velocità di 117 km/h. A un certo istante il conducente vede, davanti a sé, i fanali posteriori di un furgone che si muove alla velocità di 20,0 m/s e, quando la distanza tra i due veicoli si è ormai ridotta a 50,0 m, comincia a frenare.
- Determina il minimo valore (in modulo) dell'accelerazione che consente all'auto di non tamponare il furgone
 - Rappresenta il grafico velocità-tempo della situazione descritta
 - Quale distanza ha percorso l'auto prima di raggiungere il furgone?

$$v_o = 117 \text{ km/h} = 32,5 \text{ m/s} \quad v_F = 20,0 \text{ m/s} \quad d = 50,0 \text{ m} \quad a?$$

- A. L'auto si muove di moto rettilineo uniformemente accelerato, mentre il furgone procede con moto rettilineo uniforme. Dopo aver determinato le loro leggi orarie, pongo uguale la posizione finale:

$$\begin{cases} s = v_o t + \frac{1}{2} a t^2 \\ s = d + v_F t \end{cases} \quad v_o t + \frac{1}{2} a t^2 = d + v_F t$$

Nell'equazione appena trovata ho due incognite, l'accelerazione e il tempo di frenata, ma posso sostituire all'accelerazione la sua definizione, data, in questo caso, da: $a = \frac{v_F - v_o}{t}$, dato che la velocità finale raggiunta dall'auto dovrebbe essere uguale a quella del furgone, per evitare il tamponamento:

$$v_o t + \frac{1}{2} \cdot \frac{v_F - v_o}{t} t^2 = d + v_F t \quad \Rightarrow \quad 2v_o t + v_F t - v_o t = 2d + 2v_F t$$

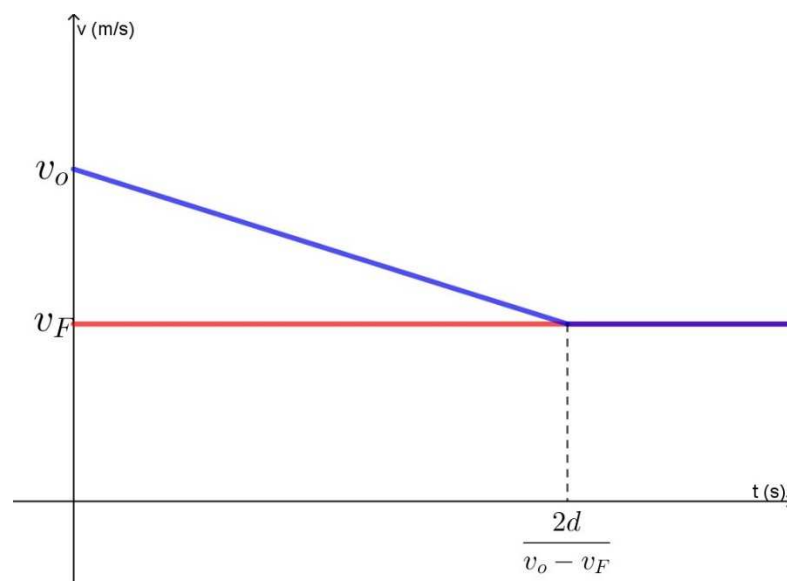
Da questa semplice equazione di primo grado, possiamo ricavare il tempo in funzione delle due velocità e della distanza tra i due veicoli:

$$v_o t - v_F t = 2d \quad \Rightarrow \quad t(v_o - v_F) = 2d \quad \Rightarrow \quad t = \frac{2d}{v_o - v_F}$$

Siccome è stata richiesta l'accelerazione, sostituisco l'espressione trovata nella definizione di accelerazione e calcolo il valore richiesto:

$$a = \frac{v_F - v_o}{t} = \frac{v_F - v_o}{\frac{2d}{v_o - v_F}} = -(v_o - v_F) \cdot \frac{v_o - v_F}{2d} = -\frac{(v_o - v_F)^2}{2d} = \mathbf{-1,56 \text{ m/s}^2}$$

- B. Dopo aver determinato l'istante in cui l'auto raggiunge il furgone (l'abbiamo ricavato nel punto precedente: $t = \frac{2d}{v_o - v_F} = 5,71 \text{ s}$), possiamo rappresentare il grafico velocità-tempo dei due moti, ricordando che il furgone si muove di moto rettilineo uniforme, ovvero procede con velocità costante, mentre l'auto decelera fino a quando raggiunge il furgone e poi procede con moto rettilineo uniforme, accodato al furgone.

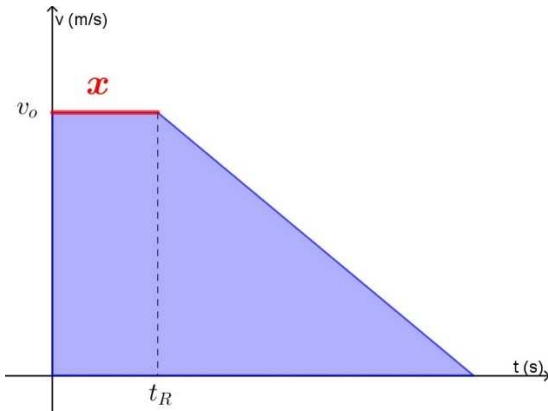


- C. Per procedere più rapidamente nel determinare lo spazio percorso dall'auto, basta determinare l'area sottesa dal grafico precedente, fino al punto in cui l'auto raggiunge il furgone, ovvero:

$$s = \frac{v_o + v_F}{2} \cdot \frac{2d}{v_o - v_F} = \mathbf{164 \text{ m}}$$

5. Svolgi a tua scelta uno dei seguenti quesiti:

A. Lo spazio di arresto di un'auto, che si muoveva con una velocità iniziale v_0 , è dato da s . Supponendo che la decelerazione durante la frenata sia data da a , dimostra che il tempo di reazione dell'automobilista è dato dall'espressione $t = \frac{2as + v_0^2}{2av_0}$.



Il grafico velocità tempo della situazione descritta è rappresentato a lato. L'area colorata, quella sottesa dal grafico, rappresenta lo spazio percorso, e il tempo di reazione è indicato dal segmento rosso. Usando l'area del trapezio è possibile determinare, velocemente, il tempo richiesto, ricordando che l'accelerazione è data da:

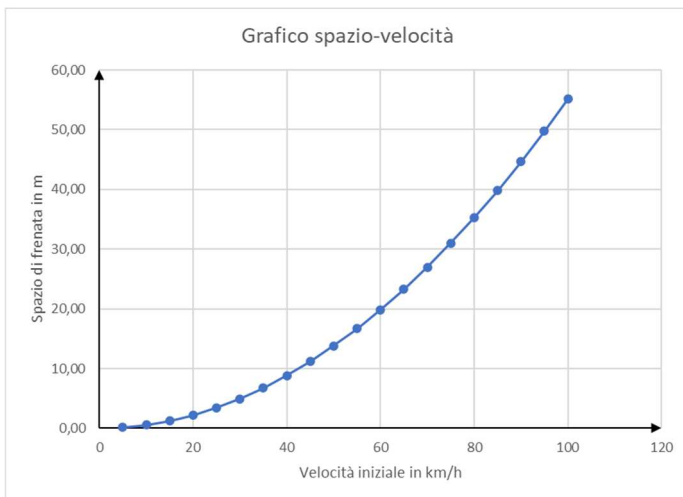
$$a = \frac{v - v_0}{t} = -\frac{v_0}{t} \Rightarrow t = -\frac{v_0}{a}$$

Dove t è il tempo della frenata:

$$s = \frac{v_0}{2} \cdot (x + x + t) \Rightarrow 2x + t = \frac{2s}{v_0}$$

$$\Rightarrow x = \frac{s}{v_0} - \frac{t}{2} = \frac{s}{v_0} + \frac{v_0}{2a} = \frac{2as + v_0^2}{2av_0}$$

B. Rappresenta qualitativamente il grafico del moto di arresto di un veicolo che si muoveva con velocità iniziale v_0 , rappresentando lo spazio di frenata in funzione della velocità iniziale e motivando coerentemente le tue affermazioni.



Il grafico spazio-velocità evidenzia la dipendenza dello spazio di frenata dalla velocità iniziale del veicolo ed è rappresentato da un ramo di parabola, perché lo spazio di frenata dipende dal quadrato della velocità, infatti, ponendo una velocità finale uguale a zero nella frenata, otteniamo:

$$s = \frac{v^2 - v_0^2}{2a} \Rightarrow s = -\frac{v_0^2}{2a}$$

Il coefficiente $-\frac{1}{2a}$ è positivo, dato che l'accelerazione, essendo una decelerazione, è negativa e quindi la concavità della parabola è rivolta verso l'alto, come rappresentato a lato.