

1. Calcola la derivata di $y = \cos x$ usando la definizione di derivata.

$$\begin{aligned} y' &= \lim_{h \rightarrow 0} \frac{\cos(x+h) - \cos x}{h} = \lim_{h \rightarrow 0} \frac{\cos x \cos h - \operatorname{sen} x \operatorname{sen} h - \cos x}{h} = \lim_{h \rightarrow 0} \frac{\cos x (\cos h - 1)}{h} - \lim_{h \rightarrow 0} \frac{\operatorname{sen} x \operatorname{sen} h}{h} = \\ &= \lim_{h \rightarrow 0} \frac{\cos x (\cos h - 1)(\cos h + 1)}{h (\cos h + 1)} - \operatorname{sen} x = \cos x \lim_{h \rightarrow 0} \frac{-\operatorname{sen} h \cdot \operatorname{sen} h}{h (\cos h + 1)} - \operatorname{sen} x = -\operatorname{sen} x \end{aligned}$$

2. Disegna il grafico delle seguenti funzioni e per ciascuna indica i punti del dominio nei quali esse non sono derivabili, specificando di che tipo di punto si tratta:

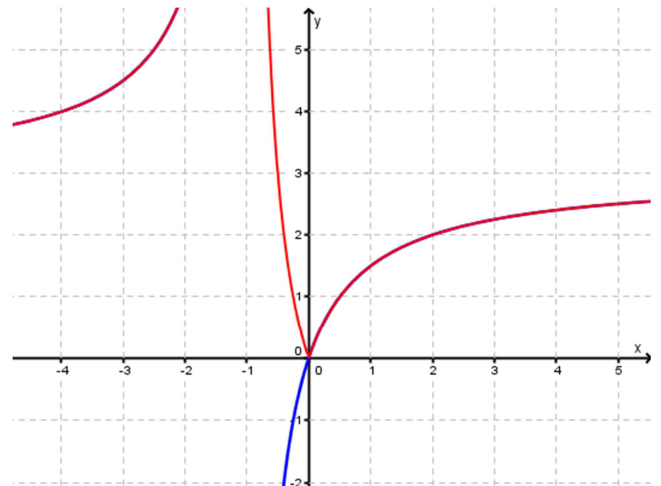
$$y = \left| \frac{3x}{x+1} \right| \quad y = \begin{cases} \sqrt{9-x^2} & -3 < x \leq 3 \\ \sqrt{x-3} & x > 3 \end{cases}$$

Si tratta di una iperbole omografica, presa in modo che i suoi punti abbiano ordinata positiva (perciò dove hanno ordinata negativa la funzione subisce una riflessione rispetto all'asse x). Pare che nel punto di ascissa 0 ci sia un punto angoloso, verificiamolo calcolando le due derivate nel punto 0:

$$f(x) = \begin{cases} \frac{3x}{x+1} & \text{se } x < -1 \vee x \geq 0 \\ \frac{-3x}{x+1} & \text{se } -1 < x < 0 \end{cases}$$

$$f'_-(0) = \frac{-3}{(0+1)^2} = -3$$

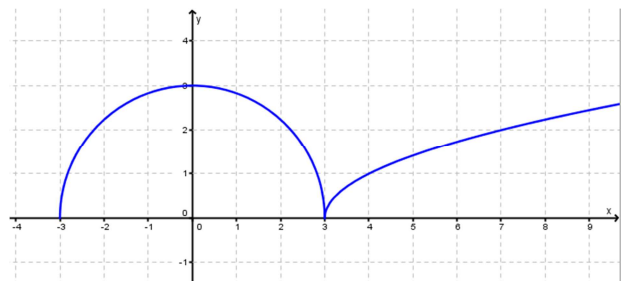
$$f'_+(0) = \frac{3}{(0+1)^2} = 3$$



$O(0;0)$ è un punto angoloso

Si tratta di una semicirconferenza e di una parabola di asse coincidente con l'asse x , di cui si prende solo la parte superiore. Pare che nel punto di ascissa 3 ci sia una cuspid, verificiamolo calcolando le due derivate nel punto 3:

$$f'(x) = \begin{cases} \frac{-x}{\sqrt{9-x^2}} & -3 < x < 3 \\ \frac{1}{2\sqrt{x-3}} & x > 3 \end{cases}$$



Calcolando il limite, otteniamo:

$$f'_-(3) = -\infty \quad f'_+(3) = +\infty$$

$P(3;0)$ è una cuspid

3. Traccia il grafico delle seguenti funzioni, verificando che sono invertibili nel loro dominio e calcola $Df^{-1}(y_0)$ nei punti indicati:

$$f(x) = x^3 + 4 \quad y_0 = 12; \quad f(x) = \frac{x-6}{x-4} \quad y_0 = -1$$

La funzione è invertibile, perché suriettiva e monotona crescente in tutto il dominio

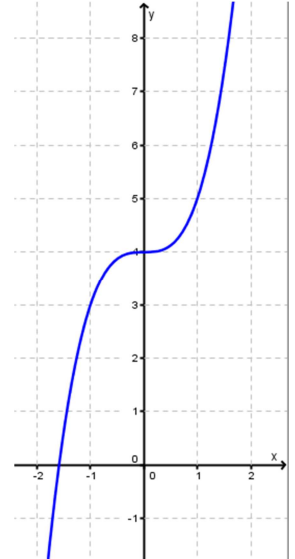
Ricaviamo la formula della funzione inversa:

$$y = x^3 + 4 \quad x^3 = y - 4$$

L'espressione della funzione inversa è:

$$f^{-1}(y) = \sqrt[3]{y-4}$$

$$Df^{-1}(y) = \frac{1}{3\sqrt[3]{(y-4)^2}} \Rightarrow Df^{-1}(12) = \frac{1}{12}$$



La funzione è invertibile, perché suriettiva e monotona decrescente in tutto il dominio.

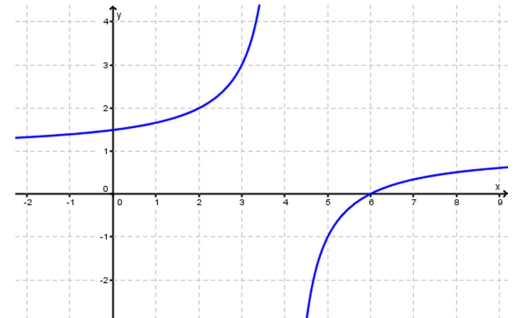
Ricaviamo la formula della funzione inversa:

$$y = \frac{x-6}{x-4} \quad xy - 4y = x - 6 \quad x(y-1) = 4y - 6$$

L'espressione della funzione inversa è:

$$f^{-1}(y) = \frac{4y-6}{y-1}$$

$$Df^{-1}(y) = \frac{4y-4-4y+6}{(y-1)^2} \Rightarrow Df^{-1}(-1) = \frac{1}{2}$$



4. Scrivi l'equazione della retta tangente al grafico della funzione $y = \ln \frac{x+3x^2}{x+4}$ nel suo punto di ascissa 2.

Calcolo innanzi tutto la derivata:

$$f'(x) = \frac{x+4}{x+3x^2} \cdot \frac{(1+6x)(x+4) - (x+3x^2)}{(x+4)^2}$$

$$f'(2) = \frac{6}{14} \cdot \frac{78-14}{6^2} = \frac{16}{21}$$

Determiniamo quindi la retta tangente:

$$y - f(2) = f'(2)(x - 2) \quad y - \ln \frac{7}{3} = \frac{16}{21}(x - 2) \quad y = \frac{16}{21}x - \frac{32}{21} + \ln \frac{7}{3}$$

5. Determina l'ascissa del punto nel quale la retta tangente al grafico della funzione $y = \ln(3x + 1) - 4x$ ha coefficiente angolare -5 .

Faccio la derivata della funzione e la pongo uguale al coefficiente angolare, in questo modo determinerò l'ascissa del punto risolvendo l'equazione ottenuta:

$$y' = \frac{3}{3x+1} - 4 = -5$$

$$\frac{3}{3x+1} = -1 \quad \frac{3+3x+1}{3x+1} = 0 \quad 3x+4 = 0 \quad x = -\frac{4}{3}$$

6. Trova l'angolo formato dalle due curve di equazioni $y = \frac{3x-1}{5-x}$ e $y = \frac{1}{8}x^2 - \frac{3}{4}x + \frac{9}{8}$.

Determino innanzi tutto l'ascissa del punto di intersezione delle due curve, ponendo a sistema le due equazioni:

$$\begin{cases} y = \frac{3x-1}{5-x} \\ y = \frac{1}{8}x^2 - \frac{3}{4}x + \frac{9}{8} \end{cases} \quad \frac{3x-1}{5-x} = \frac{1}{8}x^2 - \frac{3}{4}x + \frac{9}{8}$$

$$x^3 - 6x^2 + 9x - 5x^2 + 30x - 45 + 24x - 8 = 0 \quad x^3 - 11x^2 + 63x - 53 = 0$$

Applicando l'algoritmo della divisione di Ruffini, con $x = 1$:

$$(x-1)(x^2 - 10x + 53) = 0$$

L'unica soluzione dell'equazione è $x = 1$.

Perciò calcolo il coefficiente angolare delle tangenti alle funzioni nel punto di ascissa 1:

$$tg\alpha = f'(x) = \frac{3(5-1) + 1(3-1)}{(5-1)^2} = \frac{7}{8} \quad tg\beta = g'(x) = \frac{1}{4} - \frac{3}{4} = -\frac{1}{2}$$

L'angolo formato dalle due curve:

$$\gamma = \alpha - \beta \quad \Rightarrow \quad tg\gamma = tg(\alpha - \beta) \quad \Rightarrow \quad \gamma = \arctg \left| \frac{\frac{7}{8} + \frac{1}{2}}{1 - \frac{7}{16}} \right| = \arctg \frac{22}{9}$$

7. È data la curva di equazione $y = \frac{k+x}{x^2+1}$. Calcola il valore del parametro in modo che la tangente al suo grafico nel punto di ascissa 1 sia perpendicolare alla retta passante per i punti $A(5; 3)$ e $B(2; 1)$.

Determino il coefficiente angolare della retta passante per A e B:

$$m = \frac{y_B - y_A}{x_B - x_A} = \frac{1-3}{2-5} = \frac{2}{3}$$

Perciò il coefficiente angolare della perpendicolare sarà $-\frac{3}{2}$.

Faccio la derivata della funzione e la calcolo nel punto di ascissa 1, dopodiché la poniamo uguale al coefficiente angolare, in questo modo determineremo il parametro risolvendo l'equazione ottenuta:

$$y' = \frac{x^2 + 1 - 2x(k+x)}{(x^2+1)^2}$$

$$\frac{2-2k-2}{4} = -\frac{3}{2} \quad -2k = -6 \quad 2k = 6 \quad k = 3$$

8. Due corpi si muovono seguendo le leggi orarie $s_1 = t^2 - 6t + 4$ e $s_2 = \frac{3}{4}t^2 + 2$. Calcola in quale istante il secondo ha velocità tripla rispetto al primo.

Determiniamo le due velocità in funzione del tempo, calcolando la derivata prima della legge oraria rispetto al tempo:

$$v_1 = 2t - 6 \qquad v_2 = \frac{3}{2}t$$

Poniamo la seconda velocità uguale al triplo della prima, per ricavare l'istante di tempo:

$$\frac{3}{2}t = 3(2t - 6) \qquad \frac{1}{2}t = 2t - 6 \qquad t = 4s$$

9. Calcola le seguenti derivate:

$$D(6x\sqrt{x} + \sqrt[5]{x^3}) = D\left(6x^{\frac{3}{2}} + x^{\frac{3}{5}}\right) = 9x^{\frac{1}{2}} + \frac{3}{5}x^{-\frac{2}{5}} = 9\sqrt{x} + \frac{3}{5\sqrt[5]{x^2}}$$

$$D((3x + \ln x) \cos x) = \left(3 + \frac{1}{x}\right) \cos x - (3x + \ln x) \sin x$$

$$D(x^5(3x - 4)(x^2 + 1)) = 5x^4(3x - 4)(x^2 + 1) + 3x^5(x^2 + 1) + x^5(3x - 4)(2x) = \\ = x^4(15x^3 + 15x - 20x^2 - 20 + 3x^3 + 3x + 6x^3 - 8x^2) = 2x^4(12x^3 - 14x^2 + 9x - 10)$$

$$D\left(\frac{4x}{2x^4 - x^2 - 1}\right) = \frac{4(2x^4 - x^2 - 1) - 4x(8x^3 - 2x)}{(2x^4 - x^2 - 1)^2} = 4 \frac{-6x^4 + x^2 - 1}{(2x^4 - x^2 - 1)^2}$$

$$D\left(\frac{\sin x - \cos x}{\sin x + \cos x}\right) = \frac{(\cos x + \sin x)(\sin x + \cos x) - (\sin x - \cos x)(\cos x - \sin x)}{(\sin x + \cos x)^2} = \\ = \frac{\cos^2 x + \sin^2 x + 2\sin x \cos x + \sin^2 x + \cos^2 x - 2\sin x \cos x}{1 + 2\sin x \cos x} = \frac{2}{1 + \sin 2x}$$

$$D(\operatorname{ctg} 3x) = -\frac{3}{\sin^2 3x}$$

$$D(\ln \sin^2 x) = D(2 \ln \sin x) = \frac{2}{\sin x} (\cos x) = 2 \operatorname{ctg} x$$

$$D\left(\frac{5}{(8x - 1)^2}\right) = 5 D((8x - 1)^{-2}) = -10(8x - 1)^{-3} \cdot 8 = -\frac{80}{(8x - 1)^3}$$

$$D\left(\ln \frac{2+x}{2-x}\right) = \frac{2-x}{2+x} \cdot \frac{1(2-x) + (2+x)}{(2-x)^2} = \frac{4}{4-x^2}$$

$$D(e^{2\sqrt{x}} + \ln \sqrt[6]{x^5}) = D\left(e^{2\sqrt{x}} + \frac{5}{6} \ln x\right) = \frac{e^{2\sqrt{x}}}{\sqrt{x}} + \frac{5}{6x}$$

$$D\left(\frac{1 - \operatorname{tg}^2 x}{1 + \operatorname{tg}^2 x}\right) = D(\cos^2 x - \sin^2 x) = D(\cos 2x) = -2 \sin 2x$$

$$D\left(\ln \sqrt{\frac{1 - \cos^2 x}{1 + \cos^2 x}}\right) = \frac{1}{2} D\left(\ln \frac{1 - \cos^2 x}{1 + \cos^2 x}\right) = \\ = \frac{1}{2} \cdot \frac{1 + \cos^2 x}{1 - \cos^2 x} \cdot \frac{2 \cos x \sin x (1 + \cos^2 x) + 2 \cos x \sin x (1 - \cos^2 x)}{(1 + \cos^2 x)^2} = \frac{2 \operatorname{ctg} x}{1 + \cos^2 x}$$

$$D(3 \operatorname{arc} \operatorname{ctg} \sqrt{x}) = -\frac{3}{1+x} \cdot \frac{1}{2\sqrt{x}} = -\frac{3}{2\sqrt{x}(1+x)}$$

$$D(\operatorname{arcsen}(\sin 2x)) = D(2x) = 2$$