

Calcola il valore delle seguenti espressioni e scrivi il risultato in forma algebrica:

1.  $\frac{(1-i)^4 + (1-i)^3}{3+i}$
- $$= \frac{((1-i)^2)^2 + 1 - 3i - 3 + i}{3+i} = \frac{(1-1-2i)^2 - 2 - 2i}{3+i} = \frac{-4 - 2 - 2i}{3+i} = \frac{-2(3+i)}{3+i} = -2$$
2.  $\left[ \frac{\cos \frac{13}{5}\pi + i \sin \frac{13}{5}\pi}{(\cos \frac{\pi}{5} + i \sin \frac{\pi}{5})^2} \right]^2 : \left( \cos \frac{59}{10}\pi + i \sin \frac{59}{10}\pi \right)$
- $$= \left( \frac{\cos \frac{13}{5}\pi + i \sin \frac{13}{5}\pi}{\cos \frac{2}{5}\pi + i \sin \frac{2}{5}\pi} \right)^2 : \left( \cos \frac{59}{10}\pi + i \sin \frac{59}{10}\pi \right) = \left( \cos \frac{11}{5}\pi + i \sin \frac{11}{5}\pi \right)^2 : \left( \cos \frac{59}{10}\pi + i \sin \frac{59}{10}\pi \right) =$$
- $$= \left( \cos \frac{22}{5}\pi + i \sin \frac{22}{5}\pi \right) : \left( \cos \frac{59}{10}\pi + i \sin \frac{59}{10}\pi \right) = \cos \left( -\frac{15}{10}\pi \right) + i \sin \left( -\frac{15}{10}\pi \right) = \cos \left( -\frac{3}{2}\pi \right) + i \sin \left( -\frac{3}{2}\pi \right) = i$$

Risolvi in  $\mathbb{C}$  le seguenti equazioni:

3.  $x^6 + 2x^3 + 1 = 0$

$$(x^3 + 1)^2 = 0 \quad x^3 + 1 = 0$$

$$x^2 = -1 \quad x = \sqrt[3]{\cos \pi + i \sin \pi} = \cos \left( \frac{\pi}{3} + \frac{2}{3}k\pi \right) + i \sin \left( \frac{\pi}{3} + \frac{2}{3}k\pi \right)$$

$$x_1 = \frac{1}{2} + i \frac{\sqrt{3}}{2}$$

$$x_2 = -1$$

$$x_3 = \frac{1}{2} - i \frac{\sqrt{3}}{2}$$

Le soluzioni hanno tutte molteplicità 2.

4.  $x^2 + x + 1 = 0$

$$x_{1,2} = \frac{-1 \pm \sqrt{1-4}}{2} = -\frac{1}{2} \pm \frac{\sqrt{3}}{2}i$$

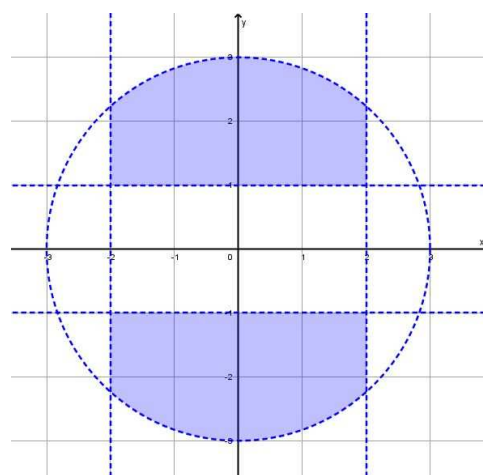
5. Rappresenta nel piano di Gauss i punti corrispondenti ai numeri complessi che verificano il seguente sistema:

$$\begin{cases} |z| < 3 \\ |Re(z)| < 2 \\ |Im(z)| > 1 \end{cases}$$

Dato il numero complesso  $z = x + iy$ , il sistema può diventare:

$$\begin{cases} \sqrt{x^2 + y^2} < 3 \\ |x| < 2 \\ |y| > 1 \end{cases} \quad \begin{cases} x^2 + y^2 < 9 \\ -2 < x < 2 \\ y < -1 \vee y > 1 \end{cases}$$

La rappresentazione del sistema è quella a lato.



6. Determina il valore di  $k$  per il quale i due numeri complessi  $3 + 2^{k-1}i$  e  $3 - 4^{2k-1}i$  sono coniugati.

I coefficienti dell'unità immaginaria devono essere opposti:

$$2^{k-1} = 4^{2k-1}$$

$$2^{k-1} = 2^{4k-2}$$

$$k - 1 = 4k - 2$$

$$k = \frac{1}{3}$$

7. **Svolgi uno dei seguenti problemi a tua scelta:**

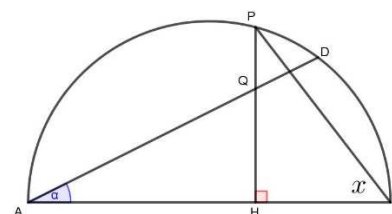
Data la semicirconferenza di diametro  $\overline{AB} = 2r$ , sia  $AD$  una corda che forma con  $AB$  un angolo  $\alpha$  tale che  $\tan \alpha = \frac{1}{2}$ . Detto  $P$  un punto dell'arco  $AD$ , condurre per esso la perpendicolare al diametro che incontri in  $Q$  la corda  $AD$  e in  $H$  il diametro  $AB$  in modo che risulti:  $\overline{QH} + \overline{PH} = kr$  ( $k \in \mathbb{R}^+$ ).

Rappresento la semicirconferenza:

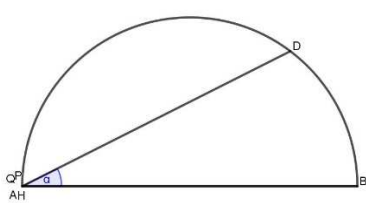
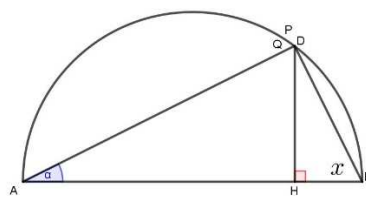
$$\overline{AB} = 2r \quad \widehat{BAD} = \alpha = \arctan \frac{1}{2}$$

Prima di procedere, determino le altre funzioni goniometriche dell'angolo  $\alpha$ :

$$\sin \alpha = \frac{\tan \alpha}{\sqrt{1 + \tan^2 \alpha}} = \frac{\sqrt{5}}{5} \quad \cos \alpha = \sqrt{1 - \sin^2 \alpha} = \frac{2\sqrt{5}}{5}$$



Pongo:  $\widehat{HBP} = x$  e valuto i casi limite:

<p><math>x = 0</math></p> <p><math>\overline{QH} = \overline{PH} = 0</math></p> <p><math>k = 0</math></p> 	<p><math>x = \frac{\pi}{2} - \alpha</math></p> <p><math>\overline{QH} = \overline{PH} = \overline{AD} \sin \alpha =</math></p> <p><math>= 2r \cos \alpha \sin \alpha = \frac{8}{5}r</math></p> <p><math>k = \frac{8}{5}</math></p> 
--	---

Perciò:  $0 \leq x \leq \frac{\pi}{2} - \alpha$

Determino l'equazione generica. Per determinare  $\overline{PH}$ , applico il primo teorema dei triangoli rettangoli, ma per determinare  $\overline{PB}$ , che è l'ipotenusa, devo applicare il teorema della corda, sapendo che l'angolo sotteso è il complementare di  $x$ :

$$\overline{PH} = \overline{PB} \sin x = 2r \cos x \sin x$$

Per determinare  $\overline{QH}$ , devo determinare innanzi tutto il cateto  $\overline{HB}$ , per differenza determino  $\overline{AH}$  e considero il triangolo rettangolo AHQ; ora posso determinare il cateto  $\overline{QH}$ , applicando il secondo teorema dei triangoli rettangoli:

$$\overline{HB} = \overline{PB} \cos x = 2r \cos^2 x \quad \overline{AH} = \overline{AB} - \overline{HB} = 2r - 2r \cos^2 x = 2r (1 - \cos^2 x) = 2r \sin^2 x$$

$$\overline{QH} = \overline{AH} \tan \alpha = \frac{1}{2} \overline{AH} = \frac{1}{2} 2r \sin^2 x = r \sin^2 x$$

A questo punto abbiamo tutti gli elementi per costruire il sistema parametrico, a partire dalla sua equazione:

$$r \sin^2 x + 2r \cos x \sin x = kr \quad \sin^2 x + 2 \cos x \sin x = k \quad \frac{1 - \cos 2x}{2} + \sin 2x = k \quad 2 \sin 2x - \cos 2x = 2k - 1$$

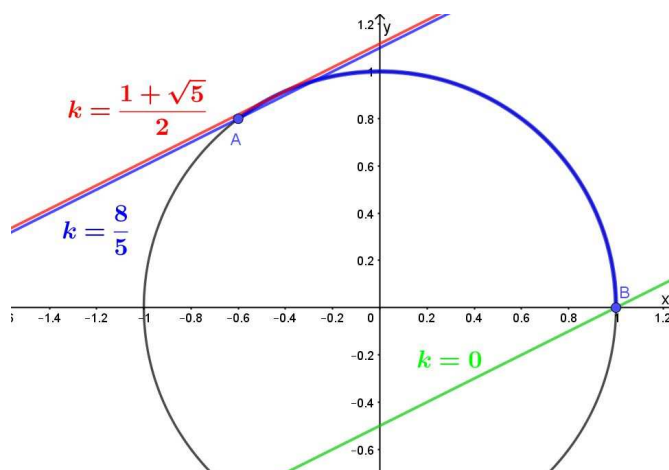
Perciò il sistema è:

$$\begin{cases} 2 \sin 2x - \cos 2x = 2k - 1 \\ 0 \leq 2x \leq 2 \left( \frac{\pi}{2} - \alpha \right) \end{cases}$$

Ovvero:

$$\begin{cases} 2Y - X = 2k - 1 \\ X^2 + Y^2 = 1 \\ -\frac{3}{5} \leq X \leq 1; 0 \leq Y \leq 1 \end{cases}$$

Il fascio è improprio.



Impongo il passaggio del fascio per i due punti limite A e B:

$$A(\cos(\pi - 2\alpha); \sin(\pi - 2\alpha)) = \left(-\frac{3}{5}; \frac{4}{5}\right): \frac{8}{5} + \frac{3}{5} = 2k - 1 \Rightarrow k = \frac{8}{5} \quad \text{due soluzioni}$$

$$B(1; 0): -1 = 2k - 1 \Rightarrow k = 0 \quad \text{una soluzione}$$

$$\text{Tangente: } \frac{|2k-1|}{\sqrt{1+4}} = 1 \quad k = \frac{1+\sqrt{5}}{2} \text{ e prendo il valore positivo}$$

Concludendo quindi:

$$\text{una soluzione per } 0 \leq k < \frac{8}{5} \quad \text{due soluzioni per } \frac{8}{5} \leq k \leq \frac{1+\sqrt{5}}{2}$$

È dato il triangolo ABC la cui base AB misura  $2a$  e i cui angoli alla base  $B\hat{A}C$  e  $A\hat{B}C$  hanno tangenti uguali rispettivamente a  $2$  e a  $\frac{1}{2}$ .

- Posti  $B\hat{A}C = \alpha$  e  $A\hat{B}C = \beta$ , calcolare le funzioni goniometriche di  $\alpha$  e  $\beta$  e verificare che il triangolo ABC è rettangolo in C.
- Circoscritto al triangolo il semicerchio di diametro AB, determinare sull'arco BC un punto P in modo che risulti:

$$\overline{PM} + \overline{PN} = k \overline{BC} \quad (k \in \mathbb{R}^+)$$

essendo M ed N le proiezioni di P rispettivamente sulla corda BC e sul prolungamento della corda AC.

Siccome le due tangenti sono una la reciproca dell'altra, i due angoli  $\alpha$  e  $\beta$  sono complementari, perciò il triangolo è rettangolo in C. Determino le funzioni goniometriche dei due angoli:

$$\sin \alpha = \frac{\tan \alpha}{\sqrt{1 + \tan^2 \alpha}} = \frac{2}{\sqrt{1 + 4}} = \frac{2\sqrt{5}}{5} \quad \cos \alpha = \sqrt{1 - \sin^2 \alpha} = \frac{\sqrt{5}}{5}$$

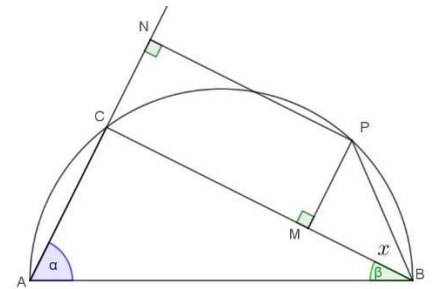
E visto che l'angolo  $\beta$  è complementare di  $\alpha$ :

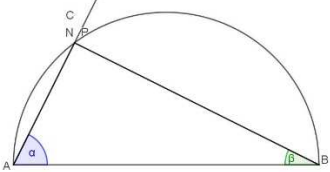
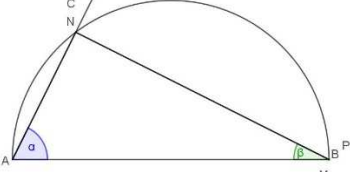
$$\sin \beta = \cos \alpha = \frac{\sqrt{5}}{5} \quad \cos \beta = \sin \alpha = \frac{2\sqrt{5}}{5}$$

Rappresento la semicirconferenza che, trattandosi di un triangolo rettangolo, ha il diametro coincidente con l'ipotenusa del triangolo ed è circoscritta allo stesso.

$$\overline{AB} = 2a$$

Pongo:  $M\hat{B}P = x$  e valuto i casi limite:



$x = 0$ $0 + 0 = k \overline{BC}$ $k = 0$ 	$x = \frac{\pi}{2} - \beta$ $0 + \overline{BC} = k \overline{BC}$ $k = 1$ 
---	---

$$\text{Perciò: } 0 \leq x \leq \frac{\pi}{2} - \beta$$

Determiniamo l'equazione generica, applicando il primo teorema dei triangoli rettangoli per determinare  $\overline{PM}$ , cateto del triangolo rettangolo PMB e il teorema della corda per determinare  $\overline{PB}$ , corda che sottende un angolo  $\alpha - x$ , visto che l'arco PC sottende l'angolo  $x$  e quindi l'arco PB sottende l'angolo  $\alpha - x$ :

$$\overline{PM} = \overline{PB} \sin x = 2a \sin x \sin(\alpha - x) = 2a \sin x (\sin \alpha \cos x - \cos \alpha \sin x) = 2a \frac{\sqrt{5}}{5} (2 \cos x \sin x - \sin^2 x)$$

$\overline{PN} = \overline{CM}$  dato che CMPN è un rettangolo. Possiamo quindi determinare  $\overline{PN}$  per differenza:

$$\overline{PN} = \overline{CM} = \overline{CB} - \overline{MB} = 2a \sin \alpha - \overline{PB} \cos x = 4a \frac{\sqrt{5}}{5} - 2a \frac{\sqrt{5}}{5} (2 \cos^2 x - \sin x \cos x) = 2a \frac{\sqrt{5}}{5} (2 \sin^2 x + \sin x \cos x)$$

A questo punto abbiamo tutti gli elementi per costruire il sistema parametrico, a partire dalla sua equazione:

$$2a \frac{\sqrt{5}}{5} (2 \cos x \sin x - \sin^2 x) + 2a \frac{\sqrt{5}}{5} (2 \sin^2 x + \sin x \cos x) = k 2a \frac{2\sqrt{5}}{5}$$

$$3 \cos x \sin x + \sin^2 x = 2k \quad \frac{3}{2} \sin 2x + \frac{1 - \cos 2x}{2} = 2k \quad 3 \sin 2x - \cos 2x = 4k - 1$$

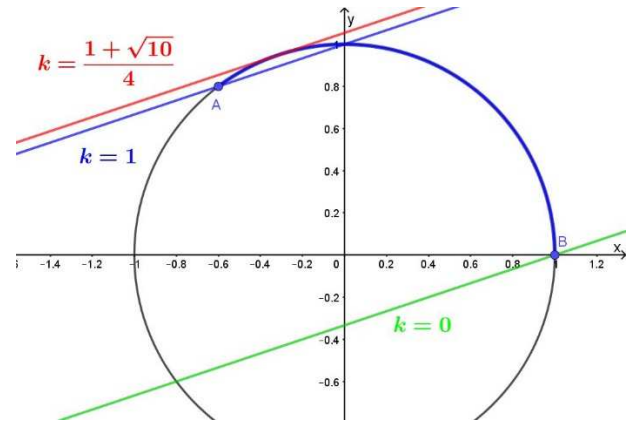
Perciò il sistema è:

$$\begin{cases} 3 \sin 2x - \cos 2x = 4k - 1 \\ 0 \leq 2x \leq 2 \left( \frac{\pi}{2} - \beta \right) \end{cases}$$

Ovvero:

$$\begin{cases} 3Y - X = 4k - 1 \\ X^2 + Y^2 = 1 \\ -\frac{3}{5} \leq X \leq 1; 0 \leq Y \leq 1 \end{cases}$$

Il fascio è improprio.



Impongo il passaggio del fascio per i due punti limite A e B:

$$A(\cos(\pi - 2\beta); \sin(\pi - 2\beta)) = \left(-\frac{3}{5}; \frac{4}{5}\right): \frac{12}{5} + \frac{3}{5} = 4k - 1 \Rightarrow k = 1 \quad \text{due soluzioni}$$

$$B(1; 0): -1 = 4k - 1 \Rightarrow k = 0 \quad \text{una soluzione}$$

$$\text{Tangente: } \frac{|4k-1|}{\sqrt{1+9}} = 1 \quad k = \frac{1+\sqrt{10}}{4} \text{ e prendo il valore positivo}$$

Concludendo quindi:

$$\text{una soluzione per } 0 \leq k < 1 \quad \text{due soluzioni per } 1 \leq k \leq \frac{1 + \sqrt{10}}{4}$$