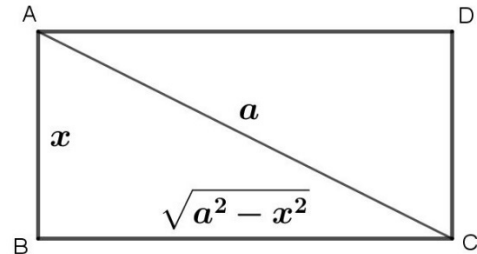


1. Fra tutti i rettangoli di data diagonale a , determina il perimetro di quello che genera, in una rotazione completa intorno a un suo lato, il cilindro di volume massimo.

Indico uno dei lati del rettangolo con x e l'altro lato, applicando il teorema di Pitagora e conoscendo la diagonale del rettangolo, è $\sqrt{a^2 - x^2}$. Considero la rotazione completa del rettangolo attorno al lato AB e si genera un cilindro di altezza x e raggio di base $\sqrt{a^2 - x^2}$ il cui volume è dato da:

$$f(x) = \pi x (a^2 - x^2)$$

e il cui dominio (che possiamo determinare sia algebricamente che geometricamente) è: $0 < x \leq a$.



Calcoliamo la derivata della funzione e procediamo con lo studio del suo segno:

$$f'(x) = \pi(a^2 - 3x^2) = 0 \quad x = \pm \frac{a\sqrt{3}}{3}$$

Le soluzioni dell'equazione sono punti stazionari della funzione: $a^2 - 3x^2 > 0 \Rightarrow -\frac{a\sqrt{3}}{3} < x < \frac{a\sqrt{3}}{3}$

$x = \frac{a\sqrt{3}}{3}$ è un punto di massimo per la funzione. Quindi i due lati del rettangolo hanno dimensioni $\frac{a\sqrt{3}}{3}$ e $\frac{a\sqrt{6}}{3}$, e il perimetro del rettangolo è:

$$2p = 2 \frac{a\sqrt{3}}{3} + 2 \frac{a\sqrt{6}}{3} = 2 \frac{a\sqrt{3}}{3} (1 + \sqrt{2})$$

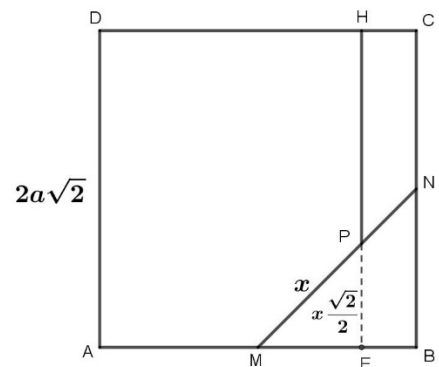
2. Sia ABCD un quadrato di lato $2a\sqrt{2}$ e siano M e N i punti medi di due lati consecutivi. Sul segmento MN, determina un punto P tale che sia minima la somma $\overline{PH}^2 + \overline{PM}^2$, dove H è la proiezione di P sul lato opposto a quello contenente M.

Traccio il segmento MN, di lunghezza $2a$. Su di esso individuo il punto P, posto a distanza x da M. Per determinare la lunghezza del segmento PH, considero il triangolo PME, rettangolo e isoscele, tale che i suoi cateti abbiano lunghezza (data l'ipotenusa x) $\frac{x\sqrt{2}}{2}$.

Siccome $\overline{PH} = \overline{HE} - \overline{PE} = \overline{AD} - \overline{PE} = 2a\sqrt{2} - \frac{x\sqrt{2}}{2} = \frac{\sqrt{2}}{2} (4a - x)$. Possiamo quindi determinare la funzione richiesta:

$$f(x) = x^2 + \frac{1}{2} (4a - x)^2$$

e il cui dominio (che possiamo determinare sia algebricamente che geometricamente) è: $0 < x \leq 2a$.



Calcoliamo la derivata della funzione e procediamo con lo studio del suo segno:

$$f'(x) = 2x - (4a - x) = 3x - 4a = 0 \quad x = \frac{4}{3}a$$

La soluzione dell'equazione è un punto stazionario della funzione: $3x - 4a > 0 \Rightarrow x > \frac{4}{3}a$

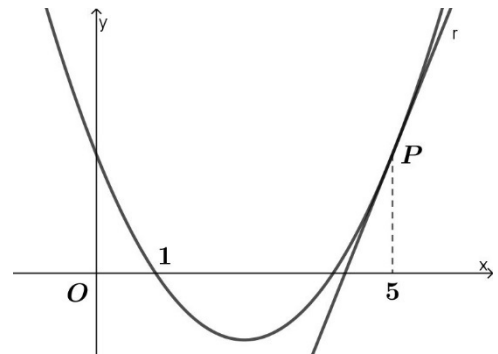
$x = \frac{4}{3}a$ è un punto di minimo per la funzione.

3. Scrivi l'equazione della parabola in figura, tangente in P alla retta r di equazione $5x - 2y = 21$.

Considera poi il punto Q di ordinata $\frac{3}{8}$ appartenente all'asse della parabola e determina le coordinate dei punti P_1 e P_2 sulla parabola che hanno distanza minima da Q .

La parabola data ha generica equazione $y = ax^2 + bx + c$. Le condizioni necessarie per determinarla sono:

- il passaggio per il punto $(1; 0)$, ovvero sostituisco le coordinate del punto nell'equazione della parabola;
- il passaggio per il punto P che ha ascissa 5 e appartiene alla retta r , perciò ha ordinata $25 - 2y = 21 \Rightarrow y = 2$;
- il coefficiente angolare della retta tangente alla parabola nel punto di ascissa 5, ovvero il coefficiente angolare della retta r , che si ottiene determinando la derivata della funzione e calcolandone il valore in P : $y' = 2ax + b$.



$$\begin{array}{l} (1; 0) \\ (5; 2) \\ y'(5) = \frac{5}{2} \end{array} \quad \left\{ \begin{array}{l} a + b + c = 0 \\ 25a + 5b + c = 2 \\ 10a + b = \frac{5}{2} \end{array} \right. \quad \left\{ \begin{array}{l} a + b + c = 0 \\ 12a + 2b = 1 \\ 20a + 2b = 5 \end{array} \right. \quad \left\{ \begin{array}{l} a = \frac{1}{2} \\ b = -\frac{5}{2} \\ c = 2 \end{array} \right.$$

L'equazione della parabola è: $y = \frac{1}{2}x^2 - \frac{5}{2}x + 2$.

Il punto Q appartiene all'asse di simmetria, perciò ha coordinate: $Q \left(\frac{5}{2}; \frac{3}{8} \right)$.

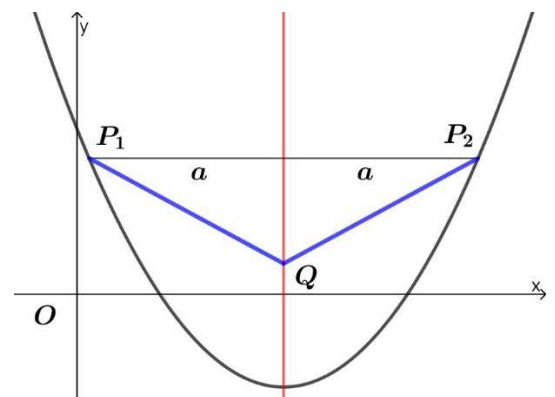
Si può facilmente intuire che i punti P_1 e P_2 sono simmetrici rispetto all'asse di simmetria, quindi hanno la stessa ordinata. Considero $a \geq 0$ la loro distanza dall'asse di simmetria e ne determino quindi le coordinate:

$$P_1 \left(\frac{5}{2} - a; \frac{1}{2} \left(\frac{5}{2} - a \right)^2 - \frac{5}{2} \left(\frac{5}{2} - a \right) + 2 \right) = \left(\frac{5}{2} - a; \frac{1}{2} a^2 - \frac{9}{8} \right)$$

$$P_2 \left(\frac{5}{2} + a; \frac{1}{2} \left(\frac{5}{2} + a \right)^2 - \frac{5}{2} \left(\frac{5}{2} + a \right) + 2 \right) = \left(\frac{5}{2} + a; \frac{1}{2} a^2 - \frac{9}{8} \right)$$

La funzione da determinare è: $f(a) = \overline{QP_1}$, visto che, per simmetria, le due distanze sono uguali:

$$f(a) = \sqrt{\left(\frac{5}{2} + a - \frac{5}{2} \right)^2 + \left(\frac{1}{2} a^2 - \frac{9}{8} - \frac{3}{8} \right)^2} = \sqrt{a^2 + \left(\frac{1}{2} a^2 - \frac{3}{2} \right)^2}$$



Calcoliamo la derivata della funzione e procediamo con lo studio del suo segno:

$$f'(a) = \frac{2a + 2 \cdot \frac{1}{2} \cdot 2a \left(\frac{1}{2} a^2 - \frac{3}{2} \right)}{2 \sqrt{a^2 + \left(\frac{1}{2} a^2 - \frac{3}{2} \right)^2}} = \frac{1}{2} a \frac{a^2 - 1}{\sqrt{a^2 + \left(\frac{1}{2} a^2 - \frac{3}{2} \right)^2}} = 0 \quad a = \pm 1 \vee a = 0$$

Le soluzioni dell'equazione sono punti stazionari della funzione: $a(a^2 - 1) > 0 \Rightarrow -1 < a < 0 \vee a > 1$

$a = 1$ è un punto di minimo per la funzione e i due punti richiesti hanno coordinate: $P_1 \left(\frac{3}{2}; -\frac{5}{8} \right)$ e $P_2 \left(\frac{7}{2}; -\frac{5}{8} \right)$.