

1. Determina l'equazione della funzione omografica passante per i punti  $A(-3; 11)$  e  $B(-2; 4)$  e con asintoto verticale  $x = -4$ .

Considerata la funzione omografica:  $y = \frac{ax+b}{cx+d}$ , con asintoto verticale  $x = -\frac{d}{c}$ , procedo raccogliendo  $c$  sia a numeratore che a denominatore:

$$y = \frac{\frac{a}{c}x + \frac{b}{c}}{x + \frac{d}{c}} \quad \text{sostituendo } -\frac{d}{c} = -4 \quad y = \frac{\frac{a}{c}x + \frac{b}{c}}{x + 4}$$

Per determinare gli ultimi parametri, impongo il passaggio dell'iperbole per i punti A e B, sostituendo le loro coordinate nell'espressione della funzione e risolvendo poi il sistema:

$$\begin{cases} 11 = \frac{-3\frac{a}{c} + \frac{b}{c}}{-3 + 4} \\ 4 = \frac{-2\frac{a}{c} + \frac{b}{c}}{-2 + 4} \end{cases} \quad \begin{cases} -3\frac{a}{c} + \frac{b}{c} = 11 \\ -2\frac{a}{c} + \frac{b}{c} = 8 \\ \frac{a}{c} = -3 \end{cases} \quad \begin{cases} \frac{a}{c} = -3 \\ \frac{b}{c} = 2 \end{cases}$$

Perciò l'equazione dell'iperbole è:

$$y = \frac{-3x + 2}{x + 4}$$

2. Trova l'equazione dell'ellisse che ha un vertice di coordinate  $(-4; 0)$  e il fuoco sull'asse  $x$  di ascissa positiva distante  $\sqrt{13}$  dalla retta di equazione  $3x - 2y + 4 = 0$ .

Il fuoco dell'ellisse ha coordinate:  $F(c; 0)$ . Pongo la sua distanza dalla retta data uguale a  $\sqrt{13}$ :

$$\frac{|3c + 4|}{\sqrt{9 + 4}} = \sqrt{13} \quad |3c + 4| = 13$$

Da cui ricaviamo due equazioni:

$$\begin{aligned} 3c + 4 &= 13 & c &= 3 \\ 3c + 4 &= -13 & c &= -\frac{17}{3} \quad \text{non accettabile} \end{aligned}$$

Perciò dell'ellisse conosco:

$$a = 4 \quad c = 3 \quad a^2 - b^2 = c^2 \Rightarrow b^2 = a^2 - c^2 = 7$$

L'equazione dell'ellisse è:

$$\frac{x^2}{16} + \frac{y^2}{7} = 1$$

3. Determina e rappresenta il luogo geometrico dei punti del piano per i quali la differenza delle distanze dai punti  $F_1(1; 2)$ ,  $F_2(7; 2)$  è uguale a 4.

Il luogo geometrico richiesto è un'iperbole con centro di simmetria dato dal punto medio del segmento  $F_1F_2$ . Determino perciò l'iperbole di centro  $O$ , di cui conosco la distanza focale e l'asse trasverso, con i fuochi sull'asse  $x$ :

$$2c = F_1F_2 = 6 \quad 2a = 4 \quad a^2 + b^2 = c^2 \Rightarrow b^2 = c^2 - a^2 = 5$$

L'iperbole di centro  $O$  ha equazione:

$$\frac{x^2}{4} - \frac{y^2}{5} = 1$$

A questo punto, conoscendo il centro di simmetria del luogo richiesto  $O'(4; 2)$ , traslo l'iperbole in modo che abbia centro coincidente con quello dato:

$$\frac{(x-4)^2}{4} - \frac{(y-2)^2}{5} = 1 \quad \mathbf{5x^2 - 4y^2 - 40x + 16y + 44 = 0}$$

In alternativa, posso determinare l'equazione richiesta applicando la definizione di luogo geometrico, ovvero:

$$PF_1 - PF_2 = 4$$

$$\sqrt{(x-1)^2 + (y-2)^2} - \sqrt{(x-7)^2 + (y-2)^2} = 4$$

$$\left(\sqrt{(x-1)^2 + (y-2)^2}\right)^2 = \left(\sqrt{(x-7)^2 + (y-2)^2} + 4\right)^2$$

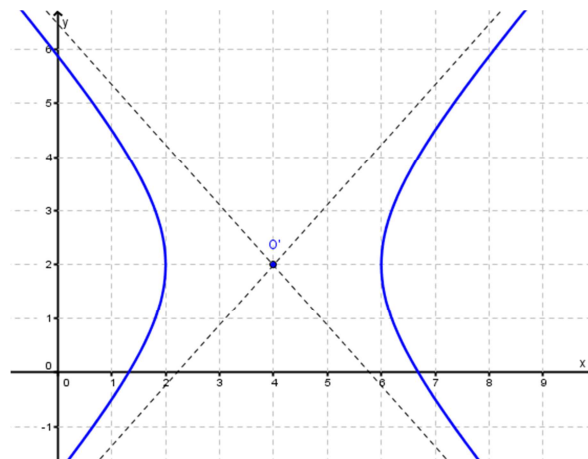
$$x^2 - 2x + 1 + y^2 - 4y + 4 = x^2 - 14x + 49 + y^2 - 4y + 4 + 16 + 8\sqrt{(x-7)^2 + (y-2)^2}$$

$$12x - 64 = 8\sqrt{(x-7)^2 + (y-2)^2}$$

$$(3x - 16)^2 = \left(2\sqrt{(x-7)^2 + (y-2)^2}\right)^2$$

$$9x^2 + 256 - 96x = 4x^2 - 56x + 196 + 4y^2 - 16y + 16$$

$$\mathbf{5x^2 - 4y^2 - 40x + 16y + 44 = 0}$$



4. Determina l'equazione dell'iperbole di fuoco  $(0; \frac{\sqrt{5}}{2})$  e tangente alla retta  $2x - 6y + 5 = 0$ .

Conoscendo il fuoco dell'iperbole, so che:  $a^2 + b^2 = \frac{5}{4}$ . Impongo la condizione di tangenza, data l'iperbole generica, ponendo  $\Delta=0$  nella risolvente del seguente sistema:

$$\begin{cases} \frac{x^2}{a^2} - \frac{y^2}{b^2} = -1 \\ 2x - 6y + 5 = 0 \end{cases} \quad \begin{cases} \frac{x^2}{\frac{5}{4} - b^2} - \frac{y^2}{b^2} = -1 \\ x = 3y - \frac{5}{2} \end{cases}$$

$$\frac{9y^2 - 15y + \frac{25}{4}}{\frac{5}{4} - b^2} - \frac{y^2}{b^2} = -1 \qquad \frac{36y^2 - 60y + 25}{5 - 4b^2} - \frac{y^2}{b^2} = -1$$

$$36b^2y^2 - 60b^2y + 25b^2 - 5y^2 + 4b^2y^2 + 5b^2 - 4b^4 = 0$$

$$y^2(40b^2 - 5) - 60b^2y - 4b^4 + 30b^2 = 0$$

$$\frac{\Delta}{4} = 30^2b^4 + (40b^2 - 5)(4b^4 - 30b^2) = 0$$

$$30^2b^4 + 10b^2(8b^2 - 1)(2b^2 - 15) = 0$$

$$90b^2 + 16b^4 - 120b^2 - 2b^2 + 15 = 0$$

$$16b^4 - 32b^2 + 15 = 0$$

$$b^2 = \frac{16 \pm \sqrt{16^2 - 16 \cdot 15}}{16} = \frac{4 \pm 1}{4} = \begin{cases} \frac{5}{4} \\ \frac{3}{4} \end{cases}$$

$$\begin{cases} b^2 = \frac{5}{4} \\ a^2 = \frac{5}{4} - b^2 = 0 \end{cases} \quad \text{non accettabile}$$

$$\begin{cases} b^2 = \frac{3}{4} \\ a^2 = \frac{5}{4} - b^2 = \frac{1}{2} \end{cases} \quad \begin{cases} \frac{x^2}{\frac{1}{2}} - \frac{y^2}{\frac{3}{4}} = -1 \\ 2x^2 - \frac{4}{3}y^2 = -1 \end{cases} \quad \mathbf{4y^2 - 6x^2 = 3}$$

5. Nell'ellisse di equazione  $\frac{x^2}{9} + \frac{y^2}{25} = 1$ , siano AB l'asse maggiore, O il suo centro e F il fuoco di ordinata positiva. Sia P il punto dell'ellisse di ordinata 3 del primo quadrante e sia CD una corda passante per O parallela alla tangente all'ellisse in P. La retta PF e la retta CD si incontrano in Q. Determina il rapporto fra le lunghezze di PQ e OA.

Dall'equazione dell'ellisse ricavo:

$$A(0, -5) \quad B(0, 5) \quad F(0, 4)$$

Ricavo le coordinate di P, sostituendo l'ordinata 3 nell'equazione dell'ellisse:

$$\frac{x^2}{9} + \frac{9}{25} = 1 \quad \frac{x^2}{9} = \frac{16}{25} \quad x = \pm \frac{12}{5}$$

Il punto P ha coordinate  $P\left(\frac{12}{5}, 3\right)$ .

Determino la tangente in P con la formula dello sdoppiamento:

$$\frac{12}{5} \cdot \frac{1}{9}x + \frac{3}{25}y = 1 \quad 20x + 9y = 75$$

Perciò la retta passante per O e parallela alla tangente all'ellisse in P ha equazione:  $y = -\frac{20}{9}x$ .

Determino l'equazione della retta PF:

$$\frac{x-0}{\frac{12}{5}-0} = \frac{y-4}{3-4} \quad \frac{5}{12}x = -y+4 \quad y = -\frac{5}{12}x+4$$

Determino l'intersezione tra la retta CD e la retta PF

$$\begin{cases} y = -\frac{5}{12}x + 4 \\ y = -\frac{20}{9}x \end{cases} \quad \frac{20}{9}x - \frac{5}{12}x = -4 \quad 80x - 15x = -144 \quad x = -\frac{144}{65}$$

Perciò il punto Q ha coordinate:

$$Q\left(-\frac{144}{65}, \frac{64}{13}\right)$$

Posso calcolare il rapporto richiesto:

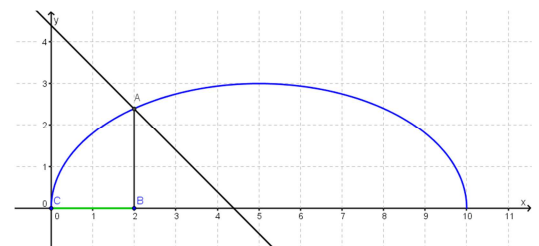
$$\frac{PQ}{OA} = \frac{\sqrt{\left(\frac{12}{5} + \frac{144}{65}\right)^2 + \left(3 - \frac{64}{13}\right)^2}}{5} = \frac{\sqrt{\left(\frac{300}{65}\right)^2 + \left(\frac{25}{13}\right)^2}}{5} = \frac{\frac{5}{13}\sqrt{12^2 + 5^2}}{5} = \frac{\frac{5}{13} \cdot 13}{5} = 1$$

6. Risolvi graficamente la seguente disequazione irrazionale:  $3\sqrt{1 - \frac{(x-5)^2}{25}} < \frac{22}{5} - x$ .

Considero l'arco di ellisse traslata e la retta di equazione, rispettivamente:

$$y = 3\sqrt{1 - \frac{(x-5)^2}{25}} \quad y = \frac{22}{5} - x$$

L'arco di ellisse è dato dalla ellisse di centro (5, 0) e assi di lunghezza 10 e 6, ma ne considero solo la parte superiore. Dopo aver rappresentato anche la retta, determino il punto di intersezione A di ascissa 2. La soluzione è indicata in verde nel disegno:



$$0 \leq x < 2$$

7. Trova l'equazione del grafico seguente, utilizzando i dati della figura:

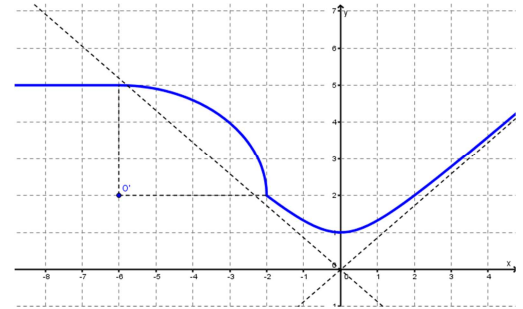
La prima è una retta parallela all'asse x di equazione:  $y = 5$ .

La seconda è un arco di ellisse di centro  $O'(-6; 2)$ , semiasse maggiore 4 e semiasse minore 3:

$$\frac{(x+6)^2}{16} + \frac{(y-2)^2}{9} = 1$$

$$(y-2)^2 = 9 \left( 1 - \frac{(x+6)^2}{16} \right)$$

$$y = 2 + \frac{3}{4} \sqrt{-20 - x^2 - 12x}$$



La terza è un arco di iperbole di vertice reale  $(0; 1)$  e passante per il punto  $(-2; 2)$ , perciò dall'equazione generica:

$$\frac{x^2}{a^2} - y^2 = -1$$

sostituisco le coordinate del punto per determinare l'equazione:

$$\frac{4}{a^2} - 4 = -1 \quad \frac{4}{a^2} = 3 \quad a^2 = \frac{4}{3}$$

$$\frac{3x^2}{4} - y^2 = -1 \quad y^2 = \frac{3}{4}x^2 + 1 \quad y = \sqrt{\frac{3}{4}x^2 + 1}$$

Riassumendo:

$$y = \begin{cases} 5 & x \leq -6 \\ 2 + \frac{3}{4} \sqrt{-20 - x^2 - 12x} & -6 < x \leq -2 \\ \sqrt{\frac{3}{4}x^2 + 1} & x > -2 \end{cases}$$