

1. Determina l'equazione dell'ellisse:

- con fuoco in  $(0; \sqrt{3})$  e con asse minore pari a 2;
- con i fuochi sull'asse x, di vertice  $(0; 5)$  e eccentricità  $\frac{\sqrt{11}}{6}$ ;
- passante per i punti  $(-\frac{12}{5}; -3)$  e  $(\frac{9}{5}; -4)$ .

A. Dalle informazioni date e notando che il fuoco è sull'asse y, ricavo il sistema:

$$\begin{cases} c = \sqrt{3} \\ a = 1 \end{cases} \quad \begin{cases} c^2 = 3 \\ a = 1 \end{cases} \quad \begin{cases} b^2 - a^2 = 3 \\ a = 1 \end{cases} \quad \begin{cases} b^2 = 4 \\ a = 1 \end{cases} \quad x^2 + \frac{y^2}{4} = 1$$

B. Dalle informazioni date, ricavo il sistema, ricordando però che, avendo i fuochi sull'asse x, l'eccentricità è data da  $\frac{c}{a}$ :

$$\begin{cases} \frac{c}{a} = \frac{\sqrt{11}}{6} \\ b = 5 \end{cases} \quad \begin{cases} \frac{c^2}{a^2} = \frac{11}{36} \\ b = 5 \end{cases} \quad \begin{cases} 36(a^2 - b^2) = 11a^2 \\ b = 5 \end{cases} \quad \begin{cases} 25a^2 = 36 \cdot 25 \\ b = 5 \end{cases} \quad \frac{x^2}{36} + \frac{y^2}{25} = 1$$

C. Impongo il passaggio dell'ellisse per i punti dati, sostituendo le coordinate dei punti nell'equazione canonica dell'ellisse:

$$\begin{cases} \frac{144}{25a^2} + \frac{9}{b^2} = 1 \\ \frac{81}{25a^2} + \frac{16}{b^2} = 1 \end{cases} \quad \text{ma per procedere più speditamente, uso delle incognite ausiliarie: } A = \frac{9}{25a^2}, B = \frac{1}{b^2} \text{ e il sistema diventa:}$$

$$\begin{cases} 16A + 9B = 1 \\ 9A + 16B = 1 \end{cases} \quad \begin{cases} 16A + 9B = 9A + 16B \\ 9A + 16B = 1 \end{cases} \quad \begin{cases} A = B \\ 25A = 1 \end{cases} \quad \begin{cases} A = \frac{1}{25} \\ B = \frac{1}{25} \end{cases} \quad \frac{x^2}{9} + \frac{y^2}{25} = 1$$

2. Determina l'equazione dell'iperbole:

- con i fuochi sull'asse y, avente distanza focale pari a 20 e un asintoto di equazione  $y = \frac{4}{3}x$ ;
- con i fuochi sull'asse x, un asintoto di equazione  $y = \frac{3}{4}x$  e passante per il punto  $(10; \frac{9}{2})$ .

A. Dalle le informazioni date, ricavo il sistema:

$$\begin{cases} 2c = 20 \\ \frac{b}{a} = \frac{4}{3} \end{cases} \quad \begin{cases} c = 10 \\ b = \frac{4}{3}a \end{cases} \quad \begin{cases} a^2 + b^2 = 100 \\ b = \frac{4}{3}a \end{cases} \quad \begin{cases} a^2 + \frac{16}{9}a^2 = 100 \\ b = \frac{4}{3}a \end{cases} \quad \begin{cases} a^2 = 36 \\ b^2 = 64 \end{cases} \quad \frac{x^2}{36} - \frac{y^2}{64} = -1$$

B. Dalle le informazioni date, ricavo il sistema:

$$\begin{cases} \frac{b}{a} = \frac{3}{4} \\ \frac{100}{a^2} - \frac{81}{4b^2} = 1 \end{cases} \quad \begin{cases} b = \frac{3}{4}a \\ \frac{100}{a^2} - \frac{36}{a^2} = 1 \end{cases} \quad \begin{cases} b = \frac{3}{4}a \\ \frac{64}{a^2} = 1 \end{cases} \quad \begin{cases} a^2 = 64 \\ b^2 = 36 \end{cases} \quad \frac{x^2}{64} - \frac{y^2}{36} = 1$$

3. Determina l'equazione dell'iperbole equilatera riferita ai propri asintoti passante per il punto  $(-\frac{3}{4}; \frac{4}{3})$ .

L'iperbole equilatera riferita ai propri asintoti ha generica equazione  $xy=k$ . Sostituendo le coordinate del punto dato, ottengo l'equazione:

$$xy = -1$$

4. Determina l'equazione dell'iperbole equilatera riferita ai propri assi di simmetria passante per il punto  $(0; 2)$ .

L'iperbole equilatera riferita ai propri assi di simmetria ha generica equazione:  $x^2 - y^2 = \pm a^2$ . Considerato che il punto dato è un vertice reale, l'equazione è:  $x^2 - y^2 = -a^2$  con  $a$  pari a 2, cioè:  $x^2 - y^2 = -4$

5. Data l'equazione  $y = \frac{2x}{cx-d}$ , determina  $a, d \in \mathbb{R}$  in modo che il grafico abbia asintoti  $x = 3$  e  $y = 1$ .

La generica espressione degli asintoti è:  $x = -\frac{d}{c}$ ,  $y = \frac{a}{c}$ , perciò ottengo il sistema:

$$\begin{cases} \frac{d}{c} = 3 \\ \frac{2}{c} = 1 \end{cases} \quad \begin{cases} d = 6 \\ c = 2 \end{cases} \quad y = \frac{2x}{2x-6}$$

6. Determina l'equazione del luogo geometrico dei punti del piano per i quali la differenza delle distanze dai punti  $(-1; 2)$  e  $(9; 2)$  è uguale a 6. Rappresenta l'equazione così determinata.

PROCEDIMENTO 1: Il luogo geometrico dei punti del piano per i quali è costante la differenza delle distanze da due punti fissi è l'iperbole. In questo caso il centro di simmetria dell'iperbole corrisponde al punto medio tra i due punti, ovvero i fuochi:  $M(4; 2)$ . Inoltre la distanza focale è pari a 10, perciò  $c = 5$  e, visto che la differenza delle distanze è 6, ovvero  $2a$ ,  $a = 3$ . Dalla relazione che esiste tra  $a$  e  $c$ , posso ricavare  $b$ :  $b^2 = c^2 - a^2 = 16$ . Quindi posso determinare l'equazione dell'iperbole con centro di simmetria nell'origine e poi traslarla con il vettore  $\vec{v}(4; 2)$ :

$$\frac{x^2}{9} - \frac{y^2}{16} = 1 \quad \Rightarrow \quad \frac{(x-4)^2}{9} - \frac{(y-2)^2}{16} = 1$$

PROCEDIMENTO 2: Considerando il punto P di coordinate generiche P(x; y), pongo la differenza delle distanze dai due punti dati uguale a 6:

$$\sqrt{(x+1)^2 + (y-2)^2} - \sqrt{(x-9)^2 + (y-2)^2} = \pm 6$$

Isolo una radice ed elevo entrambi i membri alla seconda:

$$\begin{aligned} \left(\sqrt{(x+1)^2 + (y-2)^2}\right)^2 &= \left(\sqrt{(x-9)^2 + (y-2)^2} \pm 6\right)^2 \\ x^2 + 2x + 1 + (y-2)^2 &= x^2 - 18x + 81 + (y-2)^2 + 36 \pm 12\sqrt{(x-9)^2 + (y-2)^2} \end{aligned}$$

Eseguo i calcoli, isolo la radice ed elevo entrambi i membri alla seconda:  $20x - 116 = \pm 12\sqrt{(x-9)^2 + (y-2)^2}$

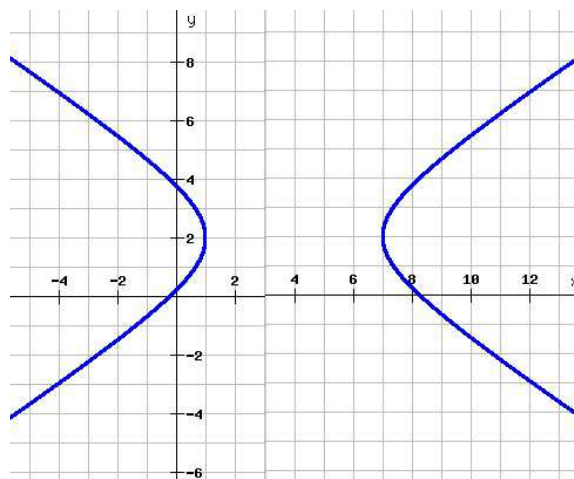
Divido entrambi i membri per 4 prima di elevare alla seconda:  $(5x - 29)^2 = (\pm 3\sqrt{(x-9)^2 + (y-2)^2})^2$

$$\begin{aligned} 25x^2 - 290x + 841 &= 9x^2 - 162x + 729 + 9y^2 - 36y + 36 \\ 16x^2 - 9y^2 - 128x + 36y + 76 &= 0 \end{aligned}$$

L'equazione rappresenta un'iperbole traslata. Per rappresentarla, la esprimo in forma diversa:

$$\begin{aligned} 16x^2 - 128x + 256 - 9y^2 + 36y - 36 + 76 - 256 + 36 &= 0 \\ 16(x-4)^2 - 9(y-2)^2 &= 144 \end{aligned} \quad \frac{(x-4)^2}{9} - \frac{(y-2)^2}{16} = 1$$

In altre parole, è un'iperbole di semiasse trasverso 3 e semiasse non trasverso 4 e traslata secondo il vettore  $(4; 2)$ :



7. Determina l'equazione della tangente all'iperbole  $xy = -1$  nel suo punto di ordinata 2.

Determino innanzi tutto l'ordinata del punto di tangenza, sostituendo l'ordinata 2 nell'equazione dell'iperbole:

$$x \cdot 2 = -1 \quad \Rightarrow \quad x = -\frac{1}{2}$$

Applico la formula di sdoppiamento per determinare l'equazione della tangente:

$$\frac{xy_o + x_o y}{2} = k \quad \Rightarrow \quad \frac{2x - \frac{1}{2}y}{2} = -1 \quad \Rightarrow \quad y = 4x + 4$$

8. Determina l'equazione della tangente all'ellisse  $y^2 + 2x^2 = 12$  nel suo punto di ordinata  $-2$  del quarto quadrante. Verifica inoltre che il triangolo individuato dalla retta con gli assi cartesiani ha area 9.

Determino innanzi tutto l'ascissa del punto di tangenza, sostituendo l'ordinata  $-2$  nell'equazione dell'ellisse:

$$4 + 2x^2 = 12 \quad \Rightarrow \quad x^2 = 4$$

Applico la formula di sdoppiamento per determinare l'equazione della tangente, con le coordinate del punto P (2; -2):

$$yy_o + 2xx_o = 12 \quad \Rightarrow \quad -2y + 4x = 12 \quad \Rightarrow \quad 2x - y - 6 = 0$$

Per determinare l'area del triangolo che la retta forma con gli assi cartesiani, determino l'intersezione della retta con gli assi:

$$\begin{cases} 2x - y - 6 = 0 \\ x = 0 \end{cases} \quad \begin{cases} x = 0 \\ y = -6 \end{cases} \quad A(0; -6)$$

$$\begin{cases} 2x - y - 6 = 0 \\ y = 0 \end{cases} \quad \begin{cases} x = 3 \\ y = 0 \end{cases} \quad B(3; 0)$$

Il triangolo che si viene a formare è un triangolo rettangolo, con l'angolo retto nell'origine del piano cartesiano e i cateti di misura pari al valore assoluto dell'ordinata di A e al valore assoluto dell'ascissa B, perciò possiamo determinare l'area del triangolo:

$$\frac{\overline{AO} \cdot \overline{BO}}{2} = 6 \cdot 3 \cdot \frac{1}{2} = 9 \quad \text{c. v. d.}$$

9. Determina l'equazione delle tangenti all'iperbole  $x^2 - 16y^2 = 25$ , perpendicolari alla retta  $2x + y = 0$ .

Considero il fascio di rette perpendicolari alla retta data:  $y = \frac{1}{2}x + k$ .

Metto a sistema l'equazione del fascio con l'equazione dell'iperbole e pongo  $\Delta = 0$  nell'equazione risolvente:

$$\begin{cases} y = \frac{1}{2}x + k \\ x^2 - 16y^2 = 25 \end{cases} \quad x^2 - 16\left(\frac{1}{2}x + k\right)^2 = 25 \quad \Rightarrow \quad -3x^2 - 16kx - 16k^2 - 25 = 0$$

$$\frac{\Delta}{4} = 64k^2 - 48k^2 - 75 = 0 \quad \Rightarrow \quad k = \pm \frac{5\sqrt{3}}{4}$$

Le equazioni delle rette tangenti sono dunque:  $x - 2y \pm \frac{5\sqrt{3}}{2} = 0$

10. Risolvi graficamente la disequazione:  $\sqrt{-4x^2 + 9} > 2x + 3$ .

Dai due membri della disequazione, ricaviamo le equazioni di due funzioni:

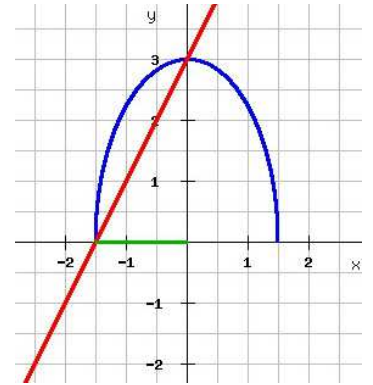
$$y = \sqrt{-4x^2 + 9} \quad \text{e} \quad y = 2x + 3.$$

La prima funzione è equivalente al sistema:  $\begin{cases} y \geq 0 \\ 4x^2 + y^2 = 9 \end{cases}$

che rappresenta metà di un'ellisse con i fuochi sull'asse y.

Il dominio di questa funzione è:  $-\frac{3}{2} \leq x \leq \frac{3}{2}$ .

La seconda funzione corrisponde alla retta. Dal grafico possiamo dedurre la soluzione:  $-\frac{3}{2} < x < 0$ .



11. Determina l'equazione della funzione omografica di vertici reali  $(-3; -1)$  e  $(1; -5)$ .

I vertici di un'iperbole sono sempre simmetrici rispetto al centro di simmetria, che posso determinare facendo il punto medio:  $O'(-1; -3)$ .

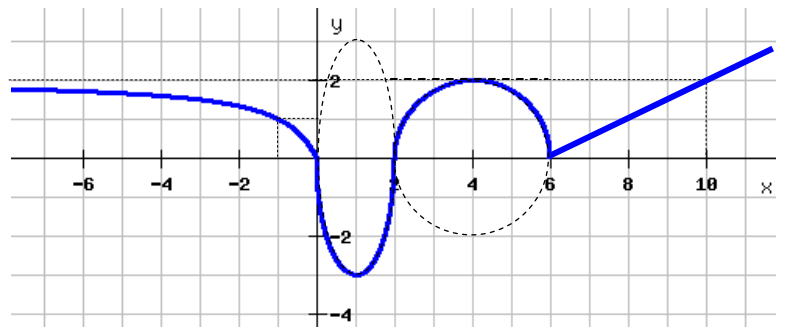
Avendo il centro di simmetria, posso considerare le coordinate generiche del centro di simmetria e il passaggio per uno dei due punti, da cui deriva il sistema:

$$\begin{cases} -\frac{d}{c} = -1 \\ \frac{a}{c} = -3 \\ -1 = \frac{-3a + b}{-3c + d} \end{cases} \quad \begin{cases} d = c \\ a = -3c \\ 9c + b = 3c - c \end{cases} \quad y = \frac{-3cx - 7c}{cx + c} = \frac{c(-3x - 7)}{c(1 - x)} \quad y = \frac{-3x - 7}{x + 1}$$

12. Trova l'equazione corrispondente al seguente grafico, utilizzando i dati della figura:

La prima è la funzione omografica con asintoto orizzontale  $y = 2$ , passante per l'origine e per il punto  $(-1; 1)$ . Ovvero:

$$\begin{cases} \frac{a}{c} = 2 \\ \frac{-a + b}{-c + d} = 1 \\ \frac{b}{d} = 0 \end{cases} \quad \begin{cases} a = 2c \\ -2c = -c + d \\ b = 0 \end{cases} \quad \begin{cases} a = 2c \\ b = 0 \\ d = -c \end{cases} \quad y = \frac{2x}{x - 1}$$



La seconda funzione è la metà inferiore di un'ellisse traslata:

$$\frac{(x - 1)^2}{1} + \frac{(y - 0)^2}{9} = 1 \Rightarrow \frac{y^2}{9} = 1 - x^2 + 2x - 1 \Rightarrow y = -3\sqrt{2x - x^2}$$

La terza funzione è la metà superiore di una circonferenza:

$$(x - 4)^2 + (y - 0)^2 = 4 \Rightarrow y^2 = 4 - x^2 + 8x - 16 \Rightarrow y = \sqrt{8x - x^2 - 12}$$

L'ultima funzione è la retta passante per i punti  $(6; 0)$  e  $(10; 2)$ :

$$\frac{x - 6}{10 - 6} = \frac{y - 0}{2 - 0} \quad y = \frac{1}{2}x - 3$$

A questo punto possiamo scrivere l'equazione dell'intera funzione:  $y = \begin{cases} \frac{2x}{x-1} & \text{se } x \leq 0 \\ -3\sqrt{2x - x^2} & \text{se } 0 < x \leq 2 \\ \sqrt{8x - x^2 - 12} & \text{se } 2 < x \leq 6 \\ \frac{1}{2}x - 3 & \text{se } x > 6 \end{cases}$